



ਉੱਡਾਣ



ਸੈਸ਼ਨ 2019-20 ਦੀ ਦੁਹਰਾਈ

ਸ਼ੀਟ ਨੰ: 01

ਮਿਤੀ 01-04-2020

Q 1. ਅੰਗਰੇਜੀ ਸ਼ਬਦਕੋਸ਼ ਅਨੁਸਾਰ ਕਿਹੜਾ ਸ਼ਬਦ ਪਹਿਲਾ ਆਵੇਗਾ?


(ੳ) Chair (ਅ) Charm (ੲ) Champ (ਸ) Chain

Q 2. ਕਿਹੜਾ ਵਿਟਾਮਿਨ ਖੂਨ ਦੇ ਜੰਮਣ ਵਿੱਚ ਮੱਦਦ ਕਰਦਾ ਹੈ?

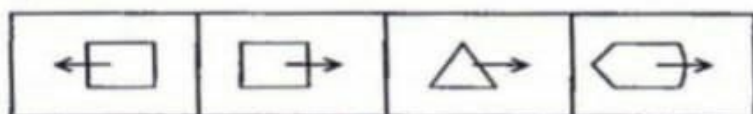
Which vitamin helps in clotting of blood ?

(ੳ) Vitamin D (ਅ) Vitamin K (ੲ) Vitamin A (ਸ) Vitamin E

Q 3. ਤਰਤੀਬ ਸਹੀ ਕਰਨ ਲਈ ਉੱਤਰ ਚਿੱਤਰ ਵਿੱਚੋਂ ਸਹੀ ਉੱਤਰ ਲੱਭੋ?



ਉੱਤਰ ਚਿੱਤਰ



(ੳ)

(ਅ)

(ੲ)

(ਸ)

Q 4. ਜਿਹਨਾਂ ਸੰਖਿਆਵਾਂ ਦਾ ਸਿਰਫ ਇੱਕ ਹੀ ਸਾਂਝਾ ਗੁਣਨਖੰਡ ਹੋਵੇ ਉਹਨਾਂ ਨੂੰ ਕੀ ਕਿਹਾ ਜਾਂਦਾ ਹੈ?

What are the numbers that have only one common factor?

(ੳ) ਅਭਾਜ ਸੰਖਿਆਵਾਂ (Prime numbers)

(ਅ) ਜਿਸਤ ਸੰਖਿਆਵਾਂ (Even numbers)

(ੲ) ਟਾਂਕ ਸੰਖਿਆਵਾਂ (odd numbers)

(ਸ) ਸਹਿ-ਅਭਾਜ ਸੰਖਿਆਵਾਂ (Co-Prime numbers)

Q 5. 'ਪ੍ਰਿੰਟ' ਕਰਨ ਦਾ ਆਦੇਸ਼ ਦੇਣ ਲਈ ਕੰਪਿਊਟਰ ਵਿੱਚ ਕਿਸ ਸ਼ਾਰਟ ਕੱਟ ਦੀ ਵਰਤੋਂ ਕੀਤੀ ਜਾਂਦੀ ਹੈ?

Which Shortcut key is used to command 'Print' in the computer?

(ੳ) Ctrl+V

(ਅ) Ctrl+P

(ੲ) Ctrl+A

(ਸ) Ctrl+C

ਕੋਰੋਨਾ ਵਾਇਰਸ ਕਿਵੇਂ ਫੈਲਦਾ ਹੈ?

• ਕੋਰੋਨਾ ਵਾਇਰਸ (COVID-19) ਨਾਲ ਪੀੜਤ ਵਿਅਕਤੀ ਦੇ ਸੰਪਰਕ ਵਿੱਚ ਆਉਣ ਨਾਲ।

ਲੱਛਣ :

- ✓ ਬੁਖਾਰ
- ✓ ਖਾਸੀ
- ✓ ਸਿਰ ਦਰਦ
- ✓ ਸਾਹ ਲੈਣ ਵਿੱਚ ਤਕਲੀਫ
- ✓ ਥਕਾਵਟ

ਕੋਰੋਨਾ ਵਾਇਰਸ ਤੋਂ ਬਚਾਅ :

- ਹੱਥਾਂ ਨੂੰ ਸਾਬਣ ਅਤੇ ਪਾਣੀ ਨਾਲ ਚੰਗੀ ਤਰ੍ਹਾਂ ਧੋਵੋ ਜਾਂ ਅਲਕੋਹਲ ਬੇਸਡ ਹੈਂਡ ਸੈਨੀਟਾਈਜ਼ਰ ਦੀ ਵਰਤੋਂ ਕਰੋ।
- ਜਿਸ ਵਿਅਕਤੀ ਨੂੰ ਕੋਰੋਨਾ ਵਾਇਰਸ ਦੇ ਲੱਛਣ ਹੋਣ ਉਸਤੋਂ ਦੂਰੀ ਬਣਾਕੇ ਰੱਖੋ।
- ਖਾਸੀ ਕਰਦੇ ਜਾਂ ਫਿੱਕਣ ਵੇਲੇ ਨੱਕ ਅਤੇ ਮੂੰਹ ਨੂੰ ਢੱਕ ਕੇ ਰੱਖੋ।
- ਘਰ ਵਿੱਚ ਹੀ ਰਹੋ। ਆਪਣੇ ਆਪ ਨੂੰ, ਆਪਣੇ ਪਰਿਵਾਰ ਨੂੰ ਅਤੇ ਸਮਾਜ ਨੂੰ ਕੋਰੋਨਾ ਵਾਇਰਸ ਤੋਂ ਬਚਾਓ, ਜਿੰਮੇਵਾਰ ਬਣੋ।

“ਘਰ ਰਹੋ, ਸਿਹਤਮੰਦ ਰਹੋ”

ਸਕੂਲ ਸਿੱਖਿਆ ਵਿਭਾਗ, ਪੰਜਾਬ



ਉਡਾਣ



ਛੇਵੀਂ ਤੋਂ ਬਾਰਵੀਂ ਜਮਾਤ ਦੇ ਵਿਦਿਆਰਥੀਆਂ ਲਈ
ਦੁਹਰਾਈ ਸ਼ੀਟ ਨੰ: 02

ਮਿਤੀ 02-04-2020

Qu 6. Who is called "Iron man of india"?

“ਲੋਹ ਪੁਰਸ਼” ਕਿਸ ਨੂੰ ਕਿਹਾ ਜਾਂਦਾ ਹੈ?

- (ੳ) Sardar Ballabhbhai Patel (ਅ) Bipin Chadra Pal
(ੲ) Lala Lajpat Rai (ਸ) Mahatma Gandhi

Qu 7. Whose birthday is celebrated as 'Teacher's Day' ?

ਕਿਸ ਦੇ ਜਨਮ ਦਿਵਸ ਨੂੰ 'ਅਧਿਆਪਕ ਦਿਵਸ' ਦੇ ਤੌਰ ਤੇ ਮਨਾਇਆ ਜਾਂਦਾ ਹੈ?





- (ੳ) Jawahar Lal Nehru (ਅ) S. Radha Krishnan
(ੲ) Indira Gandhi (ਸ) Mahatma Gandhi

Qu 8. Who is called the father of computer ?

ਕੰਪਿਊਟਰ ਦਾ ਪਿਤਾਮਾ ਕਿਸ ਨੂੰ ਕਿਹਾ ਜਾਂਦਾ ਹੈ?

- (ੳ) Thales (ਅ) Charles Babbage (ੲ) Aryabhatta (ਸ) Edison

ਪ੍ਰਸ਼ਨ 9. Find odd one out from given figures ?

- (ੳ)  (ਅ)  (ੲ)  (ਸ) 

ਪ੍ਰਸ਼ਨ 10. “ਹਾਕੀ ਦਾ ਜਾਦੂਗਰ” ਕਿਸ ਭਾਰਤੀ ਖਿਡਾਰੀ ਨੂੰ ਕਿਹਾ ਜਾਂਦਾ ਹੈ?

- (ੳ) ਮਿਲਖਾ ਸਿੰਘ (ਅ) ਪਰਗਟ ਸਿੰਘ (ੲ) ਮੇਜਰ ਧਿਆਨ ਚੰਦ (ਸ) ਸਚਿਨ ਤੇਂਦੁਲਕਰ

ਕੋਰੋਨਾ ਵਾਇਰਸ ਕਿਵੇਂ ਫੈਲਦਾ ਹੈ?

• ਕੋਰੋਨਾ ਵਾਇਰਸ (COVID-19) ਨਾਲ ਪੀੜਤ ਵਿਅਕਤੀ ਦੇ ਸੰਪਰਕ ਵਿੱਚ ਆਉਣ ਨਾਲ ।

ਲੱਛਣ :

- ✓ ਬੁਖਾਰ ✓ ਖਾਸੀ ✓ ਸਿਰ ਦਰਦ
✓ ਸਾਹ ਲੈਣ ਵਿੱਚ ਤਕਲੀਫ ✓ ਥਕਾਵਟ

ਕੋਰੋਨਾ ਵਾਇਰਸ ਤੋਂ ਬਚਾਅ :

- ਹੱਥਾਂ ਨੂੰ ਸਾਬੁਣ ਅਤੇ ਪਾਣੀ ਨਾਲ ਚੰਗੀ ਤਰ੍ਹਾਂ ਧੋਵੋ ਜਾਂ ਅਲਕੋਹਲ ਬੇਸਡ ਹੈਂਡ ਸੈਨੀਟਾਈਜ਼ਰ ਦੀ ਵਰਤੋਂ ਕਰੋ ।
- ਜਿਸ ਵਿਅਕਤੀ ਨੂੰ ਕੋਰੋਨਾ ਵਾਇਰਸ ਦੇ ਲੱਛਣ ਹੋਣ ਉਸਤੋਂ ਦੂਰੀ ਬਣਾਕੇ ਰੱਖੋ ।
- ਖਾਸੀ ਕਰਦੇ ਜਾਂ ਛਿੱਕਣ ਵੇਲੇ ਨੱਕ ਅਤੇ ਮੂੰਹ ਨੂੰ ਢੱਕ ਕੇ ਰੱਖੋ ।
- ਘਰ ਵਿੱਚ ਹੀ ਰਹੋ । ਆਪਣੇ ਆਪ ਨੂੰ, ਆਪਣੇ ਪਰਿਵਾਰ ਨੂੰ ਅਤੇ ਸਮਾਜ ਨੂੰ ਕੋਰੋਨਾ ਵਾਇਰਸ ਤੋਂ ਬਚਾਓ, ਜਿੰਮੇਵਾਰ ਬਣੋ ।

ਸ਼ੀਟ ਨੰਬਰ 1 ਦੇ ਸਹੀ ਉੱਤਰ

ਪ੍ਰਸ਼ਨ 1. (ਸ) Chain

ਪ੍ਰਸ਼ਨ 2. (ਅ) Vitamin K

ਪ੍ਰਸ਼ਨ 3. (ਅ)

ਪ੍ਰਸ਼ਨ 4. (ਸ) ਸਹਿ-ਅਭਾਜ ਸੰਖਿਆਵਾਂ (Co-Prime numbers)

ਪ੍ਰਸ਼ਨ 5. (ਅ) Ctrl+P



ਸਕੂਲ ਸਿੱਖਿਆ ਵਿਭਾਗ, ਪੰਜਾਬ



ਉਡਾਣ



ਛੇਵੀਂ ਤੋਂ ਬਾਰਵੀਂ ਜਮਾਤ ਦੇ ਵਿਦਿਆਰਥੀਆਂ ਲਈ
ਦੁਹਰਾਈ ਸ਼ੀਟ ਨੰ: 03 ਮਿਤੀ 03-04-2020

Q 11. ਕਿਸ ਬਾਦਸ਼ਾਹ ਨੂੰ ਮੈਸੂਰ ਦਾ ਟਾਈਗਰ ਕਿਹਾ ਜਾਂਦਾ ਹੈ?

Who is called 'Tiger of Mysor'?

(ੳ) ਹੈਦਰ ਅਲੀ (ਅ) ਟੀਪੂ ਸੁਲਤਾਨ (ੲ) ਬਾਬਰ (ਸ) ਸ਼ਾਹ ਮੁਹੰਮਦ

Q 12. ਹੇਠ ਦਿੱਤੇ ਸ਼ਬਦਾਂ ਵਿੱਚੋਂ ਢੁੱਕਵਾਂ ਖਾਲੀ ਸਥਾਨ ਭਰੋ। Identify the relation between words and fill in the blank with most appropriate word.

GOOD:BAD:: HAPPY:

(ੳ) Sad (ਅ) Great (ੲ) Smile (ਸ) Play

Q 13. ਉਲਪਿੰਕ ਲੋਗੋ ਵਿੱਚ ਕਿੰਨੇ ਚੱਕਰ ਹੁੰਦੇ ਹਨ?

Olympic Logo consists of how many rings or circles?

(ੳ) 4 (ਅ) 5 (ੲ) 6 (ਸ) 7

Q 14. Which is the full form of AIDS....

(ੳ) Acquired Immune Deficiency Syndrome

(ਅ) Acquired Immune Deficiency System

(ੲ) Acquired Immune Defected Syndrome

(ਸ) Aid by society

Q 15. ਤਰਤੀਬ ਸਹੀ ਕਰਨ ਲਈ ਉੱਤਰ ਚਿਤਰ ਵਿੱਚੋਂ ਸਹੀ ਉੱਤਰ ਲੱਭੋ?

(ਉੱਤਰ ਚਿੱਤਰ)

(ੳ) (ਅ) (ੲ) (ਸ)



ਕੋਰੋਨਾ ਵਾਇਰਸ ਕਿਵੇਂ ਫੈਲਦਾ ਹੈ?

• ਕੋਰੋਨਾ ਵਾਇਰਸ (COVID-19) ਨਾਲ ਪੀੜਤ ਵਿਅਕਤੀ ਦੇ ਸੰਪਰਕ ਵਿੱਚ ਆਉਣ ਨਾਲ।

ਲੱਛਣ :

✓ ਬੁਖਾਰ ✓ ਖਾਸੀ ✓ ਸਿਰ ਦਰਦ
✓ ਸਾਹ ਲੈਣ ਵਿੱਚ ਤਕਲੀਫ ✓ ਥਕਾਵਟ

ਕੋਰੋਨਾ ਵਾਇਰਸ ਤੋਂ ਬਚਾਅ :

- ਹੱਥਾਂ ਨੂੰ ਸਾਬੁਣ ਅਤੇ ਪਾਣੀ ਨਾਲ ਚੰਗੀ ਤਰ੍ਹਾਂ ਧੋਵੋ ਜਾਂ ਅਲਕੋਹਲ ਬੇਸਡ ਹੈਂਡ ਸੈਨੀਟਾਈਜ਼ਰ ਦੀ ਵਰਤੋਂ ਕਰੋ।
- ਜਿਸ ਵਿਅਕਤੀ ਨੂੰ ਕੋਰੋਨਾ ਵਾਇਰਸ ਦੇ ਲੱਛਣ ਹੋਣ ਉਸਤੋਂ ਦੂਰੀ ਬਣਾਕੇ ਰੱਖੋ।
- ਖਾਸੀ ਕਰਦੇ ਜਾਂ ਛਿੱਕਣ ਵੇਲੇ ਨੱਕ ਅਤੇ ਮੂੰਹ ਨੂੰ ਢੱਕ ਕੇ ਰੱਖੋ।
- ਘਰ ਵਿੱਚ ਹੀ ਰਹੋ। ਆਪਣੇ ਆਪ ਨੂੰ, ਆਪਣੇ ਪਰਿਵਾਰ ਨੂੰ ਅਤੇ ਸਮਾਜ ਨੂੰ ਕੋਰੋਨਾ ਵਾਇਰਸ ਤੋਂ ਬਚਾਓ, ਜਿੰਮੇਵਾਰ ਬਣੋ।

ਸ਼ੀਟ ਨੰਬਰ 2 ਦੇ ਸਹੀ ਉੱਤਰ

ਪ੍ਰਸ਼ਨ 6. (ੳ) Sardar Ballabhbai Patel ਪ੍ਰਸ਼ਨ 7. (ਅ) S. Radha Krishnan

ਪ੍ਰਸ਼ਨ 8. (ਅ) Charles Babbage ਪ੍ਰਸ਼ਨ 9. (ੲ)

ਪ੍ਰਸ਼ਨ 10. (ੲ) ਮੇਜਰ ਧਿਆਨ ਚੰਦ

“ਟੋਲ ਫਰੀ ਮੈਡੀਕਲ ਹੈਲਪਲਾਈਨ ਡਾਇਲ ਕਰੋ 104”

ਸਕੂਲ ਸਿੱਖਿਆ ਵਿਭਾਗ, ਪੰਜਾਬ



ਉਡਾਣ



ਛੇਵੀਂ ਤੋਂ ਬਾਰਵੀਂ ਜਮਾਤ ਦੇ ਵਿਦਿਆਰਥੀਆਂ ਲਈ
ਦੁਹਰਾਈ ਸ਼ੀਟ ਨੰ: 05

ਮਿਤੀ 05-04-2020

Q 21. ਉਹ ਅੱਖਰ ਜਿਹੜਾ ਦੋ ਅੱਖਰਾਂ ਦੇ ਮੇਲ ਤੋਂ ਬਣੇ ਨੂੰਕਿਹਾ ਜਾਂਦਾ ਹੈ।

(ੳ) ਸਵਰ ਅੱਖਰ (ਅ) ਅਨੁਨਾਸ਼ਕੀ ਅੱਖਰ (ੲ) ਵਿਸ਼ੇਸ਼ਣ (ਸ) ਦੁੱਤ ਅੱਖਰ

Q 22. ਭੂਚਾਲ ਮਾਪਣ ਵਾਲੇ ਯੰਤਰ ਨੂੰ ਕੀ ਕਿਹਾ ਜਾਂਦਾ ਹੈ?

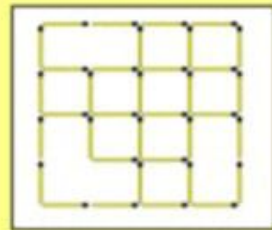
What is the device used to measure earthquake called?

(ੳ) ਥਰਮਾਮੀਟਰ (Thermometer) (ਅ) ਬੈਰੋਮੀਟਰ (Barometer)
(ੲ) ਵੋਲਟਮੀਟਰ (Voltmeter) (ਸ) ਸਿਜ਼ਮੋਗ੍ਰਾਫ (Seismograph)

Q 23. ਇਸ ਤਸਵੀਰ ਵਿੱਚ ਕਿੰਨੇ ਵਰਗ ਹਨ?

How many squares are there in this picture?

(ੳ) 14 (ਅ) 15 (ੲ) 18 (ਸ) 16



Q 24. Full form of DPI in Education Department ?

(ੳ) Director Public Internet (ਅ) Department of Personnel Investigation
(ੲ) Director Private Instruction (ਸ) Director Public Instructions

Q 25. ਹੇਠ ਲਿਖਿਆਂ ਵਿੱਚੋਂ ਕਿਹੜਾ ਗਰੁੱਪ ਸਰਵ ਵਿਆਪੀ ਖੂਨ ਪ੍ਰਾਪਤ ਕਰਤਾ ਹੈ?

Which of the following blood group is a universal recipient?

(ੳ) A (ਅ) B (ੲ) AB (ਸ) O

ਨੋਵਲ ਕੋਰੋਨਾ ਵਾਇਰਸ (ਕੋਵਿਡ-19)

ਕਿਵੇਂ ਫੈਲਦਾ ਹੈ ?

ਪੀੜ੍ਹਾ ਨਿਕਲਣੀ ਦੇ ਸਮੇਂ ਵਿੱਚ ਆਉਣ ਨਾਲ ਜਾਂ ਨਿੱਕਾ ਆਉਣ ਵੇਲੇ ਨਹਾਨਾ/ਜੁੱਛ/ਕਿੱਟੇ ਦੇ ਸਮੇਂ ਵਿੱਚ ਆਉਣ ਨਾਲ

ਸਾਫ਼

ਬਾ-ਬਾ ਨੂੰ ਹੱਥ ਥੋੜ੍ਹੇ ਕਰਨ ਤੋਂ ਬਾਅਦ ਹੱਥ ਧੋਣਾ ਜਾਂ ਘੱਟੋ ਘੱਟ 20 ਸਕਿੰਟ ਲਈ ਧੋਣਾ

ਕਿਸੇ ਨਿਕਲਣੀ ਨੂੰ ਠੀਕ ਤਰੀਕੇ ਨਾਲ ਠੀਕ ਕਰਨ ਤੋਂ ਬਾਅਦ ਹੱਥ ਧੋਣਾ ਜਾਂ ਘੱਟੋ ਘੱਟ 20 ਸਕਿੰਟ ਲਈ ਧੋਣਾ

ਕਿਸੇ ਨਿਕਲਣੀ ਨੂੰ ਠੀਕ ਤਰੀਕੇ ਨਾਲ ਠੀਕ ਕਰਨ ਤੋਂ ਬਾਅਦ ਹੱਥ ਧੋਣਾ ਜਾਂ ਘੱਟੋ ਘੱਟ 20 ਸਕਿੰਟ ਲਈ ਧੋਣਾ

ਨਾਬੰਦ

ਸ਼ਰਾਬ

ਖਾਣੀ

ਸਾਫ਼ ਸ਼ੀਟ ਵਿੱਚ ਸ਼ਰਾਬੀ

ਬਚਾਅ

ਕੀ ਕਰੋ

- ਖਾਣੀ ਖਾਣ ਨੂੰ, ਖਾਣੀ ਪੀਣ ਨੂੰ ਅਤੇ ਸ਼ਰਾਬ ਨੂੰ ਸਿੱਕਾ ਵਰਤਣ ਤੋਂ ਬਚੋ, ਸਿੱਕਾ ਖਰੋ
- ਸੰਕੇਤ ਹੁੰਦੇ ਵਾਲੇ ਸਮੇਂ ਹੋਰ ਚੁੱਕੀਆਂ ਨਿਕਲਣੀਆਂ ਨੂੰ ਸਿੱਕਾ ਵਿੱਚ ਆਂ ਤੇ ਹਾਂ ਹੁਣੇ 14 ਦਿਨ ਤੋਂ ਘੱਟ ਸਮੇਂ ਲਈ ਸੰਕੇਤ ਨਿੱਕਾ ਖਰੋ

ਨੈਸ਼ਨਲ ਹੈਲਥ ਅਥਾਰਟੀ, ਸਿਹਤ ਤੇ ਪਰਿਵਾਰ ਫ਼ਲਾਈ ਵਿਭਾਗ, ਪੰਜਾਬ

104

ਸ਼ੀਟ ਨੰਬਰ 4 ਦੇ ਸਹੀ ਉੱਤਰ

ਪ੍ਰਸ਼ਨ 16.(ਸ) ਸਟੈਪਜ਼, ਕੰਨ ਦੀ ਹੱਡੀ (stapes ,Ear Bone) ਪ੍ਰਸ਼ਨ 17. (ੲ) ਵਹਿੰਗੀ

ਪ੍ਰਸ਼ਨ 18. (ੳ) ਸਹਾਰਾ (Sahara) ਪ੍ਰਸ਼ਨ 19. (ੳ) ਜੰਗਲਾਂ ਨੂੰ ਬਚਾਉਣਾ

ਪ੍ਰਸ਼ਨ 20. (ਸ) 5 ਘੰਟੇ 30 ਮਿੰਟ

“Avoid Handshake”

ਸਕੂਲ ਸਿੱਖਿਆ ਵਿਭਾਗ, ਪੰਜਾਬ



ਉਡਾਣ



ਛੇਵੀਂ ਤੋਂ ਬਾਰਵੀਂ ਜਮਾਤ ਦੇ ਵਿਦਿਆਰਥੀਆਂ ਲਈ
ਦੁਹਰਾਈ ਸ਼ੀਟ ਨੰ: 06 ਮਿਤੀ 06-04-2020

Q 26. ਮਨੁੱਖੀ ਸਰੀਰ ਦਾ ਸਭ ਤੋਂ ਵੱਡਾ ਅੰਗ ਕਿਹੜਾ ਹੈ?

Which is the largest organ of human body?

(ੳ) ਦਿਮਾਗ (Brain) (ਅ) ਦਿਲ (Heart) (ੲ) ਚਮੜੀ (Skin) (ਸ) ਜਿਗਰ (Liver)

Q 27. ਰੰਗਦਾਰ ਨਕਸ਼ਿਆਂ ਵਿੱਚ ਮਹਾਂਸਾਗਰ/ ਜਲ ਪਿੰਡਾਂ ਨੂੰ ਕਿਹੜੇ ਰੰਗ ਨਾਲ ਦਰਸਾਇਆ ਜਾਂਦਾ ਹੈ?

By which colour ocean/ water bodies are represented on the colourful maps?

(ੳ) ਲਾਲ (Red) (ਅ) ਨੀਲਾ (Blue) (ੲ) ਸਫੈਦ (White) (ਸ) ਹਰਾ (Green)

Q 28. ਜਿਸ ਵਾਕ ਵਿੱਚ ਪ੍ਰਸ਼ਨ ਪੁੱਛਿਆ ਗਿਆ ਹੋਵੇ, ਉਸ ਵਾਕ ਦੇ ਅੰਤ ਵਿੱਚ ਕਿਹੜਾ ਵਿਸਰਾਮ ਚਿੰਨ੍ਹ ਲਗਾਇਆ ਜਾਂਦਾ ਹੈ?

(ੳ) ਡੰਡੀ (ਅ) ਵਿਸਮਿਕ ਚਿੰਨ੍ਹ (ੲ) ਕੌਮਾ (ਸ) ਪ੍ਰਸ਼ਨ ਚਿੰਨ੍ਹ


Q 29. ਭਾਰਤ ਸਰਕਾਰ ਵੱਲੋਂ ਨਾਗਰਿਕਾਂ ਨੂੰ ਜਾਰੀ ਕੀਤੇ ਜਾਂਦੇ ਆਧਾਰ ਕਾਰਡ ਤੇ ਕਿੰਨੇ ਅੰਕਾਂ ਦਾ ਨੰਬਰ ਹੁੰਦਾ ਹੈ? How many digits are there on a AADHAR Card issued by Govt of India to the citizens?

(ੳ) 10 (ਅ) 12 (ੲ) 6 (ਸ) 14

Q 30. ਤਰਤੀਬ ਸਹੀ ਕਰਨ ਲਈ ਉੱਤਰ ਚਿੱਤਰ ਵਿੱਚੋਂ ਸਹੀ ਉੱਤਰ ਲੱਭੋ?

ਪ੍ਰਸ਼ਨ ਚਿੱਤਰ

(ਉੱਤਰ ਚਿੱਤਰ)



(ੳ) (ਅ) (ੲ) (ਸ)

ਨੋਵਲ ਕੋਰੋਨਾ ਵਾਇਰਸ (ਕੋਵਿਡ-19)

ਕਿਵੇਂ ਫੈਲਦਾ ਹੈ?

ਪੀੜ੍ਹਤ ਵਿਅਕਤੀ ਦੇ ਨਿਸ਼ਾਨ ਵਿੱਚ ਆਉਣ ਨਾਲ ਜਾਂ ਨਿੱਠਾ ਆਉਣ ਵੇਲੇ ਨਿਸ਼ਾਨ/ਤੁਕ/ਬਿੰਦੇ ਦੇ ਨਿਸ਼ਾਨ ਵਿੱਚ ਆਉਣ ਨਾਲ

ਬਾਧ

ਵਾਸ਼ਾ ਜਾਂ ਹੋਰ ਸ਼ੈਲੀਆਂ ਵਿੱਚ ਹੱਥ ਧੋਣਾ ਜਾਂ ਹੋਰ ਸ਼ੈਲੀਆਂ ਵਿੱਚ ਹੱਥ ਧੋਣਾ

ਸੋਹੇ ਨਿਕਲਣ ਤੋਂ ਪਹਿਲਾਂ ਹੱਥ ਧੋਣਾ

ਜਾਂ ਹੋਰ ਸ਼ੈਲੀਆਂ ਵਿੱਚ ਹੱਥ ਧੋਣਾ

ਕਾਇਮ ਰੱਖੋ

ਸੁਆਧ

ਖਾਣੀ

ਸਾਹ ਲੈਣ ਵਿੱਚ ਸਾਵਧਾਨੀ

ਥਕਾਵਟ

ਜੀ ਥੀ

ਖਾਣੀ ਖਾਣ ਤੋਂ ਪਹਿਲਾਂ ਹੱਥ ਧੋਣਾ ਜਾਂ ਹੋਰ ਸ਼ੈਲੀਆਂ ਵਿੱਚ ਹੱਥ ਧੋਣਾ

ਕੋਰੋਨਾ ਵਾਇਰਸ ਨੂੰ ਚੁੱਕਣ ਵਾਲੇ ਨੂੰ ਦੂਰ ਰੱਖਣਾ ਜਾਂ ਹੋਰ ਸ਼ੈਲੀਆਂ ਵਿੱਚ ਹੱਥ ਧੋਣਾ

104

ਨੈਸ਼ਨਲ ਪੈਬਲਿਕ ਇਨਸਟ੍ਰਕਸ਼ਨ ਡਾਇਰੈਕਟਰੇਟ, ਪੰਜਾਬ

ਸ਼ੀਟ ਨੰਬਰ 5 ਦੇ ਸਹੀ ਉੱਤਰ

Q21.(ਸ) ਦੁੱਤ ਅੱਖਰ Q22.(ਸ) ਸਿਜ਼ਮੋਗ੍ਰਾਫ (Seismograph) 23.(ਸ) 16

Q24.(ਸ) Director Public Instructions Q25.(ੲ) AB

“ਕੋਰੋਨਾ ਵਾਇਰਸ ਦੇ ਲੱਛਣ-ਬੁਖਾਰ, ਖਾਂਸੀ, ਸਿਰ ਦਰਦ, ਥਕਾਵਟ ਅਤੇ ਸਾਹ ਲੈਣ ਵਿੱਚ ਤਕਲੀਫ”
ਸਕੂਲ ਸਿੱਖਿਆ ਵਿਭਾਗ, ਪੰਜਾਬ



ਉਡਾਣ



ਛੇਵੀਂ ਤੋਂ ਬਾਰਵੀਂ ਜਮਾਤ ਦੇ ਵਿਦਿਆਰਥੀਆਂ ਲਈ
ਦੁਹਰਾਈ ਸ਼ੀਟ ਨੰ: 07

ਮਿਤੀ 07-04-2020

Q 31. 'ਸੁੱਧ ਸੋਨਾ' ਕਿੰਨੇ ਕੈਰਟ ਸੋਨੇ ਨੂੰ ਕਿਹਾ ਜਾਂਦਾ ਹੈ?

How many carat of gold is called 'pure gold'?

- (ੳ) 24 ਕੈਰੇਟ ਸੋਨਾ (24 carat gold) (ਅ) 23 ਕੈਰੇਟ ਸੋਨਾ (24 carat gold)
(ੲ) 20 ਕੈਰੇਟ ਸੋਨਾ (20 carat gold) (ਸ) 22 ਕੈਰੇਟ ਸੋਨਾ (22 carat gold)

Q 32. 'ਚਾਰ ਮੀਨਾਰ' ਕਿਸ ਸ਼ਹਿਰ ਵਿੱਚ ਹੈ?

In which city the 'Charminar' is located?

- (ੳ) ਜੈਪੁਰ(Jaipur) (ਅ) ਹੈਦਰਾਬਾਦ(Hydrabad)
(ੲ) ਪਟਨਾ(Patna) (ਸ) ਚੇਨਈ(Chennai)

Q 33. ਭਾਰਤ ਵਿੱਚ ਸੂਤੀ ਕੱਪੜੇ ਦਾ ਪਹਿਲਾ ਕਾਰਖਾਨਾ ਕਦੋਂ ਅਤੇ ਕਿੱਥੇ ਲਗਾਇਆ ਗਿਆ?

When and where was the first cotton textile mill established in India ?

- (ੳ) 1834 ਈ., ਗੁਹਾਟੀ (ਅ) 1853 ਈ., ਮੁੰਬਈ
(ੲ) 1854 ਈ., ਸੈਰਮਪੁਰ (ਸ) 1885 ਈ., ਰਾਣੀਗੰਜ

Q 34. ਜੇਕਰ ਕਿਸੇ ਕੋਡ ਭਾਸ਼ਾ ਵਿੱਚ TEA ਨੂੰ 2051 ਲਿਖਿਆ ਜਾਂਦਾ ਹੈ ਤਾਂ ਉਸੇ ਕੋਡ ਭਾਸ਼ਾ ਵਿੱਚ COFFEE ਨੂੰ ਕਿਸ ਤਰ੍ਹਾਂ ਲਿਖਿਆ ਜਾਵੇਗਾ?

In certain code language if TEA is written as 2051 then how will COFFEE be written in the same code language?

- (ੳ) 365566 (ਅ) 316655 (ੲ) 315566 (ਸ) 3156655

Q 35. ਅਨਾਜ ਸਟੋਰ ਕਰਨ ਲਈ ਮਿੱਟੀ ਦੇ ਬਣੇ ਬਰਤਨ ਨੂੰ ਕੀ ਕਿਹਾ ਜਾਂਦਾ ਹੈ।

- (ੳ) ਤਪਲਾ (ਅ) ਢੋਲ (ੲ) ਭੜੋਲਾ (ਸ) ਟੋਕਨੀ

ਸ਼ੀਟ ਨੰਬਰ 6 ਦੇ ਸਹੀ ਉੱਤਰ

Q 26.(ੲ) ਚਮੜੀ (Skin)

Q 27.(ਅ) ਨੀਲਾ Blue

Q 28.(ਸ) ਪ੍ਰਸ਼ਨ ਚਿੰਨ੍ਹ

Q 29.(ਅ) 12

Q 30.(ੲ)

'ਕੋਰੋਨਾ' ਵਾਇਰਸ ਤੋਂ ਬਚਾਅ ਦੇ ਉਪਾਅ

1. ਹੱਥਾਂ ਨੂੰ ਸਾਬੁਣ ਅਤੇ ਪਾਣੀ ਨਾਲ ਚੰਗੀ ਤਰ੍ਹਾਂ ਧੋਓ।
2. ਜਿਸ ਵਿਅਕਤੀ ਨੂੰ ਖਾਂਸੀ, ਜੁਕਾਮ ਜਾਂ ਬੁਖਾਰ ਹੋਵੇ ਤਾਂ ਉਸ ਤੋਂ ਦੂਰੀ ਬਣਾ ਕੇ ਰੱਖੋ।
3. ਖਾਂਸੀ ਕਰਦੇ ਜਾਂ ਛਿੱਕਣ ਵੇਲੇ ਮੂੰਹ ਅਤੇ ਨੱਕ ਢੱਕ ਕੇ ਰੱਖੋ।
4. ਇੱਕ ਦੂਜੇ ਤੋਂ ਸਮਾਜਿਕ ਦੂਰੀ ਬਣਾ ਕੇ ਰੱਖੀ ਜਾਵੇ ਅਤੇ ਹੱਥ ਮਿਲਾਉਣ ਤੋਂ ਪ੍ਰਹੇਜ਼ ਕੀਤਾ ਜਾਵੇ।



ਉਡਾਣ



ਛੇਵੀਂ ਤੋਂ ਬਾਰਵੀਂ ਜਮਾਤ ਦੇ ਵਿਦਿਆਰਥੀਆਂ ਲਈ
ਦੁਹਰਾਈ ਸ਼ੀਟ ਨੰ: 08

ਮਿਤੀ 08-04-2020

Q36. ਗੰਡੋਏ ਦੇ ਕਿੰਨੀਆਂ ਅੱਖਾਂ ਹੁੰਦੀਆਂ ਹਨ?

How many eyes do an earthworm have?

(ੳ) 1 (ਅ) 2 (ੲ) ਕੋਈ ਨਹੀਂ (ਸ) ਬਹੁਤ ਸਾਰੀਆਂ

Q 37. ਧਰਤੀ ਉੱਪਰ ਸਭ ਤੋਂ ਵੱਡਾ ਦੁਧਾਧਾਰੀ ਜੀਵ ਕਿਹੜਾ ਹੈ?

Which is the largest mammal on earth?

(ੳ) Elephant (ਅ) Camel

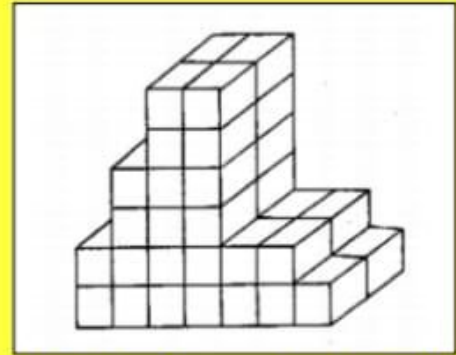
(ੲ) Blue Whale (ਸ) Giraffe

Q 38. ਚਿੱਤਰ ਵਿੱਚ ਕਿੰਨੀਆਂ ਇੱਟਾਂ ਹਨ?

How many bricks are there in the figure?

(ੳ) 40 (ਅ) 38

(ੲ) 46 (ਸ) 52



Q 39. ਹੇਠ ਲਿਖਿਆ ਵਿੱਚੋਂ ਕਿਹੜਾ ਜਿਲ੍ਹਾ ਭਾਰਤ ਦੀ ਕੌਮਾਂਤਰੀ ਸਰਹੱਦ ਤੇ ਸਥਿਤ ਨਹੀਂ ਹੈ?

Which of the following district is not on international border of India?

(ੳ) ਪਠਾਨਕੋਟ (ਅ) ਫਰੀਦਕੋਟ

(ੲ) ਫਾਜ਼ਿਲਕਾ (ਸ) ਤਰਨਤਾਰਨ

Q 40. ਮਨੁੱਖੀ ਖੋਪੜੀ ਦੀਆਂ ਕਿੰਨੀਆਂ ਹੱਡੀਆਂ ਹੁੰਦੀਆਂ ਹਨ?

How many bones make the human skull?

(ੳ) 206 (ਅ) 12 (ੲ) 5 (ਸ) 22

ਸ਼ੀਟ ਨੰਬਰ 7 ਦੇ ਸਹੀ ਉੱਤਰ

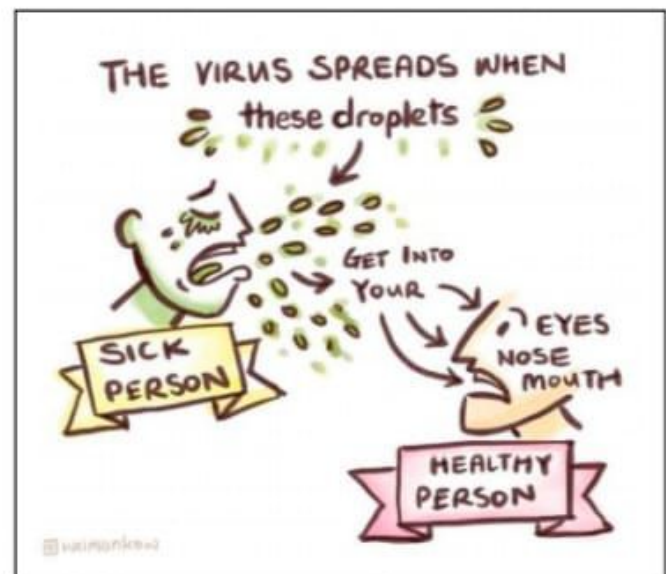
Q 31. (ੳ) 24 ਕੈਰੇਟ ਸੋਨਾ (24 carat gold)

Q 32. (ਅ) ਹੈਦਰਾਬਾਦ (Hydrabad)

Q 33. (ਅ) 1853 ਈ., ਮੁੰਬਈ

Q 34. (ਸ) 3156655

Q 35. (ੲ) ਭੜੋਲਾ



ਸਕੂਲ ਸਿੱਖਿਆ ਵਿਭਾਗ, ਪੰਜਾਬ