
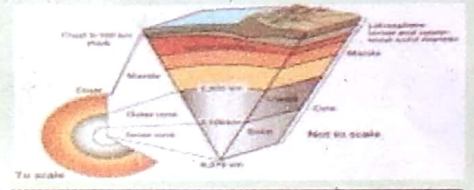


ਪਾਠ - ਵਾਤਾਵਰਣ

ਪ੍ਰ.1 ਦੱਸੋ ਮੈਂ ਕੌਣ ਹਾਂ?

1. ਮੈਂ ਧਰਤੀ ਦੀ ਸਭ ਤੋਂ ਉਪਰਲੀ ਪਰਤ ਹਾਂ, ਮੇਰੇ ਅੰਦਰ ਸਿਲੀਕਾਨ ਅਤੇ ਐਲੂਮੀਨੀਅਮ ਤੱਤ ਸਭ ਤੋਂ ਜ਼ਿਆਦਾ ਹਨ। ਸਿਮਾਸ਼ਠ
2. ਮੈਂ ਤਿੰਨਾਂ ਮੰਡਲਾਂ ਦੇ ਮੇਲ ਨਾਲ ਹੋਂਦ ਵਿੱਚ ਆਉਂਦਾ ਹਾਂ। ਜੀਵ ਮੰਡਲ
3. ਮੈਂ ਧਰਤੀ ਦੇ ਦੁਆਲੇ 1600 ਕਿਲੋਮੀਟਰ ਦੀ ਉਚਾਈ ਤੱਕ ਫੈਲਿਆ ਹੋਇਆ ਹਾਂ। ਵਾਯੂਮੰਡਲ



ਪ੍ਰ.2 ਸਹੀ ਮਿਲਾਨ ਕਰਕੇ ਖਾਲੀ ਥਾਂਵਾਂ ਭਰੋ:


(ੳ)	(ਅ)
1. ਸੀਲੀਕਾਨ ਅਤੇ ਮੈਗਨੀਸ਼ੀਅਮ	1. ਕਿਸੇ ਥਾਂ ਦੇ ਜੀਵ ਮੰਡਲ ਅਤੇ ਉਥੋਂ ਦੇ ਭੌਤਿਕ ਆਲੇ ਦੁਆਲੇ ਨੂੰ ਉਸ ਥਾਂ ਦੀ <u>ਪਰਿਸਥਿਤੀ</u> ਕਹਿੰਦੇ ਹਨ।
2. ਗਲੋਬਲ	2. ਸੀਮਾ ਭਾਗ ਵਿੱਚ <u>ਸਿਲੀਕਾਨ</u> ਅਤੇ <u>ਮੈਗਨੀਸ਼ੀਅਮ</u> ਦੀ ਮਾਤਰਾ ਵਧੇਰੇ ਹੁੰਦੀ ਹੈ।
3. ਪਰਿਸਥਿਤੀ	3. ਮਨੁੱਖ ਦੇ ਉੱਦਮ ਸਦਕਾ ਸਾਰਾ ਵਿਸ਼ਵ ਇੱਕ <u>ਗਲੋਬਲ</u> ਪਿੰਡ ਬਣ ਗਿਆ ਹੈ।

ਪ੍ਰ. 3 ਸਹੀ ਵਿਕਲਪ ਚੁਣੋ:-

1. ਵਾਤਾਵਰਣ ਵਿੱਚ ਹੇਠ ਲਿਖਿਆਂ ਵਿੱਚੋਂ ਕਿਹੜੇ ਤੱਤ ਸ਼ਾਮਿਲ ਹਨ?
(ੳ) ਪਾਣੀ (ਅ) ਭੂਮੀ (ੲ) ਪੇੜ-ਪੌਦੇ (ਸ) ਉਪਰੋਕਤ ਸਾਰੇ
2. ਵਾਤਾਵਰਣ ਦੇ ਹੇਠ ਲਿਖਿਆਂ ਵਿੱਚੋਂ ਕਿਹੜੇ ਅੰਸ਼ ਵਿੱਚ ਸਭ ਤੋਂ ਵੱਧ ਅਦਲਾ ਬਦਲੀ ਹੁੰਦੀ ਹੈ?
(ੳ) ਜਲ ਮੰਡਲ (ਅ) ਥਲਮੰਡਲ (ੲ) ਵਾਯੂ ਮੰਡਲ (ਸ) ਜੀਵ ਮੰਡਲ
3. ਹੇਠ ਲਿਖਿਆਂ ਵਿੱਚੋਂ ਕਿਹੜੀ ਇੱਕ ਧੀਮੀ ਗਤੀ ਨਾਲ ਹੋਣ ਵਾਲੀ ਪ੍ਰਕਿਰਿਆ ਹੈ?
(ੳ) ਅਪਰਦਨ (ਅ) ਭੂਚਾਲ (ੲ) ਜਵਾਲਾਮੁਖੀ ਦਾ ਫਟਨਾ (ਸ) ਸੁਨਾਮੀ

ਪ੍ਰ. 4 ਚਿੱਤਰ ਵਿੱਚ ਦਰਸਾਇਆ ਗਿਆ ਹਿੱਸਾ ਧਰਤੀ ਦੇ ਕਿਸ ਹਿੱਸੇ ਨੂੰ ਦਰਸਾਉਂਦਾ ਹੈ?

ਉੱਤਰ-ਪੱਛਮੀ ਅਤੇ ਥਲਮੰਡਲ



ਪ੍ਰ 5 ਮੰਨ ਲਵੋ ਤੁਸੀਂ ਸਮੁੰਦਰ ਦੇ ਕੋਲ ਰਹਿੰਦੇ ਹੋ। ਤੁਹਾਡੇ ਲਈ ਹੇਠ ਲਿਖਿਆਂ ਵਿੱਚੋਂ ਕਿਹੜਾ ਕਾਰੋਬਾਰ ਕਰਨਾ ਫਾਇਦੇਮੰਦ ਰਹੇਗਾ?

1. ਖੇਤੀ ਕਰਨਾ ()
2. ਡੇਅਰੀ ਫਾਰਮ ()
3. ਮੁਰਗੀ ਪਾਲਨ ()
4. ਮੱਛੀਆਂ ਫੜਨਾ (ਮੱਛੀਆਂ ਫੜਨਾ)

ਪ੍ਰ. 6 ਭਰਵੀਂ ਗਰਮੀ ਦਾ ਦਿਨ ਸੀ। ਸਕੂਲ ਵਿੱਚ ਛੁੱਟੀਆਂ ਚੱਲ ਰਹੀਆਂ ਸਨ। ਪਰ ਫਿਰ ਵੀ ਵਿਦਿਆਰਥੀ ਬਹੁਤ ਉਤਸ਼ਾਹ ਨਾਲ ਸਕੂਲ ਪਹੁੰਚੇ। ਉਹਨਾਂ ਨੇ ਅਧਿਆਪਕਾਂ ਨਾਲ ਮਿਲ ਕੇ ਪਿੰਡ ਵਿੱਚ ਰੈਲੀ ਕੱਢੀ ਅਤੇ ਆਪਣੇ ਆਲੇ ਦੁਆਲੇ ਦੀ ਸਾਂਭ ਸੰਭਾਲ ਬਾਰੇ ਵੱਖ-ਵੱਖ ਪ੍ਰੋਗਰਾਮ ਕੀਤੇ। ਇਸ ਜਾਣਕਾਰੀ ਦੇ ਅਧਾਰ ਤੇ ਦੱਸੋ ਕਿ ਸਕੂਲ ਵਿੱਚ ਕਿਹੜਾ ਦਿਵਸ ਮਨਾਇਆ ਗਿਆ?

1. ਵਾਤਾਵਰਣ ਦਿਵਸ (ਵਾਤਾਵਰਣ ਦਿਵਸ)
2. ਮਹਿਲਾ ਦਿਵਸ ()
3. ਅਜ਼ਾਦੀ ਦਿਵਸ ()
4. ਗਣਤੰਤਰ ਦਿਵਸ ()

ਪ੍ਰ.7 ਹੇਠ ਲਿਖੇ ਪ੍ਰਸ਼ਨਾਂ ਦੇ ਸੰਖੇਪ ਉੱਤਰ ਵਿੱਚ ਲਿਖੋ :-

1) ਵਾਤਾਵਰਣ ਤੋਂ ਕੀ ਭਾਵ ਹੈ?

ਉੱਤਰ : ਵਾਤਾਵਰਣ ਤੋਂ ਭਾਵ ਪੌਦਿਆਂ ਦੇ ਆਲੇ-ਦੁਆਲੇ ਤੋਂ ਹੈ। ਇਸ ਵਿੱਚ ਪੌਦਿਆਂ ਤੇ ਜਲਵਾਯੂ ਦੇ ਤੌਰ 'ਤੇ ਸ਼ਾਮਲ ਹੁੰਦੇ ਹਨ।

2) ਵਾਯੂਮੰਡਲ ਤੇ ਸੰਖੇਪ ਨੋਟ ਲਿਖੋ।

ਉੱਤਰ

ਪੌਦਿਆਂ ਤੇ ਇੱਕ ਖਿੱਚ ਦੀ ਪਠਤ ਹੈ। ਜਿਸ ਨੂੰ ਵਾਯੂਮੰਡਲ ਆਖਦੇ ਹਨ। ਇਹ ਖਿੱਚ ਪੌਦਿਆਂ ਦੇ ਆਲੇ-ਦੁਆਲੇ ਲੱਗਤਾਰ ਕਿ. ਮੀ. ਤੱਕ ਫੈਲਿਆ ਹੋਇਆ ਹੈ। 1600

3) ਤਿੰਨਾਂ ਮੰਡਲਾਂ ਦੇ ਸੁਮੇਲ ਕਰਕੇ ਹੌਂਦ ਵਿੱਚ ਆਉਣ ਵਾਲੇ ਮੰਡਲ ਬਾਰੇ ਸੰਖੇਪ ਜਾਣਕਾਰੀ ਦਿਓ।

ਉੱਤਰ

ਸ਼ੀਟ ਮੰਡਲ ਤਿੰਨਾਂ ਮੰਡਲਾਂ ਦੇ ਹੌਂਦ ਵਿੱਚ ਸੁਮੇਲ ਵਿੱਚ ਆਉਂਦਾ ਹੈ। ਇਸ ਨੂੰ ਸ਼ੀਟ ਮੰਡਲ ਆਖਦੇ ਹਨ। ਸ਼ੀਟ ਮੰਡਲ ਵਿੱਚ ਕੋਈ ਸ਼ੀਟ ਨਹੀਂ ਅਤੇ ਖੌਰ ਪੈਂਦੇ ਹੁੰਦੇ ਹਨ।

ਪਾਠ - ਧਰਤੀ ਦਾ ਅੰਦਰੂਨੀ ਅਤੇ ਬਾਹਰਲਾ ਰੂਪ

ਪ੍ਰ.1 ਦੱਸੋ ਮੈਂ ਕੌਣ ਹਾਂ?

1. ਮੇਰਾ ਨਿਰਮਾਣ ਜਵਾਲਾਮੁਖੀ ਕਿਰਿਆਵਾਂ ਕਰਕੇ ਹੁੰਦਾ ਹੈ ਮੇਰਾ ਇੱਕ ਨਾਂ ਰੇਗੜ ਵੀ ਹੈ। ਗਲੀ ਸਿੱਟੀ
2. ਅੱਜਕੱਲ੍ਹ ਮੈਂ ਇੰਨਾ ਮਹੱਤਵਪੂਰਨ ਹਾਂ ਕਿ ਮੈਨੂੰ ਤਰਲ ਸੋਨਾ ਵੀ ਕਿਹਾ ਜਾਂਦਾ ਹੈ। ਪ੍ਰਵਿਸ਼ ਤੇਲ
3. ਮੈਂ ਸੂਰਜ ਤੋਂ ਆਉਣ ਵਾਲੀਆਂ ਖਤਰਨਾਕ ਪਰਾਵੈਂਗਨੀ ਕਿਰਨਾਂ ਨੂੰ ਧਰਤੀ ਤੇ ਪਹੁੰਚਣ ਤੋਂ ਰੋਕਦੀ ਹਾਂ। ਓਜ਼ੋਨ ਪਰਤ

ਪ੍ਰ.2 ਖਾਲੀ ਥਾਂ ਭਰੋ:-

1. ਮੁਸਾਮਦਾਰ ਚੱਟਾਨਾਂ ਵਿੱਚ ਰੇਤ ਦੀ ਮਾਤਰਾ ਵਧੇਰੇ ਹੁੰਦੀ ਹੈ।
2. ਫਿਊਜ਼ੀਜ਼ਾਮਾ ਪਹਾੜ ਜ਼ਪਾਨ ਵਿਖੇ ਸਥਿਤ ਹੈ।
3. ਭਾਰਤ ਦੇ 55 % ਭਾਗ ਵਿੱਚ ਜਲੋੜ ਮਿੱਟੀ ਪਾਈ ਜਾਂਦੀ ਹੈ।
4. ਚੂਨਾ ਪੱਥਰ ਰੂਪਾਂਤਰਿਤ ਹੋ ਕੇ ਲਿਮਸਟੋਨ ਬਣ ਜਾਂਦਾ ਹੈ।

ਪ੍ਰ.3 ਸਹੀ ਵਿਕਲਪ ਚੁਣੋ:-

1. ਹੇਠ ਲਿਖੀਆਂ ਵਿੱਚੋਂ ਕਿਹੜੀਆਂ ਚੱਟਾਨਾਂ ਨੂੰ ਪ੍ਰਾਥਮਿਕ (ਮੂਲ) ਚੱਟਾਨਾਂ ਕਿਹਾ ਜਾਂਦਾ ਹੈ? (ੳ) ਪਰਤਦਾਰ(ਤਹਿਦਾਰ) ਚੱਟਾਨਾਂ (ਅ) ਰੂਪਾਂਤਰਿਤ ਚੱਟਾਨਾਂ (ੲ) ਅਗਨੀ ਚੱਟਾਨਾਂ (ਸ) ਇਹਨਾਂ ਵਿੱਚੋਂ ਕੋਈ ਨਹੀਂ
2. ਗਰਮ ਅਤੇ ਸਿੱਲੇ ਪ੍ਰਦੇਸ਼ਾਂ ਵਿੱਚ ਹੇਠ ਲਿਖੀਆਂ ਵਿੱਚੋਂ ਕਿਹੜੀ ਮਿੱਟੀ ਪਾਈ ਜਾਂਦੀ ਹੈ? (ੳ) ਕਾਲੀ ਮਿੱਟੀ (ਅ) ਪਰਬਤੀ ਮਿੱਟੀ (ੲ) ਮਾਰੂਥਲੀ ਮਿੱਟੀ (ਸ) ਲੈਟਰਾਈਟ ਮਿੱਟੀ
3. ਮਨੁੱਖੀ ਇਤਿਹਾਸ ਵਿੱਚ ਸਭ ਤੋਂ ਪਹਿਲਾਂ ਵਰਤਿਆ ਜਾਣ ਵਾਲਾ ਖਣਿਜ ਹੇਠ ਲਿਖੀਆਂ ਵਿੱਚੋਂ ਕਿਹੜਾ ਸੀ? (ੳ) ਤਾਂਬਾ (ਅ) ਲੋਹਾ (ੲ) ਬਾਕਸਾਈਟ (ਸ) ਅਬਰਕ

ਪ੍ਰ.4 ਸਹੀ ਮਿਲਾਨ ਕਰੋ:-

(ੳ)	(ਅ)
1. ਰੇਤ ਪੱਥਰ	1. ਨਾਈਸ
2. ਪੀਟ	2. ਕਵਾਰਟਜ਼ਾਈਟ
3. ਅਬਰਕ	3. ਕੋਲਾ
4. ਗ੍ਰੇਨਾਈਟ	4. ਸਿਸ਼ਟ

ਪ੍ਰ. 5 ਮੰਨ ਲਵੋ ਤੁਸੀਂ ਗੁਜਰਾਤ ਦੇ ਇੱਕ ਪਿੰਡ ਵਿੱਚ ਰਹਿੰਦੇ ਹੋ। ਤੁਹਾਡੇ ਪਿੰਡ ਵਿੱਚ ਕਾਲੀ ਮਿੱਟੀ ਪਾਈ ਜਾਂਦੀ ਹੈ। ਤੁਹਾਨੂੰ ਆਪਣੇ ਖੇਤ ਵਿੱਚ ਹੇਠ ਲਿਖੀਆਂ ਵਿੱਚੋਂ ਕਿਹੜੀ ਫਸਲ ਬੀਜਣੀ ਚਾਹੀਦੀ ਹੈ ਤਾਂ ਜੋ ਤੁਹਾਨੂੰ ਵੱਧ ਫਾਇਦਾ ਹੋ ਸਕੇ?

1. ਕਪਾਹ 2. ਕਣਕ 3. ਗੰਨਾ 4. ਚਾਵਲ

ਪ੍ਰ.6 ਮੰਨ ਲਵੋ ਤੁਸੀਂ ਸਟੀਲ ਬਣਾਉਣ ਦੀ ਫੈਕਟਰੀ ਲਗਾਉਣਾ ਚਾਹੁੰਦੇ ਹੋ। ਤੁਹਾਨੂੰ ਹੇਠ ਲਿਖਿਆਂ ਵਿੱਚੋਂ ਕਿਹੜੇ ਖਣਿਜ ਪਦਾਰਥ ਦੀ ਲੋੜ ਪਵੇਗੀ?

1. ਤਾਂਬਾ
2. ਅਬਰਕ
3. ਸੋਨਾ
4. ਮੈਂਗਨੀਜ਼

ਪ੍ਰ. 7 ਹੇਠ ਲਿਖੇ ਪ੍ਰਸ਼ਨਾਂ ਦੇ ਉੱਤਰ ਸੰਖੇਪ ਵਿੱਚ ਲਿਖੋ:

1) ਅਗਨੀ ਚੱਟਾਨਾਂ ਕਿਵੇਂ ਬਣਦੀਆਂ ਹਨ?

ਉੱਤਰ. ਅਗਨੀ ਚੱਟਾਨਾਂ ਖੂਬਈ ਦੇ ਅੰਦਰੂਨੀ ਭਾਗ ਵਿੱਚ ਮਿਲਦੇ ਅਤਿਅੰਤ ਗਰਮ ਅਤੇ ਪਿਘਲੀ ਹੋਈ ਠੋਸ (ਲਾਵਾ) ਦੇ ਠੰਡਾ ਹੋ ਕੇ ਠੋਸ ਹੋਣ ਨਾਲ ਬਣਦੀਆਂ ਹਨ।

2) ਕਪਾਹ ਦੀ ਫਸਲ ਉਗਾਉਣ ਲਈ ਸਭ ਤੋਂ ਵਧੀਆ ਕਿਹੜੀ ਮਿੱਟੀ ਹੁੰਦੀ ਹੈ? ਇਹ ਭਾਰਤ ਵਿੱਚ ਕਿੱਥੇ ਪਾਈ ਜਾਂਦੀ ਹੈ?

ਉੱਤਰ

ਕਪਾਹ ਦੀ ਖੇਤੀ ਲਈ ਥਾਂਬੀ ਮਿੱਟੀ ਬਹੁਤ ਵਧੀਆ ਹੈ। ਇਹ ਭਾਰਤ ਵਿੱਚ ਮੱਧਪ੍ਰਦੇਸ਼, ਮਹਾਂਰਾਸ਼ਟਰ, ਗੁਜਰਾਤ ਅਤੇ ਤਾਮਿਲਨਾਡੂ ਵਿੱਚ ਪਾਈ ਜਾਂਦੀ ਹੈ।

3) ਖਣਿਜ ਪਦਾਰਥਾਂ ਨੂੰ ਕਿੰਨੇ ਵਰਗਾਂ ਵਿੱਚ ਵੰਡਿਆ ਗਿਆ ਹੈ? ਨੋਟ ਲਿਖੋ।

ਉੱਤਰ

- ① ਧਾਤਵੀ ਖਣਿਜ
- ② ਅਧਾਤਵੀ ਖਣਿਜ
- ③ ਸ਼ਕਤੀ ਖਣਿਜ

ਪਾਠ- ਵਾਯੂਮੰਡਲ ਅਤੇ ਤਾਪਮਾਨ

ਪ੍ਰ. 1 ਦੱਸੋ ਮੈਂ ਕੌਣ ਹਾਂ?

1. ਵਾਯੂਮੰਡਲ ਵਿੱਚ ਮੇਰੀ ਮਾਤਰਾ ਸਭ ਤੋਂ ਵੱਧ ਹੈ। ਦੱਸੋ ਮੈਂ ਕਿਹੜੀ ਗੈਸ ਹਾਂ? ਨਾਈਟ੍ਰੋਜਨ
2. ਮੈਂ ਧੁੰਦ ਅਤੇ ਧੁੰਏਂ ਦੇ ਮਿਲਨ ਨਾਲ ਬਣਦੀ ਹਾਂ। ਸਮੱਸੀ
3. ਮੇਰੇ ਅਨੁਸਾਰ ਪਾਣੀ 0° ਤੇ ਜੰਮ ਜਾਂਦਾ ਹੈ। ਕੋਲੀਗੇਟ
4. ਮੇਰੇ ਅਨੁਸਾਰ ਪਾਣੀ 212° ਤੇ ਉਬਲਦਾ ਹੈ। ਟ੍ਰਾਹਨ ਪਿੰਟ

ਪ੍ਰ. 2 ਸਹੀ ਵਿਕਲਪ ਚੁਣੋ:-

1. ਮੌਸਮ ਸਬੰਧੀ ਕਿਰਿਆਵਾਂ ਹੇਠ ਲਿਖਿਆਂ ਵਿੱਚੋਂ ਕਿਸ ਮੰਡਲ ਵਿੱਚ ਵਾਪਰਦੀਆਂ ਹਨ?
 (ੳ) ਅਸ਼ਾਂਤੀ ਮੰਡਲ (ਅ) ਸਮਤਾਪ ਮੰਡਲ (ੲ) ਮੱਧ ਵਰਤੀ ਮੰਡਲ (ਸ) ਤਾਪ ਮੰਡਲ
2. ਹਵਾ ਵਿਚਲੀ ਗਰਮੀ ਨੂੰ ਹੇਠ ਲਿਖਿਆਂ ਵਿੱਚੋਂ ਕੀ ਕਿਹਾ ਜਾਂਦਾ ਹੈ?
 (ੳ) ਪੂੜਕਣ (ਅ) ਨਮੀ (ੲ) ਤਾਪਮਾਨ (ਸ) ਜੈਵਿਕ ਅੰਸ਼
3. ਹੇਠ ਲਿਖਿਆਂ ਵਿੱਚੋਂ ਕਿਹੜੇ ਮੰਡਲ ਦੀ ਹੇਠਲੀ ਤਹਿ ਆਇਨ ਮੰਡਲ ਕਹਾਉਂਦੀ ਹੈ?
 (ੳ) ਅਸ਼ਾਂਤੀ ਮੰਡਲ (ਅ) ਸਮਤਾਪ ਮੰਡਲ (ੲ) ਮੱਧ ਵਰਤੀ ਮੰਡਲ (ਸ) ਤਾਪ ਮੰਡਲ

ਪ੍ਰ. 3 ਹੇਠ ਲਿਖਿਆਂ ਸਾਹਮਣੇ ਸਹੀ ਜਾਂ ਗਲਤ ਦਾ ਨਿਸ਼ਾਨ ਲਗਾਓ:-

1. ਜਲਕਣਾਂ ਦੀ ਸਭ ਤੋਂ ਵੱਧ ਮਾਤਰਾ ਅਸ਼ਾਂਤੀ ਮੰਡਲ ਵਿੱਚ ਪਾਈ ਜਾਂਦੀ ਹੈ। ()
2. ਹਵਾ ਵਿੱਚ ਆਕਸੀਜਨ ਦੀ ਮਾਤਰਾ 70% ਹੁੰਦੀ ਹੈ। ()
3. ਹਾਈਡ੍ਰੋਜਨ ਗੈਸ ਸਭ ਤੋਂ ਵੱਧ ਪ੍ਰਦੂਸ਼ਣ ਪੈਦਾ ਕਰਦੀ ਹੈ। ()
4. ਸਮੁੰਦਰ ਤਲ ਤੋਂ ਉਚਾਈ ਵਧਣ ਨਾਲ ਤਾਪਮਾਨ ਵੱਧਦਾ ਹੈ। ()

ਪ੍ਰ. 4 ਸਹੀ ਮਿਲਾਨ ਕਰੋ:-


(ੳ)	(ਅ)
1. ਅਸ਼ਾਂਤੀ ਮੰਡਲ	1. ਬਿਜਲਈ ਕਣ
2. ਸਮਤਾਪ ਮੰਡਲ	2. ਓਜ਼ੋਨ ਗੈਸ
3. ਮੱਧ ਵਰਤੀ ਮੰਡਲ	3. ਮੌਸਮੀ ਕਿਰਿਆਵਾਂ
4. ਤਾਪ ਮੰਡਲ	4. 50 ਤੋਂ 80 ਕਿ.ਮੀ. ਤੱਕ ਫੈਲਿਆ ਹੋਇਆ

ਪ੍ਰ. 5 ਰਾਮ ਜਦੋਂ ਵੀ ਕਿਤੇ ਬਾਹਰ ਜਾਂਦਾ ਹੈ ਤਾਂ ਪਰਫਿਊਮ ਦੀ ਬਹੁਤ ਹੀ ਜ਼ਿਆਦਾ ਵਰਤੋਂ ਕਰਦਾ ਹੈ। ਦੱਸੋ ਉਹ ਵਾਤਾਵਰਨ ਵਿੱਚ ਕੀ ਭੂਮਿਕਾ ਨਿਭਾ ਰਿਹਾ ਹੈ?

1. ਉਹ ਵਾਯੂ ਪ੍ਰਦੂਸ਼ਣ ਘਟਾ ਰਿਹਾ ਹੈ।
2. ਉਹ ਵਾਯੂ ਪ੍ਰਦੂਸ਼ਣ ਵਧਾ ਰਿਹਾ ਹੈ।
3. ਉਹ ਆਕਸੀਜਨ ਦੀ ਮਾਤਰਾ ਵਧਾ ਰਿਹਾ ਹੈ।
4. ਉਹ ਹਵਾ ਨੂੰ ਸਾਫ ਕਰ ਰਿਹਾ ਹੈ।

ਪ੍ਰ. 6 ਸੋਹਣ ਨੂੰ ਤੇਜ਼ ਬੁਖਾਰ ਹੈ। ਉਹ ਡਾਕਟਰ ਕੋਲ ਜਾਂਦਾ ਹੈ। ਬੁਖਾਰ ਨੂੰ ਮਾਪਣ ਲਈ ਡਾਕਟਰ ਹੇਠ ਲਿਖਿਆਂ ਵਿੱਚੋਂ ਕਿਹੜਾ ਪੈਮਾਨਾ ਵਰਤੇਗਾ?

1. ਸੈਲਸੀਅਸ
2. ਰਿਕਟਰ
3. ਫਾਰਨਹੀਟ
4. ਮਰਕਾਲੀ



ਪਾਠ - ਭਾਰਤ ਅਤੇ ਸੰਸਾਰ (ਕਦੋਂ, ਕਿੱਥੇ ਅਤੇ ਕਿਵੇਂ)

ਪ੍ਰ. 1 ਸਹੀ ਵਿਕਲਪ ਚੁਣੋ:-

1. ਭਾਰਤ ਵਿੱਚ ਕਿਹੜੀ ਸਦੀ ਨੂੰ ਪਰਿਵਰਤਨ ਦੀ ਸਦੀ ਮੰਨਿਆ ਜਾਂਦਾ ਹੈ?
(ੳ) 15 ਵੀਂ (ਅ) 18 ਵੀਂ (ੲ) 12 ਵੀਂ (ਸ) 8 ਵੀਂ
2. ਪੁਰਾਤੱਤਵ ਸ਼੍ਰੇਣੀ ਵਿੱਚ ਹੇਠ ਲਿਖਿਆਂ ਵਿੱਚੋਂ ਕਿਹੜਾ ਸ਼੍ਰੇਣੀ ਸ਼ਾਮਿਲ ਨਹੀਂ ਹੈ?
(ੳ) ਮੰਦਰ (ਅ) ਸ਼ਿਲਾਲੇਖ (ੲ) ਸਵੈਜੀਵਨੀਆਂ (ਸ) ਸਿੱਕੇ
3. ਇਬਨਬਤੂਤਾ ਦੇ ਰੀਹੇਲਾ ਲੇਖ ਤੋਂ ਕਿਹੜੇ ਸ਼ਾਸਕ ਬਾਰੇ ਜਾਣਕਾਰੀ ਮਿਲਦੀ ਹੈ?
(ੳ) ਮੁਹੰਮਦ-ਬਿਨ-ਤੁਗਲਕ (ਅ) ਬਾਬਰ (ੲ) ਅਕਬਰ (ਸ) ਜਹਾਂਗੀਰ
4. ਵਿਜੈਨਗਰ ਰਾਜ ਦੀ ਯਾਤਰਾ ਤੇ ਹੇਠ ਲਿਖਿਆਂ ਵਿੱਚੋਂ ਕਿਸ ਯਾਤਰੀ ਨੇ ਲੇਖ ਲਿਖਿਆ?
(ੳ) ਇਬਨਬਤੂਤਾ (ਅ) ਅਬਦੁਲ ਰਜ਼ਾਕ (ੲ) ਅਲਬਰੂਨੀ (ਸ) ਬਰਨੀ

ਪ੍ਰ.2 ਨਕਸ਼ੇ ਵਿੱਚ ਭਾਰਤ ਦੇ ਗੁਆਂਢੀ ਦੇਸ਼ਾਂ ਦੇ ਨਾਂ ਭਰੋ।



ਪ੍ਰ. 3 ਦੱਸੋ ਮੈਂ ਕੌਣ ਹਾਂ ?

1. ਮੈਂ ਅਕਬਰ ਦੇ ਦਰਬਾਰ ਦਾ ਮਹਾਨ ਸੰਗੀਤਕਾਰ ਹਾਂ। ਮੇਰਾ ਨਾਂ ਤਾਰਜੀਨ..... ਹੈ।
2. ਮੈਂ ਮੁਹੰਮਦ-ਬਿਨ-ਤੁਗਲਕ ਦੇ ਰਾਜਕਾਲ ਬਾਰੇ ਕਿਤਾਬ-ਉਲ-ਰਿਹੇਲਾ ਲੇਖ ਲਿਖਿਆ। ਮੇਰਾ ਨਾਂ ਇਬਨਬਤੂਤਾ..... ਹੈ।
3. ਮੇਰੀ ਭਾਰਤ ਯਾਤਰਾ ਤੋਂ ਬਾਅਦ ਭਾਰਤ ਨੂੰ ਮੇਰੇ ਦੇਸ਼ ਵਿੱਚ ਇੰਟੂ ਕਿਹਾ ਜਾਣ ਲੱਗਾ। ਮੇਰਾ ਨਾਂ ਹਿਊਨਸ਼ਾਂਗ..... ਹੈ।

ਪ੍ਰ 4 ਸਹੀ ਮਿਲਾਨ ਕਰਕੇ ਖਾਲੀ ਥਾਂਵਾਂ ਭਰੋ:-

(ੳ)	(ਅ)
1. ਭਾਰਤਵਰਸ਼	1. ਬਾਈਬਲ ਵਿੱਚ ਭਾਰਤ ਨੂੰ ... <u>ਹੋਰ</u> ... ਨਾਂ ਨਾਲ ਜਾਣਿਆ ਜਾਂਦਾ ਹੈ।
2. ਤਾਇਨ ਚੂ	2. ਵੈਦਿਕ ਕਾਲ ਵਿੱਚ ਭਾਰਤ ਨੂੰ ... <u>ਆਰੀਆਵਰਤ</u> ... ਕਿਹਾ ਜਾਂਦਾ ਸੀ।
3. ਆਰੀਆਵਰਤ	3. ਮਹਾਂਭਾਰਤ ਤੇ ਪੁਰਾਣਾਂ ਵਿੱਚ ਭਾਰਤ ... <u>ਭਾਰਤਵਰਸ਼</u> ... ਕਿਹਾ ਜਾਂਦਾ ਸੀ।
4. ਹੋਡੂ	4. ਚੀਨੀ ਲੋਕ ਭਾਰਤ ਨੂੰ ... <u>ਤਾਇਨ ਚੂ</u> ... ਦੇ ਨਾਂ ਨਾਲ ਜਾਣਦੇ ਸਨ।

ਪ੍ਰ. 6 ਹੇਠ ਦਿੱਤੇ ਪ੍ਰਸ਼ਨਾਂ ਦੇ ਉੱਤਰ ਸੰਖੇਪ ਵਿੱਚ ਦਿਓ:

1) ਇਤਿਹਾਸ ਵਿੱਚ ਭਾਰਤੀ ਉਪ-ਮਹਾਂਦੀਪ ਦੇ ਕਿਹੜੇ-ਕਿਹੜੇ ਨਾਂ ਰੱਖੇ ਗਏ ਹਨ?

ਉੱਤਰ. ਇਤਿਹਾਸ ਦੇ ਭਾਰਤ ਨੂੰ ਤਿੰਨ-2 ਖ਼ਗਾਂ ਵਿੱਚ ਵੱਖ-2 ਨਾਂ ਦਿੱਤੇ
 ਵੈਦਿਕ ਕਾਲ ਵਿੱਚ ਇਸ ਨੂੰ ਆਰੀਆ ਵਰਤ ਕਿਹਾ ਜਾਂਦਾ ਸੀ।
 ਮਹਾਂਭਾਰਤ ਅਤੇ ਪੁਰਾਣਾਂ ਦੇ ਸਮੇਂ ਇਸ ਨੂੰ ਮਹਾਂ ਭਾਰਤਵਰਸ਼ ਕਿਹਾ ਜਾਂਦਾ
 ਸੀ। ਇਗਨੀਆਂ ਨੇ ਇਸ ਨੂੰ ਹਿੰਦੂ ਦਾ ਨਾਂ ਦਿੱਤਾ, ਜਦਕਿ ਯੂਨਾਨੀਆਂ ਨੇ
 ਇਸ ਨੂੰ ਇੰਡਸ ਕਿਹਾ ਜਾਂਦਾ ਸੀ। ਬਾਈਬਲ ਵਿੱਚ ਇਸ ਲਈ ਹੋਡੂ ਸ਼ਬਦ
 2) ਇਤਿਹਾਸਿਕ ਸ਼੍ਰੇਣੀ ਕਿੱਠੇ ਪ੍ਰਕਾਰ ਦੇ ਹੁੰਦੇ ਹਨ? ਨਟ ਲਿਖੋ।

ਉੱਤਰ. ਇਤਿਹਾਸਿਕ ਸ਼੍ਰੇਣੀ ਦੇ ਪ੍ਰਕਾਰ ਦੋ ਹੁੰਦੇ ਹਨ। ਪੁਰੁੱਤਵ ਸ਼੍ਰੇਣੀ ਅਤੇ
 ਮਾਹਿਤਿਕ ਸ਼੍ਰੇਣੀ।

3) ਪਾਠ ਵਿੱਚ ਆਈਆਂ ਇਤਿਹਾਸਿਕ ਇਮਾਰਤਾਂ ਦੀ ਸੂਚੀ ਬਣਾਓ।

ਉੱਤਰ. ਪ੍ਰਾਚੀਨ ਇਮਾਰਤਾਂ ਵਿੱਚ ਮਿਠਾ, ਮਸਜਿਦਾਂ, ਸਿਵੇਂ ਕਿ ਜਾਮਾ
 ਮਸਜਿਦ ਜੋਤੀ ਮਸਜਿਦ ਮਾਇਦ, ਰਿਲੇ (ਲਾਲ ਕਿਲ੍ਹੇ), ਆਗਰੇ ਦਾ
 ਕਿਲ੍ਹਾ, ਸਤੰਬ, ਮਹਿਲ ਜੈਜਲਮੇਰ ਮਾਇਦ ਮਾਇ ਜਾਮਲਾ ਜਨਾ

ਪਾਠ - ਨਵੇਂ ਰਾਜ ਅਤੇ ਰਾਜੇ

ਪ੍ਰ. 1 ਹੇਠ ਲਿਖੇ ਵਾਕਾਂ ਸਾਹਮਣੇ ਦਿੱਤੀ ਥਾਂ ਤੇ ਸਹੀ ਵਾਕ ਨੂੰ ਹਰਾ ਅਤੇ ਗਲਤ ਵਾਕ ਨੂੰ ਲਾਲ ਰੰਗ ਨਾਲ ਦਰਸਾਓ:-

1. ਨਾਗਾਭੱਟ ਨੇ 725 ਈ. ਵਿੱਚ ਗੁਰਜਰ-ਪ੍ਰਤੀਹਾਰ ਵੰਸ਼ ਦੀ ਸਥਾਪਨਾ ਕੀਤੀ।
2. ਗੋਪਾਲ ਨੇ ਬੰਗਾਲ ਵਿੱਚ ਚੌਹਾਨ ਵੰਸ਼ ਦੀ ਸਥਾਪਨਾ ਕੀਤੀ।
3. ਅਮੋਘਵਰਸ਼ ਨੇ ਰਾਸ਼ਟਰਕੂਟ ਵੰਸ਼ ਦੀ ਸਥਾਪਨਾ ਕੀਤੀ।
4. ਮਹਿਮੂਦ ਗਜਨਵੀ ਅਫਗਾਨਿਸਤਾਨ ਦਾ ਰਹਿਣ ਵਾਲਾ ਸੀ।

ਪ੍ਰ. 2 ਸਹੀ ਮਿਲਾਨ ਕਰਕੇ ਵਾਕ ਬਣਾਓ ਅਤੇ ਹੇਠਾਂ ਲਿਖੋ:-

ਲੜੀ ਨੰ	ਉ	ਅ	ੲ
1.	ਨਾਗਾਭੱਟ ਪਹਿਲੇ ਨੇ	1025 ਈ. ਵਿੱਚ	ਰਾਸ਼ਟਰਕੂਟ ਵੰਸ਼ ਦੀ ਸਥਾਪਨਾ ਕੀਤੀ
2.	ਦੰਤੀਦੁਰਗ ਨੇ	750 ਈ. ਵਿੱਚ	ਸੋਮਨਾਥ ਮੰਦਰ ਤੇ ਹਮਲਾ ਕੀਤਾ
3.	ਗੋਪਾਲ ਨੇ	725 ਈ. ਵਿੱਚ	ਗੁਰਜਰ-ਪ੍ਰਤੀਹਾਰ ਵੰਸ਼ ਦੀ ਸਥਾਪਨਾ ਕੀਤੀ
4.	ਮਹਿਮੂਦ ਗਜਨਵੀ ਨੇ	742 ਈ. ਵਿੱਚ	ਖਾਲ ਵੰਸ਼ ਦੀ ਸਥਾਪਨਾ ਕੀਤੀ

1. ਨਾਗਾਭੱਟ ਪਹਿਲੇ ਨੇ 725 ਈ. ਵਿੱਚ ਗੁਰਜਰ-ਪ੍ਰਤੀਹਾਰ ਵੰਸ਼ ਦੀ ਸਥਾਪਨਾ ਕੀਤੀ।
 2. ਦੰਤੀਦੁਰਗ ਨੇ 750 ਈ. ਵਿੱਚ ਰਾਸ਼ਟਰਕੂਟ ਵੰਸ਼ ਦੀ ਸਥਾਪਨਾ ਕੀਤੀ।
 3. ਗੋਪਾਲ ਨੇ 725 ਈ. ਵਿੱਚ ਖਾਲ ਵੰਸ਼ ਦੀ ਸਥਾਪਨਾ ਕੀਤੀ।
 4. ਮਹਿਮੂਦ ਗਜਨਵੀ ਨੇ 742 ਈ. ਵਿੱਚ ਸੋਮਨਾਥ ਮੰਦਰ ਤੇ ਹਮਲਾ ਕੀਤਾ।

ਪ੍ਰ. 3 ਸਹੀ ਵਿਕਲਪ ਚੁਣੋ:-

1. ਹੇਠ ਲਿਖਿਆਂ ਵਿੱਚੋਂ ਕੌਣ ਗੁਰਜਰ-ਪ੍ਰਤੀਹਾਰ ਵੰਸ਼ ਦਾ ਸਭ ਤੋਂ ਸ਼ਕਤੀਸ਼ਾਲੀ ਰਾਜਾ ਸੀ?
 (ਉ) ਮਿਹਿਰਭੋਜ (ਅ) ਨਾਗਾਭੱਟ (ੲ) ਰਾਜਪਾਲ (ਸ) ਧਰੂਵ
2. ਹੇਠ ਲਿਖਿਆਂ ਵਿੱਚੋਂ ਕਿਸ ਪਾਲ ਸ਼ਾਸਕ ਨੇ ਵਿਕਰਮਸ਼ਿਲਾ ਵਿਹਾਰ ਦੀ ਸਥਾਪਨਾ ਕੀਤੀ ਜਿਹੜਾ ਬਾਅਦ ਵਿੱਚ ਇੱਕ ਵਿਸ਼ਵਵਿਦਿਆਲਿਆ ਬਣਿਆ?
 (ਉ) ਗੋਪਾਲ (ਅ) ਧਰਮਪਾਲ (ੲ) ਦੇਵਪਾਲ (ਸ) ਰਾਜਪਾਲ
3. ਰਾਸ਼ਟਰਕੂਟ ਰਾਜਿਆਂ ਦਾ ਰਾਜ ਕਿਹੜੀਆਂ ਦੋ ਨਦੀਆਂ ਦੇ ਵਿਚਕਾਰ ਸੀ?
 (ਉ) ਕ੍ਰਿਸ਼ਨਾ ਅਤੇ ਤੁੰਗਭਦਰਾ (ਅ) ਨਰਮਦਾ ਅਤੇ ਤਾਪਤੀ (ੲ) ਗੋਦਾਵਰੀ ਅਤੇ ਮਹਾਂਨਦੀ (ਸ) ਗੰਗਾ ਅਤੇ ਜਮਨਾ

ਪ੍ਰ. 4 ਦੱਸੋ ਮੈਂ ਕੌਣ ਹਾਂ?

1. ਮੈਂ ਪ੍ਰਿਥਵੀਰਾਜ ਚੌਹਾਨ ਨੂੰ ਤਰਾਇਨ ਦੀ ਦੂਜੀ ਲੜਾਈ ਵਿੱਚ ਹਰਾਇਆ। ਮੇਰਾ ਨਾਂ ਮਹਿਮੂਦ ਹੈ।
2. ਮੈਂ ਬੋਧ ਗਯਾ ਵਿਖੇ ਮੋਹਾਂਬੋਧੀ ਮੰਦਰ ਦਾ ਨਿਰਮਾਣ ਕਰਾਇਆ। ਮੇਰਾ ਨਾਂ ਦੇਵਪਾਲ ਹੈ।
3. ਮੈਂ ਏਲੋਰਾ ਵਿੱਚ ਕੈਲਾਸ਼ ਮੰਦਰ ਦਾ ਨਿਰਮਾਣ ਕਰਾਇਆ। ਮੇਰਾ ਨਾਂ ਕ੍ਰਿਸ਼ਨਾਪਹਿਰਾ ਹੈ।



ਪ੍ਰ 5. ਹੇਠ ਲਿਖੇ ਪ੍ਰਸ਼ਨਾਂ ਦੇ ਉੱਤਰ ਸੰਖੇਪ ਵਿੱਚ ਦਿਓ:

1) ਤ੍ਰਿਪੱਖੀ ਸੰਘਰਸ਼ ਕਿਹੜੇ ਰਾਜਵੰਸ਼ਾਂ ਵਿਚਕਾਰ ਹੋਇਆ?

ਉੱਤਰ. ਤ੍ਰਿਪੱਖੀ ਸੰਘਰਸ਼ ਪਾਲ, ਗੁਰਜਰ-ਖੂਰੀਯਾ ਅਤੇ ਗਜ਼ਦਰਵੰਸ਼ਾਂ ਵਿਚਕਾਰ ਕਲੀਯੁਗ ਦੀ ਸੰਘਰਸ਼ ਸ਼ੁਰੂ ਹੋ ਗਿਆ।

2) ਜਾਤੀ ਪ੍ਰਥਾ ਤੇ ਨੋਟ ਲਿਖੋ।

ਉੱਤਰ. ਮੁੱਢਲੇ ਮੱਧਕਾਲੀਨ ਯੁੱਗ ਦੇਗਲ ਜਾਤੀ ਪ੍ਰਥਾ ਬਹੁਤ ਕਾਰੋਰਮੀ ਸਮਾਜ ਚਾਰ ਜਾਤਾਂ - ਬ੍ਰਹਮਣ, ਕਸ਼ੱਤਰੀ, ਵੈਸ਼ ਅਤੇ ਸ਼ੂਦਰ ਵਿੱਚ ਵੰਡੀ ਹੋਇਆ ਸੀ। ਪੂਰੇ ਸਮਾਜ ਕਮਾਂਗੇ ਵੀ ਬਹੁਤ ਜਾਗੀਆਂ ਉੱਪ-ਜਾਤੀਆਂ ਵਿੱਚ ਵੰਡਿਆ ਹੋਇਆ ਸੀ।

3) ਮਹਿਮੂਦ ਗਜ਼ਨਵੀ ਦੇ ਹਮਲਿਆਂ ਤੇ ਨੋਟ ਲਿਖੋ।

ਉੱਤਰ. ਜੋਧਾਲ ਉੱਤੇ ਹਮਲਾ, ਆਨੰਦਪਾਲ ਉੱਤੇ ਹਮਲਾ, ਨਗਰਕੋਟ ਉੱਤੇ ਹਮਲਾ, ਕਾਨੇਸਰ ਉੱਤੇ ਹਮਲਾ, ਮਰੂਹ ਅਤੇ ਕਲੋ ਉੱਤੇ ਹਮਲਾ, ਕਲਿੰਗਾ ਉੱਤੇ ਹਮਲਾ।

4) ਮੁਹੰਮਦ ਗੌਰੀ ਅਤੇ ਪ੍ਰਿਥਵੀ ਰਾਜ ਚੌਹਾਨ ਵਿਚਕਾਰ ਯੁੱਧ ਦਾ ਵਰਣਨ ਕਰੋ।

ਉੱਤਰ. ਪ੍ਰਿਥਵੀ ਰਾਜ ਚੌਹਾਨ ਨੇ ਮੁਹੰਮਦ ਗੌਰੀ ਨੂੰ ਵੀ ਵਿੱਚ ਤੋਰਾਇਨ ਦੀ ਪਹਿਲੀ ਲੜਾਈ ਵਿੱਚ ਹਰਾਇਆ। ਪ੍ਰਿਥਵੀ ਉਹ ਵੀ ਵਿੱਚ ਤੋਰਾਇਨ ਦੀ ਦੂਜੀ ਲੜਾਈ ਵਿੱਚ ਮੁਹੰਮਦ ਗੌਰੀ ਦੇ ਹੱਲ ਹਾਰ ਜਾਣ ਵਿੱਚ ਮਾਰਿਆ ਗਿਆ।

ਪਾਠ - ਦੱਖਣੀ ਭਾਰਤ ਵਿੱਚ ਰਾਜਨੀਤਿਕ ਪ੍ਰਗਤੀਆਂ

ਪ੍ਰ.1 ਸਹੀ ਵਿਕਲਪ ਤੇ (✓) ਦਾ ਚਿੰਨ੍ਹ ਲਗਾਓ:-

	ੳ	ਅ	ੲ	ਸ
ਪਾਂਡਯ ਸ਼ਾਸਕਾਂ ਦੀ ਰਾਜਧਾਨੀ	ਕਾਂਚੀਪੁਰਮ	ਤੰਜੌਰ	ਮੁਦਰਾਇ	ਕਲਿਆਣੀ
ਅਦਵੈਤ ਦਾ ਪ੍ਰਚਾਰ ਕਰਨ ਵਾਲੇ ਭਗਤ	ਬਾਸਵ	ਰਾਮਾਨੁਜ	ਸ਼ੰਕਰਾਚਾਰੀਆ	ਕੰਬਠ
ਪਾਂਡਯ ਰਾਜ ਦੀ ਯਾਤਰਾ ਕਰਨ ਵਾਲਾ ਯਾਤਰੀ	ਅਲਬਰੂਨੀ	ਮਾਰਕੋਪੋਲੋ	ਇਬਨਬਤੂਤਾ	ਅਬਦੁਲ ਰਜ਼ਾਕ

ਪ੍ਰ. 2 ਦੱਸੋ ਮੈਂ ਕੌਣ ਹਾਂ?

1. ਮੈਂ ਗੰਗਈਕੋਟਾਚੋਲਪੁਰਮ ਦੀ ਉਪਾਧੀ ਧਾਰਨ ਕੀਤੀ। ਮੇਰਾ ਨਾਂ ਗੰਗਈਕੋਟਾ ਚੋਲ ਹੈ।

2. ਮੈਂ ਤੰਜੌਰ ਵਿਖੇ ਪ੍ਰਸਿੱਧ ਰਾਜਰਾਜੇਸ਼ਵਰ ਮੰਦਰ ਦਾ ਨਿਰਮਾਣ ਕਰਾਇਆ ਸੀ। ਮੇਰਾ ਨਾਂ ... ਗਾਗਾਗਾਗਾ ਪ ਹੈ।

3. ਮੈਂ ਰਾਮਾਇਣ ਦਾ ਤਮਿਲ ਭਾਸ਼ਾ ਵਿੱਚ ਅਨੁਵਾਦ ਕੀਤਾ। ਮੇਰਾ ਨਾਂ ... ਕੰਬਨ ਵਿਦਵਾਨ ਹੈ।

ਪ੍ਰ.3 ਵਾਕ ਪੂਰੇ ਕਰੋ:-

1. ਚੋਲ ਰਾਜ ਪ੍ਰਾਂਤਾਂ ਵਿੱਚ ਵੰਡਿਆ ਹੋਇਆ ਸੀ ਜਿਹਨਾਂ ਨੂੰ ... ਮੰਡਲਮ ਕਿਹਾ ਜਾਂਦਾ ਸੀ।

2. ਸ਼ੰਕਰਾਚਾਰੀਆ ਨੇ ਅਦਵੈਤ ... ਮਤ ਦਾ ਪ੍ਰਚਾਰ ਕੀਤਾ।

3. ਨੋਨਿਹਾ ਅਤੇ ਤਿਨਕਾ ਨੇ ਮਹਾਂਭਾਰਤ ਦਾ ... ਤੇਲਗੁ ਭਾਸ਼ਾ ਵਿੱਚ ਅਨੁਵਾਦ ਕੀਤਾ।

4. ਪੱਲਵ ਸ਼ਾਸਕਾਂ ਦੀ ਰਾਜਧਾਨੀ ਕਾਂਚੀ ਸੀ।

ਪ੍ਰ.4 ਚਿੱਤਰ ਦੇਖ ਕੇ ਦੱਸੋ ਕਿ ਇਹ ਕਿਸ ਮੰਦਰ ਦਾ ਚਿੱਤਰ ਹੈ? ਇਹ ਵੀ ਦੱਸੋ ਕਿ ਇਹ ਕਿੱਥੇ ਸਥਿੱਤ ਹੈ?



ਇਹ ਮੰਦਰ ਸ਼ੰਕਰ ਮੰਦਰ ਹੈ ਅਤੇ ਇਹ ਮਹਾਂਬਲਿਪੁਰਮ ਵਿਖੇ ਸਥਿੱਤ ਹੈ।

ਪ੍ਰ.5 ਹੇਠ ਦਿੱਤੇ ਪ੍ਰਸ਼ਨਾਂ ਦੇ ਉੱਤਰ ਸੰਖੇਪ ਵਿੱਚ ਦਿਓ:

1) ਰਾਜਿੰਦਰ ਚੋਲ ਦੀਆਂ ਮਹੱਤਵਪੂਰਨ ਜਿੱਤਾਂ ਬਾਰੇ ਲਿਖੋ।

ਉੱਤਰ. ਦੱਖਣੀ - ਪੂਰਬੀ ਏਸ਼ੀਆ ਵਿੱਚ ਮੰਡਲਮ, ਨੀਹੋਬਾਰ, ਮਲਾਇਆ, ਜੁਮਾਤੋਰਾ ਅਤੇ ਜਾਵਾ ਉਸ ਦੀਆਂ ਮਹੱਤਵਪੂਰਨ ਜਿੱਤਾਂ ਸਨ।

2) ਚੋਲ ਰਾਜ ਦੀ ਬਣਤਰ ਬਾਰੇ ਤੁਸੀਂ ਕੀ ਜਾਣਦੇ ਹੋ?

ਉੱਤਰ. ਚੋਲ ਰਾਜ ਪ੍ਰਾਂਤਾਂ ਵਿੱਚ ਵੰਡਿਆ ਹੋਇਆ ਸੀ, ਜਿਸ ਨੂੰ ਮੰਡਲਮ ਕਿਹਾ ਜਾਂਦਾ ਸੀ। ਮੰਡਲਮ ਅੱਗੇ ਵੱਲਕੂ ਵਿੱਚ ਵੰਡਿਆ ਹੋਇਆ ਸੀ। ਇਹ ਵੱਲਕੂ ਵਿੱਚ ਪਿੰਡਾਂ ਦੀ ਨਿਸ਼ਚਿਤ ਗਿਣਤੀ ਸ਼ਾਮਲ ਹੁੰਦੀ ਸੀ।

3). ਪੱਲਵ ਸ਼ਾਸਕਾਂ ਤੇ ਨੋਟ ਲਿਖੋ।

ਉੱਤਰ. ਮਹਿੰਦਰ ਵਰਮਨ ਪਹਿਲਾ ਅਤੇ ਨਰਸਿੰਘ ਵਰਮਨ ਪਹਿਲਾ ਪੱਲਵ ਵੰਸ਼ ਦੇ ਦੋ ਪ੍ਰਮੁੱਖ ਸ਼ਾਸਕ ਸਨ। ਉਨ੍ਹਾਂ ਨੇ ਚੋਲ ਅਤੇ ਪਾਰਸ ਸ਼ਾਸਕਾਂ ਨੂੰ ਹਰਾ ਕੇ ਮਾਘਏ ਰਾਜ ਦਾ ਬਹੁਤ ਵਿਸਥਾਰ ਕੀਤਾ। ਉਹਨਾਂ ਨੇ ਕਾਂਚੀ ਨੂੰ ਮਾਘਏ ਰਾਜਧਾਨੀ ਬਣਾਇਆ।

ਪਾਕੀ

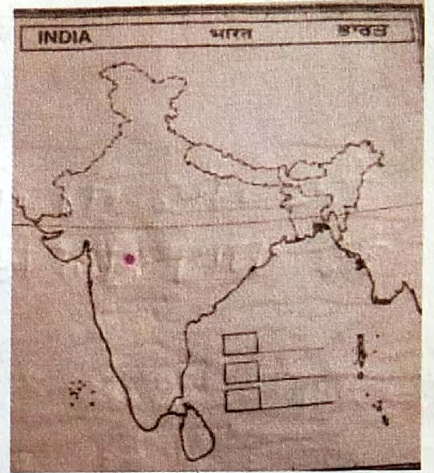
ਪਾਠ - ਦਿੱਲੀ ਸਲਤਨਤ

ਪ੍ਰ.1 ਸਹੀ ਵਿਕਲਪ ਲੱਭ ਕੇ ਖਾਲੀ ਥਾਂਵਾਂ ਭਰੋ:-

(ੳ)	(ਅ)
1. ਸੂਬੇਦਾਰ	1. ਪਿੰਡਾਂ ਦੇ ਮੁਖੀਏ ਨੂੰ <u>ਮੁਕਦਮ</u> ਕਿਹਾ ਜਾਂਦਾ ਹੈ।
2. ਆਮਿਲ	2. ਪ੍ਰਾਂਤਾਂ ਦੇ ਰਾਜਪਾਲਾਂ ਨੂੰ ਮੁਕਤੀ, ਵਲੀ ਜਾਂ <u>ਸੂਬੇਦਾਰ</u> ਕਿਹਾ ਜਾਂਦਾ ਸੀ।
3. ਮੁਕੱਦਮ	3. <u>ਆਮਿਲ</u> ਪਰਗਨੇ ਦਾ ਮੁੱਖ ਅਧਿਕਾਰੀ ਹੁੰਦਾ ਸੀ।

ਪ੍ਰ.2 ਮੁਹੰਮਦ-ਬਿਨ-ਤੁਗਲਕ ਨੇ ਆਪਣੀ ਰਾਜਧਾਨੀ ਨਕਸ਼ੇ ਵਿੱਚ ਦਰਸਾਈ ਥਾਂ ਤੇ ਬਦਲ ਦਿੱਤੀ ਸੀ। ਇਸ ਜਗ੍ਹਾ ਦਾ ਨਾਂ ਦੱਸੋ।

ਉੱਤਰ -> ਦੇਵਗਿਰੀ (ਦਿਲਤਾਬਾਦ)



ਪ੍ਰ.3 ਸਹੀ ਵਿਕਲਪ ਚੁਣੋ:-

1. ਹੇਠ ਲਿਖਿਆਂ ਵਿੱਚੋਂ ਕੌਣ ਕੁਤਬਦੀਨ ਐਬਕ ਦਾ ਦਾਸ ਸੀ?
 - (ੳ) ਬਲਬਨ (ਅ) ਇਲਤੁਤਮਿਸ਼ (ੲ) ਅਲਾਉਦੀਨ ਖਿਲਜੀ (ਸ) ਅਰਾਮਸ਼ਾਹ
2. ਸੈਨਿਕਾਂ ਦੇ ਹੁਲੀਏ ਲਿਖਣ ਅਤੇ ਘੋੜਿਆਂ ਨੂੰ ਦਾਗਨ ਦੀ ਪ੍ਰਥਾ ਹੇਠ ਲਿਖਿਆਂ ਵਿੱਚੋਂ ਕਿਹੜੇ ਸ਼ਾਸਕ ਨੇ ਆਰੰਭ ਕੀਤੀ?
 - (ੳ) ਅਲਾਉਦੀਨ ਖਿਲਜੀ (ਅ) ਮੁਹੰਮਦ-ਬਿਨ-ਤੁਗਲਕ (ੲ) ਰਜ਼ੀਆ ਸੁਲਤਾਨ (ਸ) ਫਿਰੋਜ਼ ਸ਼ਾਹ ਤੁਗਲਕ
3. ਹੇਠ ਲਿਖਿਆਂ ਵਿੱਚੋਂ ਕਿਹੜਾ ਸ਼ਹਿਰ ਫਿਰੋਜ਼ਸ਼ਾਹ ਤੁਗਲਕ ਨੇ ਨਹੀਂ ਵਸਾਇਆ ਸੀ?
 - (ੳ) ਫਿਰੋਜ਼ਾਬਾਦ (ਅ) ਹਿਸਾਰ (ੲ) ਜੌਨਪੁਰ (ਸ) ਫਤਿਹਪੁਰ ਸੀਕਰੀ
4. ਤੈਮੂਰ ਨੇ ਭਾਰਤ ਤੇ ਹਮਲਾ ਕਦੋਂ ਕੀਤਾ?
 - (ੳ) 1398 ਈ. (ਅ) 1525 ਈ. (ੲ) 1232 ਈ. (ਸ) 1526 ਈ.

ਪ੍ਰ.4 ਹੇਠ ਦਿੱਤੀ ਪੜਲ ਵਿੱਚੋਂ ਦਿੱਲੀ ਸਲਤਨਤ ਦੇ ਸ਼ਾਸਕਾਂ ਦੇ ਨਾਮ ਲੱਭੋ:-

ਮੁ	ਹੰ	ਅ	ੳ	ਕ	ਸ	ਰ	ਰ	ਜ	ਖਿ
ਇ	ਹ	ਹਾ	ਨੀ	ਰਾ	ਪ	ਜੀ	ਜ	ਮੀ	ਜ਼
ਬ	ਰ	ਮ	ਜ	ਰ	ਨ	ਆ	ਝ	ਗਿ	ਰ
ਰਾ	ਸ਼	ੜ	ਦ	ਜ	ਸ	ਤ	ਸ	ਅ	ਖਾਂ
ਹਿ	ਝ	ਗ	ਸ਼ੈ	ਬਿ	ਰ	ੲ	ਨ	ਕੁ	ਮ
ਮ	ਤਾ	ਬ	ਲ	ਬ	ਨ	ਖ	ਨ	ਸੁ	ਨਾ
ਲੇ	ਫਿ	ਰੇ	ਜ਼	ਸ਼ਾ	ਹ	ਤੁ	ਗ	ਲ	ਕ
ਥੀ	ਛਾ	ਜ	ਕ	ਨ	ਸ	ਜਾ	ਗ	ਰਾ	ਪੀ
ਸੁ	ਧ	ਇ	ਲ	ਤੁ	ਤ	ਮਿ	ਸ਼	ਮ	ਨਾ
ਮ	ਖੀ	ਸਾ	ਸਿ	ਕੱ	ਦ	ਰ	ਲੇ	ਥੀ	ਕ
ਅ	ਲਾ	ਉ	ਦੀ	ਨ	ਖਿ	ਲ	ਜੀ	ਨਾ	ਸੀ

ਪ੍ਰ.5 ਹੇਠ ਲਿਖੇ ਪ੍ਰਸ਼ਨਾਂ ਦੇ ਉੱਤਰ ਸੰਖੇਪ ਵਿੱਚ ਦਿਓ:

1) ਬਲਬਨ ਨੇ ਸਲਤਨਤ ਦਾ ਸੰਗਠਨ ਕਿਵੇਂ ਕੀਤਾ?
ਉੱਤਰ

ਉਸ ਨੇ ਦਿੱਲੀ ਦੇ ਨੇੜੇ ਸੈਫੀਆਂ ਵਜ਼ਾਮਾ ਕੋਲ ਹੋਈ ਸਜ਼ਾਤੀਆਂ ਦਾ ਦੁਆਬੇ ਦੇ ਉਦੇਸ਼ਾਂ ਤੇ ਗੜ੍ਹ ਪਾਇਆ। ਉਸ ਨੇ ਬੀਗਲ ਵਿੱਚ ਤੁਗਲਕ ਦੇ ਵਿਦਰੋਹ ਨੂੰ ਕਾਬੂ ਪਾਇਆ ਅਤੇ ਦੇਸ਼ੀਆਂ ਨੂੰ ਸਖ਼ਤ ਸਜ਼ਾਵਾਂ ਦਿੱਤੀਆਂ। ਉਸਨੇ ਡੇ ਦਾ ਪੁਨਰ-ਸੰਗਠਨ ਕੀਤਾ। ਉਸਨੇ ਅਗੋਲਾਂ ਦੀ ਵਿੱਥ ਵਿੱਚ ਕੋਠੇ ਨੇੜੀ ਅਪਣਾਈ।

2) ਮੁਹੰਮਦ-ਬਿਨ-ਤੁਗਲਕ ਨੇ ਆਪਣੀ ਰਾਜਧਾਨੀ ਦਿੱਲੀ ਤੋਂ ਦੇਵਗਿਰੀ ਕਿਉਂ ਬਦਲੀ ਸੀ?
ਉੱਤਰ

1. ਸ਼ਾਮਸ਼ਾਦ ਦੀ ਅਗੋਲਾਂ ਦੇ ਹਮਲਿਆਂ ਤੋਂ ਰੱਖਿਆ ਧਰਨਾ।
2. ਸ਼ਾਮਸ਼ਾਦ ਦੇ ਜਾਨਨ ਪ੍ਰਬੰਧ ਨੂੰ ਦਿੱਲੀ ਦੀ ਬਜਾਏ ਦੇਵਗਿਰੀ ਤੋਂ ਚੰਗੀ ਤਰ੍ਹਾਂ ਚਲਾ ਸਕਣਾ।

3) ਅਲਾਉਦੀਨ ਖਿਲਜੀ ਦੇ ਆਰਥਿਕ ਸੁਧਾਰਾਂ ਤੇ ਨੋਟ ਲਿਖੋ।
ਉੱਤਰ

1. ਅਲਾਉਦੀਨ ਖਿਲਜੀ ਦੇ ਆਰਥਿਕ ਸੁਧਾਰ।
2. ਸੱਚੇ ਸੁਧਾਰ।

ਸ਼ਾਮਲ

ਪਾਠ - ਮੁਗਲ ਸਾਮਰਾਜ

ਪ੍ਰ 1. ਦਿੱਤੇ ਗਏ ਸੰਕੇਤਾਂ ਦੇ ਆਧਾਰ ਤੇ ਵਿਅਕਤੀ ਦਾ ਨਾਂ ਦੱਸੋ ਇਕ ਖਾਨੇ ਵਿੱਚ ਇਕ ਹੀ ਅੱਖਰ ਭਰਿਆ ਜਾਵੇ:-

1. ਮੁਗਲ ਮੱਧ ਏਸ਼ੀਆ ਦੇ ਇਸ ਮੰਗੋਲ ਸ਼ਾਸਕ ਦੇ ਵੰਸ਼ਜ ਸਨ। ਚੰਗੇ ਸ਼ਾਖ
2. ਬਾਬਰ ਨੇ ਇਸ ਰਾਜੇ ਨੂੰ ਕਨਵਾਹ ਦੀ ਲੜਾਈ ਵਿੱਚ ਹਰਾਇਆ ਸੀ। ਗੁਰਮੁੰਗ
3. ਇਸ ਨੇ ਹੁਮਾਯੂੰ ਨੂੰ ਹਰਾ ਕੇ ਭਾਰਤ ਵਿੱਚੋਂ ਬਾਹਰ ਕੱਢ ਦਿੱਤਾ ਸੀ। ਜ਼ੋਰ ਜਾਹ ਸੁਰੀ
4. ਅਕਬਰ ਦੇ ਇਸ ਮੰਤਰੀ ਨੇ ਲਗਾਨ ਵਿਭਾਗ ਵਿੱਚ ਬਹੁਤ ਸੁਧਾਰ ਕੀਤੇ। ਗੁਣ ਖੁਤ ਪਸਿਯ
5. ਜਹਾਂਗੀਰ ਦੀ ਇਹ ਪਤਨੀ ਰਾਜਪ੍ਰਬੰਧ ਵਿੱਚ ਬਹੁਤ ਦਿਲਚਸਪੀ ਰੱਖਦੀ ਸੀ। ਨੂਰ ਜਹਾਂ
6. ਇਸਨੇ ਆਪਣੇ ਪਿਤਾ ਨੂੰ ਆਗਰੇ ਦੇ ਕਿਲੇ ਵਿੱਚ ਕੈਦ ਕਰ ਲਿਆ ਸੀ। ਸ਼ੀਰ ਗ਼ਾਬ

ਪ੍ਰ. 2 ਸਹੀ ਵਿਕਲਪ ਚੁਣੋ:-

- ਚੌਧਰੀ, ਪਟਵਾਰੀ ਅਤੇ ਮੁਕੱਦਮ ਹੇਠ ਲਿਖਿਆਂ ਵਿੱਚੋਂ ਕਿਹੜੇ ਪੱਧਰ ਦੇ ਅਧਿਕਾਰੀ ਸਨ?
(ੳ) ਪ੍ਰਾਂਤ (ਅ) ਪਰਗਨਾ (ੲ) ਪਿੰਡ (ਸ) ਇਹਨਾਂ ਵਿੱਚੋਂ ਕੋਈ ਨਹੀਂ
- ਅਕਬਰ ਦੇ ਸਮੇਂ ਭੂਮੀ ਦੀ ਵੰਡ ਦਾ ਹੇਠ ਲਿਖਿਆਂ ਵਿੱਚੋਂ ਕਿਹੜਾ ਪ੍ਰਕਾਰ ਨਹੀਂ ਸੀ?
(ੳ) ਪੋਲਜ਼ (ਅ) ਪਰੋਤੀ (ੲ) ਛੱਫਰ (ਸ) ਕਨਕੂਤ
- ਵਪਾਰਿਕ ਸਹੂਲਤਾਂ ਲੈਣ ਲਈ ਜਹਾਂਗੀਰ ਦੇ ਦਰਬਾਰ ਵਿੱਚ ਆਉਣ ਵਾਲਾ ਇੰਗਲੈਂਡ ਦਾ ਰਾਜਦੂਤ ਕੌਣ ਸੀ?
(ੳ) ਸਰ ਥਾਮਸ ਰੋ (ਅ) ਵਿਲਿਅਮ ਹਾਕਿੰਜ਼ (ੲ) ਅਲਬਰੂਨੀ (ਸ) ਮਾਰਕੋ ਪੋਲੋ
- ਈਰਾਨ ਦੇ ਸ਼ਾਸਕ ਨਾਦਿਰ ਸ਼ਾਹ ਨੇ ਭਾਰਤ ਤੇ ਹਮਲਾ ਕਦੋਂ ਕੀਤਾ?
(ੳ) 1739 ਈ. (ਅ) 1759 ਈ. (ੲ) 1740 ਈ. (ਸ) 1772 ਈ.

ਪ੍ਰ.3 ਮੁਗਲ ਸ਼ਾਸਕ ਨੂੰ ਉਹਨਾਂ ਦੇ ਪਹਿਲੇ ਆਉਣ ਦੇ ਕ੍ਰਮ ਅਨੁਸਾਰ ਟਾਈਮ ਲਾਈਨ ਤੇ ਦਰਸਾਓ :-

1. ਅਕਬਰ
2. ਔਰੰਗਜ਼ੇਬ
3. ਸ਼ਾਹਜਹਾਂ
4. ਬਾਬਰ
5. ਜਹਾਂਗੀਰ
6. ਹੁਮਾਯੂੰ

1. ਬਾਬਰ
2. ਹੁਮਾਯੂੰ
3. ਅਕਬਰ
4. ਜਹਾਂਗੀਰ
5. ਸ਼ਾਹਜਹਾਂ
6. ਔਰੰਗਜ਼ੇਬ

ਪ੍ਰ.4 ਹੇਠ ਲਿਖੇ ਪ੍ਰਸ਼ਨਾਂ ਦੇ ਉੱਤਰ ਸੰਖੇਪ ਵਿੱਚ ਦਿਓ:

1) ਬਾਬਰ ਦੀਆਂ ਜਿੱਤਾਂ ਬਾਰੇ ਤੁਸੀਂ ਕੀ ਜਾਣਦੇ ਹੋ?

ਉੱਤਰ 1526 ਈ. ਵਿੱਚ ਬਾਬਰ ਨੇ ਇਕਬਾਲੀ ਯੁੱਧ ਨੂੰ ਪਾਇਕੋਟ ਦੀ ਪਹਿਲੀ ਲੜਾਈ ਵਿੱਚ ਹੁਮਾਯੂੰ ਦੀ ਫੌਜ ਨੂੰ ਮਾਰਿਆ ਤੇ ਦਰਬਾਰ ਕਰ ਲਿਆ। ਬਾਬਰ ਨੇ ਗਵਾ ਸਾਂਗਾ ਨੂੰ 1527 ਈ. ਵਿੱਚ ਕਨਕੂਤ ਦੀ ਲੜਾਈ ਵਿੱਚ ਹਰਾਇਆ।

2) ਮਨਸਬਦਾਰੀ ਪ੍ਰਣਾਲੀ ਤੋਂ ਕੀ ਭਾਵ ਹੈ?





ਉੱਤਰ ਇਹ ਹੈ ਮੁਗਲ ਸ਼ਾਸਕਾਂ ਦਾ ਵਿਸ਼ਵਾਸ ਹੈ ਕਿ ਉਹਨਾਂ ਤੇ ਮੁਗਲ ਸ਼ਾਸਕਾਂ ਨੇ ਵੱਖ-ਵੱਖ ਸਮੂਹਾਂ ਦੇ ਮੈਂਬਰਾਂ ਨੂੰ ਸੁਸ਼ਾਸਨ ਵਿੱਚ ਨਿਯੁਕਤ ਕਰਨਾ ਸ਼ੁਰੂ ਕੀਤਾ, ਇਨ੍ਹਾਂ ਨੂੰ ਮਨਸਬਦਾਰੀ ਕਿਹਾ ਜਾਂਦਾ ਹੈ।

3) ਅਕਬਰ ਦੀਆਂ ਜਿੱਤਾਂ ਬਾਰੇ ਲਿਖੋ।

ਉੱਤਰ ਅਕਬਰ ਨੇ ਆਪਣੇ ਸਾਮਰਾਜ ਦਾ ਵਿਸਥਾਰ ਕਰਨ ਲਈ ਗਵਾਠੀਆਂ, ਸੋਮਨਾਥ ਅਤੇ ਮਾਲਵਾ ਤੇ ਜਿੱਤ ਪ੍ਰਾਪਤ ਕੀਤੀ। ਅਕਬਰ ਗੁਰੂ ਪੁਰ ਤੇ ਨਾਲ ਦੋਸਤਾਨਾਂ ਦੀ ਖੋਲ੍ਹ ਕਾਇਮ ਕਰਨਾ ਇਹ ਸੀ। ਉਸ ਨੇ ਗੁਰੂ ਪੁਰ ਤੇ ਗੁਰੂ ਦਾ ਦਫ਼ਤਰ ਕਰਵਾਇਆ।

ਪਾਠ- ਸਮਾਰਕ ਨਿਰਮਾਣ ਕਲਾ





ਪ੍ਰ.1 ਹੇਠ ਦਿੱਤੇ ਚਿੱਤਰਾਂ ਨੂੰ ਪਛਾਣ ਕੇ ਸਮਾਰਕਾਂ ਦੇ ਨਾਂ ਅਤੇ ਸਥਾਨ ਦੱਸੋ।

ਲੜੀ ਨੰ	ਚਿੱਤਰ	ਸਮਾਰਕ ਦਾ ਨਾਂ	ਕਿੱਥੇ ਸਥਿੱਤ ਹਨ?
1.		ਤਾਜ ਮਹਿਲ	ਅਗਰਾ
2.		ਫ਼ਾਲ ਕਿਲ੍ਹਾ	ਦਿੱਲੀ
3.		ਸੁਰਕ ਮੰਦਰ	ਕੋਨਾਰਕ
4.		ਕੋਲਾਸ਼ ਮੰਦਰ	ਮੱਲੋਰਾ

ਪ੍ਰ. 2 ਸਹੀ ਮਿਲਾਨ ਕਰੋ:-

(ੳ)

(ਅ)

	1.	1. ਇਸ ਸਮਾਰਕ ਨੂੰ ਅਕਬਰ ਨੇ ਆਪਣੀ ਗੁਜਰਾਤ ਦੀ ਜਿੱਤ ਦੀ ਖੁਸ਼ੀ ਵਿੱਚ ਬਣਵਾਇਆ ਸੀ।
	2.	2. ਅਲਾਉਦੀਨ ਖਿਲਜੀ ਦੁਆਰਾ ਬਣਵਾਇਆ ਗਿਆ ਇਹ ਸਮਾਰਕ ਦਿੱਲੀ ਵਿਖੇ ਸਥਿੱਤ ਹੈ।
	3.	3. ਇਹ ਭੁਵਨੇਸ਼ਵਰ ਵਿਖੇ ਸਥਿੱਤ ਹੈ।
	4.	4. ਬਾਹਮਨੀ ਰਾਜਕਾਲ ਵਿਚ ਬਣੀ ਇਹ ਇਮਾਰਤ ਹੈਦਰਾਬਾਦ ਵਿੱਚ ਸਥਿੱਤ ਹੈ।

ਪ੍ਰ. 3 ਦਿੱਤੇ ਗਏ ਤੱਥਾਂ ਦੇ ਅਧਾਰ ਤੇ ਵਰਗ ਪਹੇਲੀ ਹੱਲ ਕਰੋ।

			1ਵ				2ਵ
			ਜੀ	3 ਤ			ਰ
		1 ਸੂ	ਰ	ਜ	ਮੰ	ਦ	ਰਖ
			ਬਾ	ਪ			੨
			ਗ	ਲ		4	੨
2 ਲਿ	ਗ	ਗ	੨	੨	੨		
				੨			
				੨			
	3 ਕੋ	ਲਾ	ਸ	੨	੨		

ਉੱਪਰ ਤੋਂ ਥੱਲੇ:-

1. ਸ਼ਾਹਜਹਾਂ ਦੁਆਰਾ ਬਣਵਾਇਆ ਗਿਆ ਇਹ ਬਾਗ ਕਸ਼ਮੀਰ ਵਿਖੇ ਸਥਿੱਤ ਹੈ।
2. ਨਾਦਰ ਸ਼ਾਹ ਇਸਨੂੰ ਆਪਣੇ ਨਾਲ ਈਰਾਨ ਲੈ ਗਿਆ ਸੀ।
3. ਗੁਜਰਾਤ ਦੇ ਸੋਲੰਕੀ ਵੰਸ਼ ਦੇ ਸ਼ਾਸਕਾਂ ਨੇ ਮਾਊਂਟ ਆਬੂ ਵਿਖੇ ਇਹ ਮੰਦਰ ਬਣਵਾਇਆ ਸੀ।
4. ਇਸ ਇਮਾਰਤ ਨੂੰ ਬਾਹਮਨੀ ਸ਼ਾਸਕਾਂ ਨੇ ਹੈਦਰਾਬਾਦ ਵਿਖੇ ਬਣਵਾਇਆ ਸੀ।

ਖੱਬੇ ਤੋਂ ਸੱਜੇ:-

1. ਇਹ ਮੰਦਰ ਕੋਨਾਰਕ ਵਿਖੇ ਸਥਿੱਤ ਹੈ।
2. ਇਹ ਮੰਦਰ ਭੁਵਨੇਸ਼ਵਰ ਵਿਖੇ ਸਥਿੱਤ ਹੈ।
3. ਇਸਨੂੰ ਕੁਤਬਉਦੀਨ ਐਬਕ ਨੇ ਦਿੱਲੀ ਵਿਖੇ ਬਣਵਾਇਆ ਸੀ।

ਪ੍ਰ 4 ਹੇਠ ਲਿਖੇ ਪ੍ਰਸ਼ਨਾਂ ਦੇ ਉੱਤਰ ਸੰਖੇਪ ਵਿੱਚ ਦਿਓ:

1) ਉੱਤਰੀ ਅਤੇ ਦੱਖਣੀ ਭਾਰਤ ਦੇ ਮੰਦਰਾਂ ਦੀ ਸੂਚੀ ਬਣਾਓ:

ਉੱਤਰ	ਉੱਤਰੀ ਭਾਰਤ ਦੇ ਮੰਦਰ	ਦੱਖਣੀ ਭਾਰਤ ਦੇ ਮੰਦਰ
	ਜਗਨਨਾਥ ਪੂਰੀ ਵਿੱਚ ਵਿਖਾਨੂੰ ਦਾ ਮੰਦਰ	ਹਾਕੋਸ਼ਵਰ ਮੰਦਰ
	ਭੁਵੇਸ਼ਵਰ ਵਿੱਚ ਲਿੰਗਗੜ ਮੰਦਰ	ਮੰਦਰ ਦਾ ਵਿਖੇ ਸੋਲੀ
	ਕੋਨਾਰਕ ਵਿੱਚ ਸੂਰਜ ਮੰਦਰ	ਕੋਨਾਰਕ ਮੰਦਰ

2) ਮੁਗਲ ਬਾਦਸ਼ਾਹ ਸ਼ਾਹਜਹਾਂ ਨੂੰ ਭਵਨ ਨਿਰਮਾਤਾਵਾਂ ਦਾ ਸ਼ਾਹਜ਼ਾਦਾ ਕਿਉਂ ਕਿਹਾ ਜਾਂਦਾ ਹੈ?

ਉੱਤਰ. ਮੁਗਲ ਸ਼ਾਸਕਾਂ ਵਿੱਚੋਂ ਸ਼ਾਹਜਹਾਂ ਇੱਕ ਖਾਸ ਭਵਨ ਨਿਰਮਾਤਾ ਸੀ। ਉਸਨੂੰ ਭਵਨ ਨਿਰਮਾਤਾਵਾਂ ਦਾ ਸ਼ਾਹਜ਼ਾਦਾ ਕਿਹਾ ਜਾਂਦਾ ਸੀ। ਉਸ ਨੇ ਆਪਣੇ ਹਾਕਮਾਨ ਉਹਨਾਂ ਬਹੁਤ ਸਾਰਿਆਂ ਇਮਾਰਤਾਂ ਬਣਵਾਈਆਂ। ਉਸ ਦੁਆਰਾ ਬਾਗਾਂ ਵੀ ਬਣਾਏ ਗਏ। ਇਹਨਾਂ ਦੇ ਬਾਅਦ ਈਰਾਨ ਦੇ ਆਸਲ ਮੰਦਰ ਬਣਾਏ ਗਏ। ਇਹਨਾਂ ਦੇ ਨਿਰਮਾਤਾ ਕੀਤਾ ਗਿਆ।