

ਪਾਠ ਪ੍ਰਿਥਵੀ : ਸੂਰਜ ਪਰਿਵਾਰ ਦਾ ਅੰਗ

ਬਹੁ-ਵਿਕਲਪੀ ਪ੍ਰਸ਼ਨ-ਉੱਤਰ:

1. ਮੈਂ ਇੰਨਾ ਵੱਡਾ ਹਾਂ ਕਿ ਮੇਰੇ ਆਕਾਰ ਬਾਰੇ ਆਮ ਜਿਹਾ ਅੰਦਾਜ਼ਾ ਹੀ ਨਹੀਂ ਲਗਾਇਆ ਜਾ ਸਕਦਾ, ਮੈਂ ਕੀ ਹਾਂ?

(ੳ) ਸੂਰਜ

(ਅ) ਅਕਾਸ਼

(ੲ) ਬ੍ਰਹਿਮੰਡ

(ਸ) ਧਰਤੀ

2. ਕਿਹੜਾ ਗ੍ਰਹਿ ਸੂਰਜ ਦੇ ਸਭ ਤੋਂ ਨੇੜੇ ਹੈ?

(ੳ) ਬੁੱਧ

(ਅ) ਸ਼ਨੀ

(ੲ) ਧਰਤੀ

(ਸ) ਮੰਗਲ

3. ਪ੍ਰਿਥਵੀ ਨੂੰ ਸੂਰਜ ਦੁਆਲੇ ਪਰਿਕਰਮਾ ਕਰਨ ਵਿੱਚ ਕਿੰਨਾ ਸਮਾਂ ਲਗਦਾ ਹੈ?

(ੳ) 365 ਦਿਨ

(ਅ) 365 $\frac{1}{4}$ ਦਿਨ

(ੲ) 366 ਦਿਨ

(ਸ) 88 ਦਿਨ

4. ਬੁੱਧ ਸੂਰਜ ਦੁਆਲੇ ਆਪਣੀ ਪਰਿਕਰਮਾ ਕਿੰਨੇ ਦਿਨਾਂ ਵਿੱਚ ਪੂਰੀ ਕਰਦਾ ਹੈ?

(ੳ) 88 ਦਿਨ

(ਅ) 365 $\frac{1}{4}$ ਦਿਨ

(ੲ) 366 ਦਿਨ

(ਸ) 28 ਦਿਨ

5. ਚੰਨ ਪ੍ਰਿਥਵੀ ਦੀ ਪਰਿਕਰਮਾ ਕਿੰਨੇ ਦਿਨਾਂ ਵਿੱਚ ਪੂਰੀ ਕਰਦਾ ਹੈ?

(ੳ) 88 ਦਿਨ

(ਅ) 27 ਦਿਨ 7 ਘੰਟੇ

(ੲ) 28 ਦਿਨ

(ਸ) 27 ਦਿਨ

6. ਚੰਨ ਦੀ ਧਰਤੀ ਤੋਂ ਕਿੰਨੀ ਦੂਰੀ ਹੈ?

(ੳ) 380,00 ਕਿ:ਮੀ:

(ਅ) 384,400 ਕਿ: ਮੀ:

(ੲ) 12,103 ਕਿ:ਮੀ:

(ਸ) 4878

ਕਿ:ਮੀ:


ਖਾਲੀ ਥਾਵਾਂ ਭਰੋ:

1. ਦੂਰੀ ਦੇ ਆਧਾਰ ਤੇ ਸੂਰਜ ਸਾਡੀ ਪ੍ਰਿਥਵੀ ਤੋਂ 15 ਕਰੋੜ ਕਿਲੋਮੀਟਰ ਦੂਰ ਹੈ।

2. ਪ੍ਰਿਥਵੀ ਦਾ ਕੇਵਲ ਇੱਕ ਉਪਗ੍ਰਹਿ ਹੈ, ਜਿਸ ਦਾ ਨਾਮ ਚੰਦਰਮਾ ਹੈ।

3. ਜਿਹੜੇ ਆਕਾਸ਼ੀ ਪਿੰਡ ਆਪਣੀ ਰੌਸ਼ਨੀ ਕਰਕੇ ਚਮਕਦੇ ਹਨ, ਉਹਨਾਂ ਨੂੰ ਖਗੋਲੀ ਪਿੰਡ ਆਖਦੇ ਹਨ।
4. ਸੂਰਜ ਵੀ ਇੱਕ ਤਾਰਾ ਹੈ।
5. ਸੂਰਜੀ ਪਰਿਵਾਰ ਅਕਾਸ਼ ਗੰਗਾ ਗਲੈਕਸੀ ਵਿੱਚ ਸਥਿੱਤ ਹੈ।
6. ਸੂਰਜ ਘੁੰਮਦੇ ਗੈਸੀ ਬੱਦਲ ਤੋਂ ਬਣਿਆ, ਜਿਸ ਨੂੰ ਨੈਬੂਲਾ ਆਖਦੇ ਹਨ।

ਸੂਰਜ ਅਤੇ ਉਸ ਦੇ ਪਰਿਵਾਰ ਨੂੰ ਦਰਸਾਉ। (ਚੱਕਰਾਂ ਵਿੱਚ ਗ੍ਰਹਿਆਂ ਦੇ ਨਾਮ ਲਿਖੋ)



ਪ੍ਰਸ਼ਨ-ਉੱਤਰ:

1. ਬ੍ਰਹਿਮੰਡ ਤੋਂ ਕੀ ਭਾਵ ਹੈ?

ਉੱਤਰ: ਸੂਰਜ, ਚੰਦ, ਪਰਤੀ, ਚੰਨ ਅਤੇ ਨਿੱਕੇ-ਵੱਡੇ ਤਾਰੇ, ਪੁੰਜ ਅਤੇ ਗੈਸਾਂ
 ਅਤੇ ਬ੍ਰਹਿਮੰਡ ਵਿੱਚ ਸੋਜ਼ਦਾਨ।

2. ਆਕਾਰ ਅਨੁਸਾਰ ਗ੍ਰਹਿਆਂ ਵਿੱਚ ਪ੍ਰਿਥਵੀ ਕਿਹੜੇ-ਕਿਹੜੇ ਗ੍ਰਹਿਆਂ ਤੋਂ ਛੋਟੀ ਹੈ?

ਉੱਤਰ: 4 ਗ੍ਰਹਿ ਤੋਂ, ਬੁੱਧ, ਸ਼ੁੱਕਰ, ਭੁਵਨਗ, ਨੈਪਚੂਨ

3. ਭੂ-ਮੱਧ ਰੇਖਾ ਬਾਰੇ ਲਿਖੋ।

ਉੱਤਰ: ਇਸਰੀਰ ਦੇ ਮੱਧ ਵਿੱਚ ਪੂਰਬ ਤੋਂ ਪੱਛਮ ਵੱਲ ਦੇ ਸਿਰਿਆਂ ਨੂੰ ਜਿਸ ਵਿੱਚ ਵਿਸ਼ੇਸ਼ ਕਲਪਿਤ ਰੇਖਾ, ਨੂੰ ਭੂ-ਮੱਧ ਰੇਖਾ ਕਹਿੰਦੇ ਹਨ। ਇਸਰੀਰ ਨੂੰ ਦੋ ਧਰਾ ਧਰ ਤਿੰਨ ਸਿੱਕੇ ਵੰਡਦੀ ਹੈ।

4. ਧਰਾ ਤੋਂ ਕੀ ਭਾਵ ਹੈ?

ਉੱਤਰ: ਅਸਲ ਵਿੱਚ ਕਲਪਿਤ ਰੇਖਾ ਹੈ ਜੋ ਧਰਤੀ ਦੇ ਇੱਕ ਧਰਾ ਧਰ ਤੋਂ ਦੂਜੇ ਧਰਾ ਤੋਂ ਧਰਤੀ ਦੇ ਮੱਧ ਵਿੱਚੋਂ ਜ਼ਰੂਰੀ ਗੰਠੀ ਬੰਦੀ ਹੈ।

ਪਾਠ- ਗਲੋਬ: ਧਰਤੀ ਦਾ ਮਾਡਲ

ਬਹੁ-ਵਿਕਲਪੀ ਪ੍ਰਸ਼ਨ-ਉੱਤਰ:

1. ਗਲੋਬ ਧਰਤੀ ਦਾ ਬਿਲਕੁਲ ਸਹੀ ਮਾਡਲ ਹੈ ਅਤੇ ਇੱਕ ਤ੍ਰਿ-ਪਾਸੀ ਮਾਡਲ ਹੈ।

(ੳ) ਦੋ-ਪਾਸੀ (ਅ) ਤ੍ਰਿ-ਪਾਸੀ (ੲ) ਇਕ-ਪਾਸੀ (ਸ) ਚੁੱਕਵਾਂ

2. ਇਹ ਇੱਕ ਕਲਪਿਤ ਰੇਖਾ ਹੈ ਜੋ ਧਰਤੀ ਨੂੰ ਦੋ ਇੱਕ ਸਮਾਨ ਅਰਧ ਭਾਗਾਂ ਵਿੱਚ ਵੰਡਦੀ ਹੈ।

(ੳ) ਭੂ-ਮੱਧ (ਅ) ਕਰਕ (ੲ) ਮਕਰ (ਸ) ਇਹਨਾਂ 'ਚੋਂ ਕੋਈ ਨਹੀਂ

3. ਭੂ-ਮੱਧ ਰੇਖਾ ਸਮੇਤ ਵਿੱਥਕਾਰਾਂ ਦੀ ਕੁੱਲ ਗਿਣਤੀ ਕਿੰਨੀ ਹੈ?

(ੳ) 180

(ਅ) 181

(ੲ) 90

(ਸ) 360

4. 0 ਡਿਗਰੀ ਤੋਂ $23\frac{1}{2}$ ਡਿਗਰੀ ਉੱਤਰ ਵੱਲ ਖਿੱਚੇ ਅਕਸ਼ਾਂਸ਼ ਨੂੰ ਕਿਹੜੀ ਰੇਖਾ ਆਖਦੇ ਹਨ ?

(ੳ) ਮਕਰ

(ਅ) ਭੂ-ਮੱਧ

(ੲ) ਕਰਕ

(ਸ) ਇਹਨਾਂ 'ਚੋਂ ਕੋਈ ਨਹੀਂ

5. 0 ਡਿਗਰੀ ਤੋਂ $23\frac{1}{2}$ ਡਿਗਰੀ ਦੱਖਣ ਵੱਲ ਖਿੱਚੇ ਅਕਸ਼ਾਂਸ਼ ਨੂੰ ਕਿਹੜੀ ਰੇਖਾ ਆਖਦੇ ਹਨ?

(ੳ) ਮਕਰ

(ਅ) ਭੂ-ਮੱਧ

(ੲ) ਕਰਕ

(ਸ) ਇਹਨਾਂ 'ਚੋਂ ਕੋਈ ਨਹੀਂ

6. ਗਲੋਬ ਉੱਪਰ ਲੰਬਕਾਰਾਂ ਦੀ ਕੁੱਲ ਗਿਣਤੀ ਕਿੰਨੀ ਹੈ?

(ੳ) 180

(ਅ) 181

(ੲ) 90

(ਸ) 360

ਖਾਲੀ ਥਾਵਾਂ ਭਰੋ:

1. ਮੁੱਖ ਮਧਿਆਨ ਰੇਖਾ ਇੰਗਲੈਂਡ ਦੇ ਗ੍ਰੀਨਵਿਚ ਸਥਾਨ ਵਿੱਚੋਂ ਗੁਜ਼ਰਦੀ ਹੈ।

2. ਮੁੱਖ ਮਧਿਆਨ ਰੇਖਾ 0° ਡਿਗਰੀ 'ਤੇ ਸਥਿਤ ਹੈ।

3. ਸਾਂਝਾ ਦਿਸ਼ਾਂਤਰ 180° ਡਿਗਰੀ ਦਾ ਹੁੰਦਾ ਹੈ।

4. ਇੱਕ ਦਿਸ਼ਾਂਤਰ ਤੋਂ ਦੂਜੇ ਦਿਸ਼ਾਂਤਰ ਤੱਕ ਸੂਰਜ ਅੱਗੇ ਧਰਤੀ ੪੫ ਮਿੰਟ ਵਿੱਚ ਸਫਰ ਪੂਰਾ ਕਰਦੀ ਹੈ।

5. ਭਾਰਤ ਵਿੱਚ $82\frac{1}{2}^\circ$ ਡਿਗਰੀ ਪੂਰਬੀ ਦਿਸ਼ਾਂਤਰ ਦਾ ਸਮਾਂ ਭਾਰਤੀ ਸਟੈਂਡਰਡ ਟਾਈਮ (IST) ਮੰਨਿਆ ਗਿਆ ਹੈ।

6. ਭਾਰਤੀ ਸਟੈਂਡਰਡ ਟਾਈਮ (IST) ਕੱਢਣ ਲਈ ਅਸੀਂ 82 ਡਿਗਰੀ ਨੂੰ $82\frac{1}{2} \times 4$ ਮਿੰਟ ਨਾਲ ਗੁਣਾ ਕਰਾਂਗੇ।

ਪ੍ਰਮੁੱਖ ਵਿਥਕਾਰਾਂ ਦਾ ਚਾਰਟ ਬਣਾਓ।

ਵਿਥਕਾਰ ਦੀ ਡਿਗਰੀ	ਵਿਥਕਾਰ ਦਾ ਨਾਂ
$66\frac{1}{2}$ ਉੱਤਰੀ ਧਰੁਵ	ਆਰਕਟਿਕ ਗੋਲਾਕਾਰ
$23\frac{1}{2}^\circ$ ਉੱਤਰੀ ਧਰੁਵ	ਕਰਕ ਰੇਖਾ
$23\frac{1}{2}^\circ$ ਦੱਖਣ	ਮਕਰ ਰੇਖਾ
0°	ਮੁੱਖ ਮਧਿਆਨ ਰੇਖਾ
$66\frac{1}{2}^\circ$ ਦੱਖਣੀ ਧਰੁਵ	ਅੰਧਰਕਿ ਗੋਲਾਕਾਰ

ਪ੍ਰਸ਼ਨ-ਉੱਤਰ:

1. ਉਸਣ ਤਾਪ ਖੰਡ ਤੋਂ ਕੀ ਭਾਵ ਹੈ?

ਉੱਤਰ: ਇਹ ਤਾਪ-ਖੰਡ ਧਰੀ ਕਰਕੇ ਤਾਂ ਸਰ ਰੱਖਾ ਦੇ ਵਿਚਾਲੇ ਦਾ ਖੰਡ ਹੈ। ਇਸ ਸਮੇਂ ਹੀ ਸਭ ਤੋਂ ਗਰਮ ਪੱਟੀ ਹੈ। ਸਾਹ ਸਾਲ ਦੁਪਹਿਰ ਵੇਲੇ ਇਸ ਧਰੀ ਉੱਤੇ ਸੂਰਜ ਦੀਆਂ ਕਿਰਨਾਂ ਸਿੱਧੀਆਂ ਪੈਂਦੀਆਂ ਹਨ।

2. ਗਰਿਡ ਜਾਂ ਜਾਲ ਤੋਂ ਕੀ ਭਾਵ ਹੈ?

ਉੱਤਰ: ਨਕਸ਼ਿਆ ਅਤੇ ਗਣਿਤ ਉੱਤੇ ਅਕਸ਼ਾਮਾਂ ਤੇ ਦੇਸ਼ਾਂਤਰਾਂ ਦਾ ਜਾਲ ਬਣਿਆ ਹੁੰਦਾ ਹੈ, ਇਸਨੂੰ ਗਰਿਡ ਆਖਦੇ ਹਨ।

3. ਗਲੋਬ ਬਾਰੇ ਸੰਖੇਪ ਵਿੱਚ ਲਿਖੋ।

ਉੱਤਰ: ਧਰਤੀ ਦਾ ਆਕਾਰ ਬਹੁਤ ਵੱਡੇ ਗੇਲੇ ਵਾਂਗ ਹੈ, ਅਸੀਂ ਪੂਰੀ ਧਰਤੀ ਨੂੰ ਇਕੋ ਸਕੇਲੀਂ ਦੇਖ ਸਕਦੇ। ਇਸ ਧਰਤੀ ਨੂੰ ਪੂਰਾ ਦੇਖਣ ਅਤੇ ਫਲਸਫੇ ਦੀ, ਇਸਦੇ ਮਾਡਲ ਬਣਾਇਆ ਗਿਆ, ਜਿਸਨੂੰ ਗਲੋਬ ਆਖਦੇ ਹਨ।

4. ਧਰਤੀ ਦੇ ਤਾਪ-ਖੰਡ ਤੋਂ ਕੀ ਭਾਵ ਹੈ?

ਉੱਤਰ: ਅਕਸ਼ਾਮਾਂ ਧਰਤੀ ਨੂੰ ਵੱਖ-ਵੱਖ ਤਾਪ ਖੰਡਾਂ ਵਿੱਚ ਵੰਡਦੇ ਹਨ। ਇਸਦੇ ਤਿੰਨ ਖੰਡ ਬਣਦੇ ਹਨ: ਸੂਰਜ ਦੀਆਂ ਕਿਰਨਾਂ ਸਿੱਧੀਆਂ ਕਿਰਨਾਂ ਧਰਤੀ ਤੇ ਸਿੱਧੀਆਂ ਪੈਂਦੀਆਂ ਹਨ ਤਾਂ ਪੱਛਮ ਪੱਛਮ ਪੱਛਮ ਕਿਰਨਾਂ ਵੀ ਗਰਮ ਕਰਨ ਦੀ ਸਰਤੀ ਸਿਖਾ ਦਾ ਹੁੰਦੀ ਹੈ, ਜਿਸਨੂੰ ਕਿਰਨਾਂ ਤਿੰਨ ਖੰਡਾਂ ਪੈਂਦੀਆਂ ਹਨ ਕਿ ਆਰਕ ਸਗੋਂ ਪੂਰਬੀ ਕਿਰਨਾਂ ਸਿਖਰ ਰਕੇ ਤਿੰਨਾਂ ਵੀ ਗਰਮ ਕਰਨ ਦੀ ਸਰਤੀ ਪੂਰਬੀ ਖੰਡ ਤਾਪ ਖੰਡ ਦੁਪਹਿਰ ਵੇਲੇ ਗਰਮ ਕਰਨ ਦੀ ਸਰਤੀ ਸਿਖਰ ਰਕੇ ਤਾਂ ਧਰਤੀ ਦਾ ਸਭ ਤੋਂ ਵੱਡਾ ਖੰਡ ਤਾਂ ਗਲੋਬ ਤੇ ਵੱਖ ਸੂਰਜ ਤਾਪ ਖੰਡ ਬਣਦਾ ਹੈ। ਜਿਸ ਵਿੱਚ ਅਸੀਂ ਫਿਰ ਵੀ ਉੱਚੀ ਗਰਮੀ ਵੱਲ ਜਾਂਦੇ ਹਾਂ।

ਪਾਠ- ਧਰਤੀ ਦੀਆਂ ਗਤੀਆਂ

ਬਹੁ-ਵਿਕਲਪੀ ਪ੍ਰਸ਼ਨ-ਉੱਤਰ:

1. ਦਿਨ ਰਾਤ ਧਰਤੀ ਦੀ ਕਿਸ ਗਤੀ ਕਰਕੇ ਬਣਦੇ ਹਨ ?

- (ੳ) ਵਾਰਸ਼ਿਕ ਗਤੀ (ਅ) ਦੈਨਿਕ ਗਤੀ (ੲ) ਰਾਤਰੀ ਗਤੀ (ਸ) ਇਹਨਾਂ 'ਚੋਂ ਕੋਈ ਨਹੀਂ

19/7/24

2. ਧਰਤੀ, ਸੂਰਜ ਦੇ ਦੁਆਲੇ ਕਿਸ ਦਿਸ਼ਾ ਤੋਂ ਕਿਸ ਦਿਸ਼ਾ ਵਿੱਚ ਘੁੰਮਦੀ ਹੈ ?

(ੳ) ਪੂਰਬ ਤੋਂ ਪੱਛਮ (ਅ) ਉੱਤਰ ਤੋਂ ਦੱਖਣ (ੲ) ਪੱਛਮ ਤੋਂ ਪੂਰਬ (ਸ) ਇਹਨਾਂ 'ਚੋਂ ਕੋਈ ਨਹੀਂ

3. ਰੁੱਤ-ਤਬਦੀਲੀ ਧਰਤੀ ਦੀ ਕਿਸ ਗਤੀ ਕਰਕੇ ਹੁੰਦੀ ਹੈ ?

(ੳ) ਵਾਰਸ਼ਿਕ ਗਤੀ (ਅ) ਦੈਨਿਕ ਗਤੀ (ੲ) ਰਾਤਰੀ ਗਤੀ (ਸ) ਇਹਨਾਂ 'ਚੋਂ ਕੋਈ ਨਹੀਂ

4. ਧਰਤੀ ਦੀ ਵਾਰਸ਼ਿਕ ਗਤੀ ਕਿੰਨੇ ਦਿਨਾਂ ਵਿੱਚ ਪੂਰੀ ਹੁੰਦੀ ਹੈ ?

(ੳ) 88 ਦਿਨ (ਅ) 365 $\frac{1}{4}$ ਦਿਨ (ੲ) 366 ਦਿਨ (ਸ) 400 ਦਿਨ

5. ਸਾਰੇ ਸੰਸਾਰ ਵਿੱਚ ਦਿਨ ਅਤੇ ਰਾਤ ਦੀ ਲੰਬਾਈ ਲਗਭਗ ਕਿਸ ਦਿਨ ਬਰਾਬਰ ਹੁੰਦੀ ਹੈ ?

(ੳ) 21 ਮਾਰਚ ਤੇ 23 ਸਤੰਬਰ (ਅ) 21 ਜੂਨ ਅਤੇ 22 ਦਸੰਬਰ
(ੲ) 25 ਦਸੰਬਰ (ਸ) ਇਹਨਾਂ 'ਚੋਂ ਕੋਈ ਨਹੀਂ

6. 21 ਜੂਨ ਨੂੰ ਸੂਰਜ ਦੀਆਂ ਕਿਰਨਾਂ ਕਿਸ ਕਲਪਿਤ ਰੇਖਾ ਤੇ ਸਿੱਧੀਆਂ ਪੈਂਦੀਆਂ ਹਨ?

(ੳ) ਮਕਰ (ਅ) ਭੂ-ਮੱਧ (ੲ) ਕਰਕ (ਸ) ਸਾਰੀਆਂ 'ਤੇ

ਖਾਲੀ ਥਾਵਾਂ ਭਰੋ:

1. 22 ਦਸੰਬਰ ਨੂੰ ਸੂਰਜ ਦੀਆਂ ਕਿਰਨਾਂ ਮਕਰ ਰੇਖਾ ਤੇ ਸਿੱਧੀਆਂ ਪੈਂਦੀਆਂ ਹਨ ।

2. ਲੀਪ ਦਾ ਸਾਲ 366 ਦਿਨਾਂ ਦਾ ਹੁੰਦਾ ਹੈ ।

3. ਜਦੋਂ ਸੂਰਜ ਦੀਆਂ ਕਿਰਨਾਂ ਭੂ-ਮੱਧ ਰੇਖਾ ਉੱਤੇ ਸਿੱਧੀਆਂ ਪੈ ਰਹੀਆਂ ਹੁੰਦੀਆਂ ਹਨ, ਇਸ ਅਵਸਥਾ ਨੂੰ ਵਿਸ਼ੁਵੀ ਆਖਦੇ ਹਨ ।

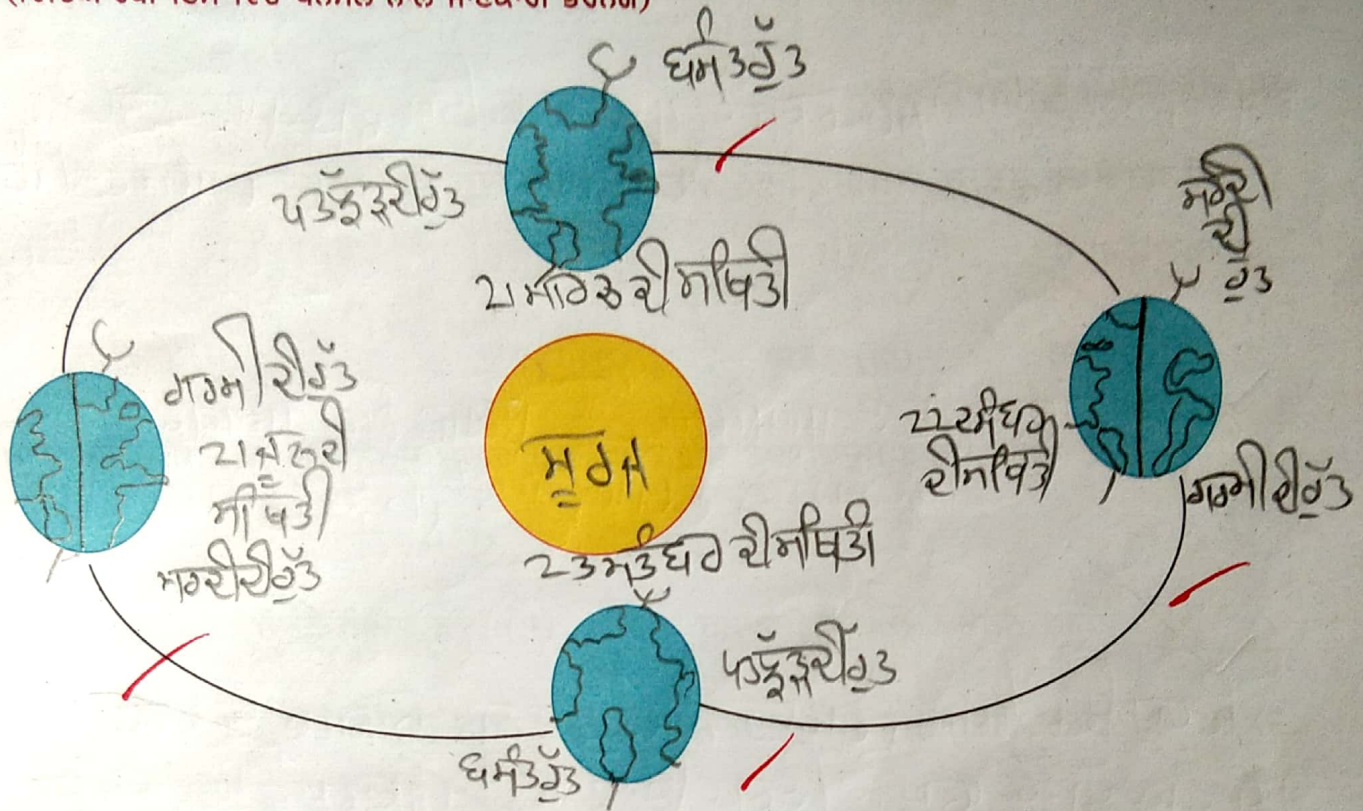
4. ਉੱਤਰੀ ਅਤੇ ਦੱਖਣੀ ਅਰਧ ਗੋਲੇ ਵਿੱਚ ਰੁੱਤਾਂ ਇੱਕ ਦੂਸਰੇ ਦੇ ਬਿਲਕੁਲ ਖਰਾਬ ਹੁੰਦੀਆਂ ਹਨ ।

5. ਸੂਰਜ ਦੁਆਲੇ ਘੁੰਮਦਿਆਂ ਧਰਤੀ ਦਾ ਪੰਧ ਬਿਲਕੁਲ ਗੋਲ ਨਹੀਂ ਸਗੋਂ ਐਲੀਪਸ ਹੁੰਦਾ ਹੈ ।

6. ਸੂਰਜ ਧਰਤੀ ਤੋਂ ਲਗਭਗ 15 ਕਰੋੜ ਕਿਲੋਮੀਟਰ ਦੂਰ ਹੈ ।

ਵਾਰਸ਼ਿਕ ਗਤੀ ਸਮੇਂ ਰੁੱਤ-ਪਰਿਵਰਤਨ ਚੱਕਰ:

(ਵਿਦਿਆਰਥੀ ਇਸ ਵਿੱਚ ਪੇਨਸਲ ਨਾਲ ਜਾਣਕਾਰੀ ਭਰਨਗੇ)



ਪ੍ਰਸ਼ਨ 1:- ਸੂਰਜ ਖੜ੍ਹਾ ਹੈ ਧਰਤੀ ਘੁੰਮਦੀ ਹੈ, ਇਹ ਮਹਾਨ ਖੋਜ ਕਿਹੜੇ ਵਿਗਿਆਨੀਆਂ ਨੇ ਕੀਤੀ ?

ਉੱਤਰ: ਸੂਰਜ ਖੜ੍ਹਾ ਪਰਤੀ ਧਰਤੀ ਘੁੰਮਦੀ ਹੈ, ਇਹ ਮਹਾਨ ਖੋਜ ਗੈਲੀਲੀਓ, ਕੋਪਰਨਿਕਸ ਨੇ ਕੀਤੀ ਹੈ।

ਪ੍ਰਸ਼ਨ 2:- 21 ਮਾਰਚ ਅਤੇ 23 ਸਤੰਬਰ ਨੂੰ ਧਰਤੀ ਦੀ ਕੀ ਸਥਿਤੀ ਹੁੰਦੀ ਹੈ ?

ਉੱਤਰ: 21 ਮਾਰਚ ਅਤੇ 23 ਸਤੰਬਰ ਨੂੰ ਧਰਤੀ ਸੂਰਜ ਦੇ ਨਾਲ ਸਿੱਧੇ ਵਿੱਚ ਹੁੰਦੀ ਹੈ। ਇਸ ਸਥਿਤੀ ਵਿੱਚ ਧਰਤੀ ਦੇ ਦੋ ਧਰੁਵਾਂ 'ਤੇ ਵੀ ਸੂਰਜ ਖੜ੍ਹਾ ਹੁੰਦਾ ਹੈ। ਇਸ ਸਥਿਤੀ ਵਿੱਚ ਧਰਤੀ ਦੇ ਦੋ ਧਰੁਵਾਂ 'ਤੇ ਵੀ ਸੂਰਜ ਖੜ੍ਹਾ ਹੁੰਦਾ ਹੈ। ਇਸ ਸਥਿਤੀ ਵਿੱਚ ਧਰਤੀ ਦੇ ਦੋ ਧਰੁਵਾਂ 'ਤੇ ਵੀ ਸੂਰਜ ਖੜ੍ਹਾ ਹੁੰਦਾ ਹੈ।

ਪ੍ਰਸ਼ਨ-3: ਤੁਸੀਂ ਲੀਪ ਦੇ ਸਾਲ ਦਾ ਕਿਵੇਂ ਪਤਾ ਲਗਾ ਸਕਦੇ ਹੋ ?

ਉੱਤਰ: ਯਦੀ ਕਿਸੇ ਸਾਲ ਨੰਬਰ 4 ਨਾਲ ਭਾਗਿਆਤਮਕ ਹੋਵੇ ਤਾਂ ਉਹ ਸਾਲ ਲੀਪ ਸਾਲ ਹੋਵੇਗਾ।

ਪਾਠ- ਪ੍ਰਾਚੀਨ ਇਤਿਹਾਸ ਦਾ ਅਧਿਐਨ- ਸ਼੍ਰੇਣੀ

ਖਾਲੀ ਥਾਵਾਂ ਭਰੋ:

1. ਮਨੁੱਖੀ ਜੀਵਨ ਦੇ ਕਾਲਾਂ ਨੂੰ ੩ ਭਾਗਾਂ ਵਿੱਚ ਵੰਡਿਆ ਗਿਆ ਹੈ।
2. ਜਿਸ ਕਾਲ ਦਾ ਸਾਡੇ ਕੋਲ ਲਿਖਤੀ ਵੇਰਵਾ ਮਿਲਦਾ ਹੈ ਉਸ ਨੂੰ ਇਤਿਹਾਸ ਕਿਹਾ ਜਾਂਦਾ ਹੈ।
3. “ਅਰਥ ਸ਼ਾਸਤਰ” ਨਾਂ ਦੀ ਪੁਸਤਕ ਕੋਟਲਿਓ ਦੁਆਰਾ ਲਿਖੀ ਗਈ ਸੀ।
4. ਜਿਨ੍ਹਾਂ ਤੱਥਾਂ ਤੋਂ ਸਾਨੂੰ ਮਨੁੱਖ ਦੀ ਕਹਾਣੀ ਜਾਨਣ ਵਿੱਚ ਸਹਾਇਤਾ ਮਿਲਦੀ ਹੈ ਇਹਨਾਂ ਨੂੰ ਇਤਿਹਾਸਕ ਸੂਤਰ ਕਿਹਾ ਜਾਂਦਾ ਹੈ।

ਬਹੁ-ਵਿਕਲਪੀ ਪ੍ਰਸ਼ਨ-ਉੱਤਰ:

1. “ਇਤਿਹਾਸ ਦਾ ਪਿਤਾਮਾ” ਕਿਸ ਨੂੰ ਮੰਨਿਆ ਜਾਂਦਾ ਹੈ?

(ੳ) ਹੈਰੋਡੋਟਸ (ਅ) ਮਨੁੱਖ (ੲ) ਆਰੀਆ ਭੱਟ

2. “ਇਤਿਹਾਸ” ਸ਼ਬਦ ਯੂਨਾਨੀ ਭਾਸ਼ਾ ਦੇ ਕਿਸ ਸ਼ਬਦ ਤੋਂ ਬਣਿਆ ਹੈ?

(ੳ) ਪੂਰਾਣਾਂ ਤੋਂ (ਅ) ਹੈਸਟੋਰੀਆ (ੲ) ਗਿਆਨ

3. “ਮਨੁੱਖ ਸਮ੍ਰਿਤੀ” ਗ੍ਰੰਥ ਕਿਸ ਦੁਆਰਾ ਲਿਖਿਆ ਗਿਆ?

(ੳ) ਕਾਲੀਦਾਸ (ਅ) ਮਨੁੱਖ (ੲ) ਆਰੀਆ ਭੱਟ

4. ਸ਼ਿਲਾਲੇਖਾਂ ਦੇ ਅਧਿਐਨ ਨੂੰ ਕੀ ਕਿਹਾ ਜਾਂਦਾ ਹੈ?

(ੳ) ਪੁਰਾਲੇਖ ਵਿੱਦਿਆ (ਅ) ਸਿੱਕਿਆਂ ਦੀ ਵਿੱਦਿਆ (ੲ) ਇਤਿਹਾਸ ਦੇ ਸ੍ਰੋਤ

ਸਹੀ/ ਗ਼ਲਤ:

ਪ੍ਰਸ਼ਨ 1 ਹੈਸਟੋਰੀਆ ਤੋਂ ਭਾਵ ਭੂਤਕਾਲ ਦਾ ਗਿਆਨ ਹੈ।

(ਸਹੀ/ ਗ਼ਲਤ)

ਪ੍ਰਸ਼ਨ 2 ਆਦਿ ਮਨੁੱਖ ਗੁਣਾਂ ਵਿੱਚ ਰਹਿੰਦਾ ਸੀ।

(ਸਹੀ/ ਗ਼ਲਤ)

ਪ੍ਰਸ਼ਨ 3 ਆਰੀਆ ਭੱਟ ਅਤੇ ਵਰਾਹਮਿਹਿਰ ਮਹਾਨ ਵਿਗਿਆਨੀ ਸਨ।

✓ (ਸਹੀ/ ਗਲਤ)

ਪ੍ਰਸ਼ਨ 4 ਜਿਸ ਕਾਲ ਦਾ ਸਾਡੇ ਕੋਲ ਲਿਖਤੀ ਵੇਰਵਾ ਨਹੀਂ ਮਿਲਦਾ ਉਸ ਕਾਲ ਨੂੰ "ਪੂਰਵ ਇਤਿਹਾਸ" ਕਿਹਾ ਜਾਂਦਾ ਹੈ।

✓ (ਸਹੀ/ ਗਲਤ)

ਹੇਠ ਲਿਖੇ ਪ੍ਰਸ਼ਨ ਦੇ ਉੱਤਰ ਲਿਖੋ।

ਪ੍ਰਸ਼ਨ 1: ਜੋ ਵਿਆਕਤੀ ਇਤਿਹਾਸ ਨੂੰ ਲਿਖਦੇ ਹਨ ਉਨ੍ਹਾਂ ਨੂੰ ਕੀ ਕਿਹਾ ਜਾਂਦਾ ਹੈ?

ਉੱਤਰ: ~~ਜੋ ਵਿਆਕਤੀ ਇਤਿਹਾਸ ਨੂੰ ਲਿਖਦੇ ਹਨ ਉਨ੍ਹਾਂ ਨੂੰ ਇਤਿਹਾਸਕਾਰ ਕਿਹਾ ਜਾਂਦਾ ਹੈ।~~

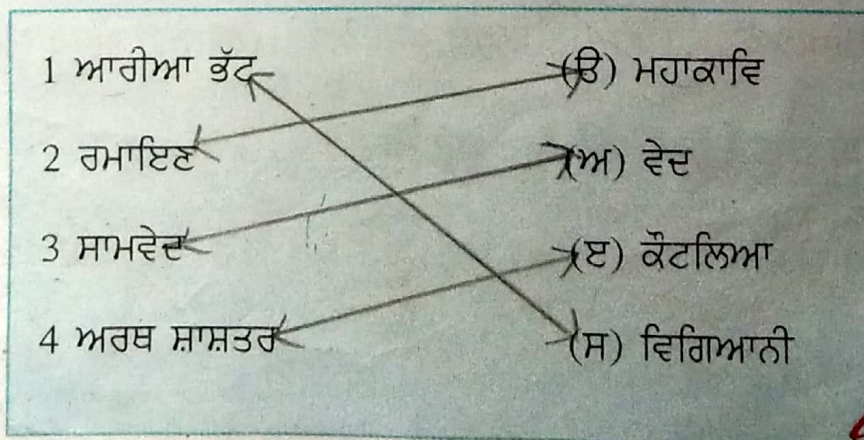
ਪ੍ਰਸ਼ਨ 2: ਪ੍ਰਾਚੀਨ ਕਾਲ ਵਿੱਚ ਨਿਯਮਾਂ ਅਤੇ ਕਾਨੂੰਨ ਬਾਰੇ ਲਿਖੀਆਂ ਪੁਸਤਕਾਂ ਨੂੰ ਕੀ ਕਿਹਾ ਜਾਂਦਾ ਹੈ?

ਉੱਤਰ: ~~ਪ੍ਰਾਚੀਨ ਕਾਲ ਦੇ ਨਿਯਮਾਂ ਅਤੇ ਕਾਨੂੰਨ ਬਾਰੇ ਵੀ ਪੁਸਤਕਾਂ ਲਿਖੀਆਂ ਗਈਆਂ ਹਨ, ਜਿਨ੍ਹਾਂ ਨੂੰ "ਧਾਰਮਿਕ ਸ਼ਾਸਤਰ" ਕਿਹਾ ਜਾਂਦਾ ਹੈ।~~

ਪ੍ਰਸ਼ਨ 3: ਆਦਿ ਮਨੁੱਖ ਕਿਸ ਤਰ੍ਹਾਂ ਦਾ ਭੋਜਨ ਕਰਦਾ ਸੀ?

ਉੱਤਰ: ~~ਆਦਿ ਮਨੁੱਖ ਹੱਥਾਂ ਦੇ ਪੱਤੇ ਫਿਲੜਾਂ ਅਤੇ ਕੋਈ ਸ਼ਾਸਤਰੀ ਖਾਂਦਾ ਸੀ।~~

ਹੇਠ ਲਿਖੇ ਦਾ ਸਹੀ ਮਿਲਾਨ ਕਰੋ।



ਪਾਠ : ਆਦਿ ਮਨੁੱਖ - ਪੱਥਰ ਯੁੱਗ

ਖਾਲੀ ਥਾਵਾਂ ਭਰੋ:

1. ਪੱਥਰ ਯੁੱਗ ਦਾ ਮਨੁੱਖ ਸਿਕਾਹੀ ਅਤੇ ਖਾਪਸ਼ਿਟਕ ਦੇ ਨਾਂ ਨਾਲ ਜਾਣਿਆ ਜਾਂਦਾ ਸੀ।
2. ਆਦਿ ਮਨੁੱਖ ਕੱਚਾ ਮਾਸ ਖਾਂਦਾ ਸੀ ਕਿਉਂਕਿ ਉਸ ਨੂੰ ਅੰਗਰੇਜ਼ੀ ਦੀ ਜਾਣਕਾਰੀ ਨਹੀਂ ਸੀ।
3. ਪੁਰਾਤਨ ਪੱਥਰ ਯੁੱਗ ਨੂੰ ਅੰਗਰੇਜ਼ੀ ਭਾਸ਼ਾ ਵਿੱਚ ਪ੍ਰੀਹਿਸਟਰ ਪੀਰੀਅਡ ਕਹਿੰਦੇ ਹਨ।
4. ਭਾਰਤ, ਚੀਨ ਅਤੇ ਦੱਖਣੀ ਏਸ਼ੀਆ ਵਿੱਚ ਚਾਵਲ ਦੀ ਪੈਦਾਵਾਰ 5000 ਈ: ਪੂ: ਤੋਂ ਸ਼ੁਰੂ ਹੋਈ ਸੀ।
5. ਪੁਰਾਤਨ ਪੱਥਰ ਯੁੱਗ ਤੋਂ ਬਾਅਦ ਮੱਧ ਪੱਥਰ ਯੁੱਗ ਆਇਆ ਜਿਸ ਨੂੰ ਅੰਗਰੇਜ਼ੀ ਵਿੱਚ ਮੀਸੋਲਿਥਿਕ ਪੀਰੀਅਡ ਕਿਹਾ ਜਾਂਦਾ ਸੀ।

ਬਹੁ-ਵਿਕਲਪੀ ਪ੍ਰਸ਼ਨ-ਉੱਤਰ

ਪ੍ਰਸ਼ਨ 1 ਧਰਤੀ ਤੇ ਮਨੁੱਖ ਦੀ ਹੋਂਦ ਕਦੋਂ ਹੋਈ?

- (ੳ) 10 ਲੱਖ ਸਾਲ ਪਹਿਲਾਂ (ਅ) 20 ਲੱਖ ਸਾਲ ਪਹਿਲਾਂ (ੲ) 40 ਲੱਖ ਸਾਲ ਪਹਿਲਾਂ

ਪ੍ਰਸ਼ਨ 2 ਪੁਰਾਤਨ ਪੱਥਰ ਯੁੱਗ ਨੂੰ ਅੰਗਰੇਜ਼ੀ ਵਿੱਚ ਕੀ ਕਿਹਾ ਜਾਂਦਾ ਹੈ?

- (ੳ) ਮੈਸੋਲਿਥਿਕ ਪੀਰੀਅਡ (ਅ) ਪੈਲੀਲਿਥਿਕ ਪੀਰੀਅਡ (ੲ) ਨਵਾਂ ਪੱਥਰ ਯੁੱਗ

ਪ੍ਰਸ਼ਨ 3 ਮਨੁੱਖ ਨੇ ਖੇਤੀਬਾੜੀ ਕਰਨੀ ਕਿਸ ਯੁੱਗ ਵਿੱਚ ਸ਼ੁਰੂ ਕੀਤੀ?

- (ੳ) ਪੁਰਾਤਨ ਪੱਥਰ ਯੁੱਗ ਵਿੱਚ (ਅ) ਮੱਧ ਪੱਥਰ ਯੁੱਗ ਵਿੱਚ (ੲ) ਨਵੇਂ ਪੱਥਰ ਯੁੱਗ ਵਿੱਚ

ਪ੍ਰਸ਼ਨ 4 ਚਾਵਲ ਦੀ ਪੈਦਾਵਾਰ ਕਦੋਂ ਸ਼ੁਰੂ ਹੋਈ?

- (ੳ) 2000 ਈ: ਪੂ: (ਅ) 1000 ਈ: ਪੂ: (ੲ) 5000 ਈ: ਪੂ:

ਸਹੀ/ ਗਲਤ

- 1 ਆਦਿ ਮਨੁੱਖ ਜੰਗਲੀ ਜਾਨਵਰਾਂ ਤੋਂ ਬਚਣ ਲਈ ਝੁੰਡ ਬਣਾ ਕੇ ਰਹਿੰਦਾ ਸੀ। (ਸਹੀ/ਗਲਤ)
- 2 ਪੁਰਾਤਨ ਮਨੁੱਖ ਸੁੰਦਰ ਕੱਪੜੇ ਪਹਿਨਦਾ ਸੀ। (ਸਹੀ/ ਗਲਤ)
- 3 ਪੁਰਾਤਨ ਯੁੱਗ ਵਿੱਚ ਮਨੁੱਖ ਹੱਡੀਆਂ ਅਤੇ ਲੱਕੜੀ ਦੇ ਹਥਿਆਰ ਬਣਾਉਂਦਾ ਸੀ। (ਸਹੀ/ਗਲਤ)
- 4 ਮੱਧ ਪੱਥਰ ਯੁੱਗ ਦੇ ਮਨੁੱਖ ਨੇ ਝੋਂਪੜੀ ਵਿੱਚ ਰਹਿਣਾ ਸਿੱਖ ਲਿਆ ਸੀ। (ਸਹੀ/ਗਲਤ)

ਪਾਠ- ਹੜੱਪਾ ਸੱਭਿਅਤਾ

17/15

ਖਾਲੀ ਥਾਵਾਂ ਭਰੋ:

1. ਹੜੱਪਾ ਸੱਭਿਅਤਾ ਦਾ ਜਨਮ ਲਗਭਗ ਸੱਤ ਹਜ਼ਾਰ ਸਾਲ ਪਹਿਲਾਂ ਭਾਰਤੀ ਉੱਪ-ਮਹਾਂਦੀਪ ਵਿੱਚ ਹੋਇਆ।
2. 1900 ਈ: ਪੂ: ਦੇ ਲਗਭਗ ਸ਼ਰਸਤੀ ਨਦੀ ਦੇ ਸੁੱਕ ਜਾਣ ਨਾਲ ਇਸ ਸੱਭਿਅਤਾ ਦਾ ਪਤਨ ਸ਼ੁਰੂ ਹੋ ਗਿਆ ਸੀ।
3. ਸੰਘੋਲ ਜ਼ਿਲ੍ਹਾ ਨਿਪਮਾਏ ਵਿੱਚ ਸਥਿਤ ਹੈ।
4. ਕੋਟਲਾ ਨਿਹੰਗ ਖਾਂ ਜ਼ਿਲ੍ਹਾ ਰੋਪੜ ਵਿੱਚ ਸਥਿੱਤ ਹੈ। ਇਸ ਦੀ ਖੁਦਾਈ 1953 ਈ: ਵਿੱਚ ਵਾਈ. ਡੀ. ਸ਼ਰਮਾ ਦੁਆਰਾ ਕਰਵਾਈ ਗਈ ਸੀ।
5. ਹੜੱਪਾ ਸੱਭਿਅਤਾ ਦੇ ਹਰੇਕ ਮਕਾਨ ਵਿੱਚ ਇਕ ਝੋਂਪੜੀ ਅਤੇ ਇਸ਼ਤਿਮਾਤਖਾਨਾ ਹੁੰਦਾ ਸੀ।
6. ਅਮੀਰ ਲੋਕ ਸੋਨਾ, ਚਾਂਦੀ ਅਤੇ ਕੀਮਤੀ ਪੱਥਰ ਦੇ ਗਹਿਣੇ ਪਹਿਨਦੇ ਸਨ।

ਬਹੁ-ਵਿਕਲਪੀ ਪ੍ਰਸ਼ਨ-ਉੱਤਰ:

1. ਭਾਰਤ ਦੀ ਸੱਭ ਤੋਂ ਪੁਰਾਣੀ ਸੱਭਿਅਤਾ ਕਿਸ ਨਦੀ ਦੇ ਕੰਢੇ ਵਿਕਸਤ ਹੋਈ?

(ੳ) ਨੀਲ ਨਦੀ

(ਅ) ਬ੍ਰਹਮਪੁੱਤਰ ਨਦੀ

(ੲ) ਸਿੰਧ ਨਦੀ

2. ਮੋਹਿੰਜੋਦੜੋ ਵਿੱਚ ਸੱਭ ਤੋਂ ਪ੍ਰਸਿੱਧ ਇਮਾਰਤ ਕਿਹੜੀ ਸੀ?

(ੳ) ਰਸੋਈ

(ਅ) ਗੁਦਾਮ

(ੲ) ਇਸ਼ਨਾਨ ਘਰ

3. ਸਿੰਧ ਘਾਟੀ ਦੇ ਲੋਕਾਂ ਦੇ ਕਿਸ ਦੇਸ਼ ਨਾਲ ਵਪਾਰਕ ਸਬੰਧ ਸਨ?

(ੳ) ਮੈਸੋਪੋਟਾਮੀਆ

(ਅ) ਮਿਸਰ

(ੲ) ਚੀਨ

4. ਯੂਨਾਨੀਆਂ ਨੇ ਕਪਾਹ ਦੀ ਜਾਣਕਾਰੀ ਕਿਸ ਦੇਸ਼ ਤੋਂ ਪ੍ਰਾਪਤ ਕੀਤੀ?

(ੳ) ਚੀਨ

(ਅ) ਭਾਰਤ

(ੲ) ਮਿਸਰ

5. ਸਿੰਧ ਘਾਟੀ ਦੀ ਸੱਭਿਅਤਾ ਦੀ "ਲੋਥਲ" ਬੰਦਰਗਾਹ ਕਿਸ ਰਾਜ ਵਿੱਚ ਸਥਿੱਤ ਸੀ?

(ੳ) ਗੁਜਰਾਤ

(ਅ) ਪੰਜਾਬ

(ੲ) ਰਾਜਸਥਾਨ

ਸਹੀ/ ਗਲਤ

1. ਖੇਤਰਫਲ ਦੇ ਪੱਖੋਂ ਹੜੱਪਾ ਸੱਭਿਅਤਾ ਸਾਰੀਆਂ ਪ੍ਰਾਚੀਨ ਸੱਭਿਅਤਾਵਾਂ ਨਾਲੋਂ ਵਿਸ਼ਾਲ ਸੀ।

(ਸਹੀ / ਗਲਤ)

2. ਅਧੁਨਿਕ ਮਹਾਨਗਰਾਂ ਦੀ ਤਰ੍ਹਾਂ ਯੋਜਨਾਬੱਧ ਨਗਰ ਇਸ ਸੱਭਿਅਤਾ ਦੀ ਮੁੱਖ ਵਿਸ਼ੇਸ਼ਤਾ ਹੈ।

(ਸਹੀ / ਗਲਤ)

3. ਇਸ ਸੱਭਿਅਤਾ ਦੇ ਲੋਕਾਂ ਦਾ ਮੁੱਖ ਕਿੱਤਾ ਖੇਤੀਬਾੜੀ ਅਤੇ ਪਸ਼ੂ ਪਾਲਣਾ ਸੀ।

(ਸਹੀ / ਗਲਤ)

4. ਸਿੰਧ ਘਾਟੀ ਸੱਭਿਅਤਾ ਦੀ ਲਿੱਪੀ ਪੜ੍ਹੀ ਜਾ ਚੁੱਕੀ ਹੈ।

(ਸਹੀ / ਗਲਤ)

ਹੇਠ ਲਿਖੇ ਦਾ ਸਹੀ ਮਿਲਾਨ ਕਰੋ :

1 ਪਸ਼ੂਪਤੀ

(ੳ) ਬੰਦਰਗਾਹ

2 ਮੋਹਿੰਜੋਦੜੋ

(ਅ) ਲਿਖਣ ਕਲਾ





3 ਲੋਥਲ

(ੲ) ਦੇਵਤਾ

4 ਚਿੱਤਰ-ਲਿੱਪੀ

(ਸ) ਵਿਸ਼ਾਲ ਇਸ਼ਨਾਨ ਘਰ

ਚਿੱਤਰ ਪਛਾਣ ਕੇ ਨਾਂ ਲਿਖੋ:

ਚਿੱਤਰ	ਨਾਂ
	<p>ਮੋਇਜ਼ਾਈ ਵਿਖੇ ਖਾਪਤ ਹੋਈ ਮਾਤਾ ਦੇਈ ਦੀ ਮੂਰਤੀ</p>
	<p>ਸਿੰਧ ਪਾਣੀ ਸੱਭਿਅਤਾ ਦੇ ਗਹਿਣੇ</p>
	<p>ਮੋਇਜ਼ਾਈ ਦਾ ਇਕੁਨਾਨ ਪਰ</p>
	<p>ਯੋਗੀ ਦੀ ਪੱਥਰ ਦੀ ਬਣੀ ਹੋਈ ਮੂਰਤੀ</p>

ਪਾਠ - ਵੈਦਿਕ ਕਾਲ

ਖਾਲੀ ਸਥਾਨ ਭਰੋ।

1. ਨਿਗੰਦ ਸੰਸਾਰ ਦੀ ਸੱਭ ਤੋਂ ਪੁਰਾਣੀ ਪੁਸਤਕ ਹੈ।
2. ਬ੍ਰਹਮਣ, ਆਰਣਯਕ, ਸੂਤਰ ਅਤੇ ਉਪਨਿਸ਼ਦਾਂ ਨੂੰ ਵੈਦਿਕ ਗ੍ਰੰਥ ਕਿਹਾ ਜਾਂਦਾ ਹੈ।
3. ਪੰਜਾਬ ਨੂੰ ਵੈਦਿਕ ਕਾਲ ਵਿੱਚ ਸਪਤਸਿੰਧੂ ਜਾਂ ਸੱਤਰੀਆਂ ਦਾ ਪ੍ਰਦੇਸ਼ ਕਿਹਾ ਜਾਂਦਾ ਸੀ।
4. ਵੈਦਿਕ ਕਾਲ ਵਿੱਚ ਰਾਜੇ ਨੂੰ ਰਾਜਾ ਕਿਹਾ ਜਾਂਦਾ ਸੀ।

5. ਰਾਜੇ ਦੀ ਸਹਾਇਤਾ ਲਈ ਦੋ ਮੱਹਤਵਪੂਰਨ ਸੰਸਥਾਵਾਂ ਸਨ ਜਿਨ੍ਹਾਂ ਨੂੰ ਸੁਕਾ ਅਤੇ ਸੁਕੀ ਕਿਹਾ ਜਾਂਦਾ ਸੀ।

6. ਪ੍ਰਾਚੀਨ ਸਮੇਂ ਵਿੱਚ ਸਮਾਜ ਨੂੰ ਰਾਹ ਭਾਗਾਂ ਵਿੱਚ ਵੰਡਿਆ ਹੋਇਆ ਸੀ।

ਬਹੁ-ਵਿਕਲਪੀ ਪ੍ਰਸ਼ਨ-ਉੱਤਰ:

ਪ੍ਰਸ਼ਨ 1. ਵੈਦਿਕ ਕਾਲ ਵਿੱਚ ਲੋਕਾਂ ਨੂੰ ਆਮ ਤੌਰ ਤੇ ਕੀ ਕਿਹਾ ਜਾਂਦਾ ਸੀ?

(ੳ) ਬ੍ਰਹਮਣ

(ਅ) ਹਿੰਦੂ

(ੲ) ਆਰੀਆ

ਪ੍ਰਸ਼ਨ 2. ਸੰਸਾਰ ਦਾ ਸੱਭ ਤੋਂ ਪੁਰਾਣਾ ਗ੍ਰੰਥ ਕਿਹੜਾ ਹੈ?

(ੳ) ਰਿਗਵੇਦ

(ਅ) ਸਾਮਵੇਦ

(ੲ) ਯਜੁਰਵੇਦ

ਪ੍ਰਸ਼ਨ 3. ਵੈਦਿਕ ਕਾਲ ਵਿੱਚ ਰਾਜੇ ਸਲਾਹਕਾਰ ਨੂੰ ਕਿਸ ਨਾਂ ਨਾਲ ਪੁਕਾਰਿਆ ਜਾਂਦਾ ਸੀ?

(ੳ) ਗ੍ਰਾਮਣੀ

(ਅ) ਸੈਨਾਨੀ

(ੲ) ਪ੍ਰੋਹਿਤ

ਪ੍ਰਸ਼ਨ 4. ਵੈਦਿਕ ਕਾਲ ਵਿੱਚ ਕਿਸ ਨਦੀ ਨੂੰ ਸੱਭ ਤੋਂ ਪਵਿੱਤਰ ਮੰਨਿਆ ਜਾਂਦਾ ਸੀ?

(ੳ) ਜਮੁਨਾ

(ਅ) ਸਰਸਵਤੀ

(ੲ) ਗੰਗਾ

ਪ੍ਰਸ਼ਨ 5. ਵੈਦਿਕ ਕਾਲ ਵਿੱਚ ਅਮੀਰ ਲੋਕ ਖਾਸ ਉਤਸਵਾਂ ਦੇ ਮੌਕੇ ਕੀ ਪੀਂਦੇ ਸਨ?

(ੳ) ਸੋਮਰਸ

(ਅ) ਜੂਸ

(ੲ) ਪਾਣੀ

ਸਹੀ ਜਾਂ ਗ਼ਲਤ

1. ਸਾਮਵੇਦ ਸੰਸਾਰ ਦੀ ਸੱਭ ਤੋਂ ਪੁਰਾਣੀ ਪੁਸਤਕ ਹੈ।

(ਸਹੀ / ਗ਼ਲਤ)

2. ਆਰੀਆ ਦਾ ਅਰਥ ਹੈ ਸਰਵ ਉੱਤਮ, ਸਿੱਖਿਅਤ ਅਤੇ ਸੱਭਿਅਕ ਲੋਕ।

(ਸਹੀ / ਗ਼ਲਤ)

3. ਆਰੀਆ ਲੋਕ ਮੂਲ ਰੂਪ ਵਿੱਚ ਪੰਜਾਬ ਦੇ ਨਿਵਾਸੀ ਸਨ।

(ਸਹੀ / ਗ਼ਲਤ)

4. ਕਿਸਾਨ ਅਤੇ ਵਪਾਰੀ ਖੱਤਰੀ ਵਰਗ ਨਾਲ ਸਬੰਧ ਰੱਖਦੇ ਸਨ।

(ਸਹੀ / ਗ਼ਲਤ)

5. ਕੁੱਝ ਲੋਕ ਸ਼ਰਾਬ ਪੀਂਦੇ ਸਨ ਜਿਸ ਨੂੰ “ਸੁਰਾ” ਕਿਹਾ ਜਾਂਦਾ ਸੀ।

(ਸਹੀ / ਗ਼ਲਤ)

ਹੇਠ ਲਿਖੇ ਦਾ ਸਹੀ ਮਿਲਾਨ ਕਰੋ:

1 ਚਿਕਿਤਸਾ ਵਿਗਿਆਨ	(ੳ) ਬਿਆਸ
2 ਇੰਦਰ	(ਅ) ਆਯੁਰਵੇਦ
3 ਸਰਾਬ	(ੲ) ਵਰਖਾ ਦਾ ਦੇਵਤਾ
4 ਵਿਪਾਸ਼ਾ	(ਸ) ਸੁਰਾ
5 ਪਰੂਸਣੀ	(ੳ) ਪੁਲਾੜ ਦਾ ਦੇਵਤਾ
6 ਸਭਾ ਅਤੇ ਸਮਿਤੀ	(ਕ) ਕਾਬੀਲਾ
7 ਪੂਸ਼ਣ	(ਖ) ਨਦੀ
8 ਪੰਚਾਲ	(ਗ) ਰਾਜਨੀਤਿਕ ਸਭਾ

ਪਾਠ- ਭਾਰਤ 600 ਈ. ਪੂਰਵ ਤੋਂ 400 ਈ. ਪੂਰਵ ਤੱਕ

ਖਾਲੀ ਥਾਵਾਂ ਭਰੋ।

- ਉੱਤਰੀ ਭਾਰਤ ਵਿੱਚ 600 ਈ. ਪੂ. ਦੇ ਲਗਭਗ ਕਈ ਗਣਤੰਤਰ ਅਤੇ ਰਾਜਤੰਤਰ ਰਾਜਾਂ ਦੀ ਸਥਾਪਨਾ ਹੋਈ।
- ਤਾਕਤਵਰ ਰਾਜਾਂ ਨੂੰ ਮਹਾਜਨਪਦ ਦੇ ਨਾਂ ਨਾਲ ਜਾਣਿਆ ਜਾਂਦਾ ਸੀ।
- ਸਾਰੇ ਜਨਪਦਾਂ ਵਿੱਚੋਂ ਸ਼ਕਿ, ਕੌਸਲ, ਵਿਸ਼ਲ ਅਤੇ ਅਵੰਤੀ ਜ਼ਿਆਦਾ ਸ਼ਕਤੀਸ਼ਾਲੀ ਸਨ।
- ਅਜਾਤਸ਼ਤਰੂ ਨੇ 492 ਤੋਂ 460 ਈ. ਪੂ. ਤਕ ਰਾਜ ਕੀਤਾ।
- ਮਨੁੱਖ ਦੇ ਜੀਵਨ ਨੂੰ ਚਾਰ ਭਾਗਾਂ ਵਿੱਚ ਵੰਡਿਆ ਗਿਆ ਸੀ। ਜਿਨ੍ਹਾਂ ਨੂੰ ਆਸ਼ਰਮ ਕਿਹਾ ਜਾਂਦਾ ਸੀ।
- ਮਹਾਂਵੀਰ ਸਵਾਮੀ ਜੀ ਨੇ ਲਗਭਗ 12 ਸਾਲ ਦੀ ਉਮਰ ਵਿੱਚ ਪਾਵਾਪੁਰੀ ਨਗਰ ਵਿਖੇ ਨਿਰਵਾਣ ਪ੍ਰਾਪਤ ਕੀਤਾ।

ਬਹੁ-ਵਿਕਲਪੀ ਪ੍ਰਸ਼ਨ-ਉੱਤਰ:

ਪ੍ਰਸ਼ਨ 1: ਬੋਧ ਅਤੇ ਜੈਨ ਸਾਹਿਤ ਵਿੱਚ ਰਾਜਾਂ ਜਾਂ ਮਹਾਜਨਪਦਾਂ ਦੀ ਕਿੰਨੀ ਗਿਣਤੀ ਦੱਸੀ ਗਈ ਹੈ?

✓ (ੳ) 16

(ਅ) 12

(ੲ) 20

ਪ੍ਰਸ਼ਨ 2: ਮਗਧ ਰਾਜ ਦੀ ਰਾਜਧਾਨੀ ਕਿਹੜੀ ਸੀ?

- (ੳ) ਰਾਜਗ੍ਰਹਿ (ਅ) ਉਜੈਨ (ੲ) ਵਾਰਾਨਸੀ

ਪ੍ਰਸ਼ਨ 3: ਅਜਾਤਸ਼ਤਰੂ ਨੇ ਆਪਣੀ ਨਵੀਂ ਰਾਜਧਾਨੀ ਕਿਸ ਪ੍ਰਦੇਸ਼ ਨੂੰ ਬਣਾਇਆ?

- (ੳ) ਵੈਸ਼ਾਲੀ (ਅ) ਖਾਟਲੀਪੁੱਤਰ (ੲ) ਰਾਜਗ੍ਰਹਿ

ਪ੍ਰਸ਼ਨ 4: ਭਗਵਾਨ ਮਹਾਂਵੀਰ ਸਵਾਮੀ ਜੀ ਨੂੰ ਕਿੰਨਵਾਂ ਤੀਰਥੰਕਰ ਹੋਣ ਦਾ ਗੌਰਵ ਪ੍ਰਾਪਤ ਹੋਇਆ?

- (ੳ) 23 (ਅ) 24 (ੲ) 25

ਪ੍ਰਸ਼ਨ 5: ਮਹਾਂਵੀਰ ਸਵਾਮੀ ਜੀ ਨੂੰ ਨਿਰਵਾਣ ਕਿਸ ਥਾਂ ਤੇ ਪ੍ਰਾਪਤ ਹੋਇਆ?

- (ੳ) ਪਾਵਾਪੁਰੀ ਨਗਰ (ਅ) ਵੈਸ਼ਾਲੀ (ੲ) ਕਪਿਲਵਸਤੂ

ਪ੍ਰਸ਼ਨ 6: ਮਹਾਤਮਾ ਬੁੱਧ ਦਾ ਜਨਮ ਕਿੱਥੇ ਹੋਇਆ?

- (ੳ) ਲੁੰਬਿਨੀ (ਅ) ਅੱਯੁਧਿਆ (ੲ) ਵੈਸ਼ਾਲੀ


ਸਹੀ/ ਗ਼ਲਤ

1. ਸਾਰੇ ਜਨਪਦਾਂ ਵਿੱਚੋਂ ਮਗਧ, ਕੌਸ਼ਲ, ਵਤਸ ਅਤੇ ਅਵੰਤੀ ਜ਼ਿਆਦਾ ਸ਼ਕਤੀਸ਼ਾਲੀ ਸਨ। (ਸਹੀ / ਗ਼ਲਤ)
2. ਬਿੰਬਸਾਰ ਹਰਿਅੰਕ ਵੰਸ਼ ਦਾ ਸ਼ਕਤੀਸ਼ਾਲੀ ਰਾਜਾ ਸੀ। ਉਹ ਮਹਾਤਮਾ ਬੁੱਧ ਦਾ ਸਮਕਾਲੀ ਸੀ।
(ਸਹੀ / ਗ਼ਲਤ)
3. ਇਸ ਕਾਲ ਵਿੱਚ ਮਨੁੱਖ ਦੇ ਜੀਵਨ ਨੂੰ ਪੰਜ ਭਾਗਾਂ ਵਿੱਚ ਵੰਡਿਆ ਗਿਆ ਸੀ। (ਸਹੀ / ਗ਼ਲਤ)
4. ਜੈਨ ਧਰਮ ਦੇ ਸੰਸਥਾਪਕ ਭਗਵਾਨ ਰਿਸ਼ਭਦੇਵ ਸਨ। (ਸਹੀ / ਗ਼ਲਤ)
5. ਕੁਸ਼ਾਨ ਕਾਲ ਵਿੱਚ ਬੁੱਧ ਧਰਮ ਮਹਾਯਾਨ ਅਤੇ ਹੀਨਯਾਨ ਦੋ ਹਿੱਸਿਆਂ ਵਿੱਚ ਵੰਡਿਆ ਗਿਆ ਸੀ।
(ਸਹੀ / ਗ਼ਲਤ)
6. ਬੁੱਧ ਧਰਮ ਦੀਆਂ ਸਿੱਖਿਆਵਾਂ ਮੁੱਖ ਤਿੰਨ ਗ੍ਰੰਥਾਂ ਵਿੱਚ ਸ਼ਾਮਲ ਹਨ, ਜਿਨ੍ਹਾਂ ਨੂੰ ਤ੍ਰਿਪਿਟਕ ਕਹਿੰਦੇ ਸਨ।
(ਸਹੀ / ਗ਼ਲਤ)

ਹੇਠ ਲਿਖੇ ਦਾ ਸਹੀ ਮਿਲਾਨ ਕਰੋ :

- | | |
|---------------|--|
| (1) ਅਹਿੰਸਾ | (ੳ) ਸੰਯਮ ਪੂਰਵਕ ਜੀਵਨ ਬਤੀਤ ਕਰਨਾ |
| (2) ਸੱਚ | (ਅ) ਚੋਰੀ ਨਾ ਕਰਨਾ |
| (3) ਅਸਤੇਯ | (ੲ) ਸਦਾ ਸੱਚ ਬੋਲਣਾ |
| (4) ਬ੍ਰਹਮਚਰਯਾ | (ਸ) ਜ਼ਰੂਰਤ ਨਾਲੋਂ ਵੱਧ ਇੱਕਠਾ ਕਰਨਾ |
| (5) ਅਪਰਿਗ੍ਰਿਹ | (ਹ) ਅਹਿੰਸਾ ਭਾਵ ਕਿਸੇ ਜੀਵ ਦੀ ਹੱਤਿਆ ਨਾ ਕਰਨਾ |

ਚਿੱਤਰ ਦੇਖ ਕੇ ਮਹਾਤਮਾ ਬੁੱਧ ਦੇ ਜੀਵਨ ਨਾਲ ਸੰਬੰਧਿਤ ਇਸ ਘਟਨਾ ਬਾਰੇ ਸੰਖੇਪ ਵਿੱਚ ਲਿਖੋ।



ਫੇਰੀ ਸੁਧੀ ਪ੍ਰ. ਇੱਕ ਵਾਰ ਬੁੱਧ ਪਰਮਾਤਮਾ ਨੇ ਆਪਣੇ ਚੇਲਿਆਂ ਨੂੰ ਇਕੱਠਾ ਕਰਕੇ ਇਕੱਠਾ ਕਰਕੇ ਚਿੱਤਰ ਨੂੰ ਦੇਖ ਕੇ ਪੁੱਛਿਆ ਕਿ ਇਹ ਕੌਣ ਹੈ? ਉਨ੍ਹਾਂ ਨੇ ਜਵਾਬ ਦਿੱਤਾ ਕਿ ਇਹ ਮਹਾਤਮਾ ਬੁੱਧ ਹੈ। ਬੁੱਧ ਨੇ ਆਪਣੇ ਚੇਲਿਆਂ ਨੂੰ ਇਕੱਠਾ ਕਰਕੇ ਚਿੱਤਰ ਨੂੰ ਦੇਖ ਕੇ ਪੁੱਛਿਆ ਕਿ ਇਹ ਕੌਣ ਹੈ? ਉਨ੍ਹਾਂ ਨੇ ਜਵਾਬ ਦਿੱਤਾ ਕਿ ਇਹ ਮਹਾਤਮਾ ਬੁੱਧ ਹੈ। ਬੁੱਧ ਨੇ ਆਪਣੇ ਚੇਲਿਆਂ ਨੂੰ ਇਕੱਠਾ ਕਰਕੇ ਚਿੱਤਰ ਨੂੰ ਦੇਖ ਕੇ ਪੁੱਛਿਆ ਕਿ ਇਹ ਕੌਣ ਹੈ? ਉਨ੍ਹਾਂ ਨੇ ਜਵਾਬ ਦਿੱਤਾ ਕਿ ਇਹ ਮਹਾਤਮਾ ਬੁੱਧ ਹੈ।

ਹੇਠ ਲਿਖੇ ਪ੍ਰਸ਼ਨਾਂ ਦੇ ਉੱਤਰ ਲਿਖੋ:

ਪ੍ਰਸ਼ਨ 1 ਕੁਸ਼ਾਨ ਕਾਲ ਵਿੱਚ ਬੁੱਧ ਧਰਮ ਕਿਹੜੇ ਦੇ ਭਾਗਾਂ ਵਿੱਚ ਵੰਡਿਆ ਗਿਆ ਸੀ?

ਉੱਤਰ: ਕੁਸ਼ਾਨ ਕਾਲ ਵਿੱਚ ਬੁੱਧ ਧਰਮ ਦੋ ਭਾਗਾਂ ਵਿੱਚ ਵੰਡਿਆ ਗਿਆ ਸੀ। ਇੱਕ ਸਕਾਇਵ ਧਰਮ ਅਤੇ ਦੂਜਾ ਮਹਾਯਾਨ ਧਰਮ।

ਪ੍ਰਸ਼ਨ 2 ਕਿਸੇ ਚਾਰ ਪ੍ਰਮੁੱਖ ਜਨਪਦਾਂ ਬਾਰੇ ਸੰਖੇਪ ਵਿੱਚ ਲਿਖੋ।

ਉੱਤਰ: ਕੁਸ਼ਾਨ, ਸਕਾਇਵ, ਮਹਾਯਾਨ ਅਤੇ ਜੈਨ ਧਰਮ। ਇਹ ਚਾਰ ਪ੍ਰਮੁੱਖ ਜਨਪਦਾਂ ਸਨ।

ਪਾਠ- ਮੌਰੀਆ ਅਤੇ ਸ਼ੁੰਗ ਕਾਲ

ਖਾਲੀ ਥਾਵਾਂ ਭਰੋ:

- ਪ੍ਰਸ਼ਨ 1. ਸਿੰਕਦਰ ਨੇ 326 ਈ. ਪੂ. ਭਾਰਤ ਤੇ ਹਮਲਾ ਕੀਤਾ।
- ਪ੍ਰਸ਼ਨ 2. ਸਿੰਕਦਰ ਨੇ ਤਕਸ਼ਿਲਾ ਦੇ ਰਾਜਾ ਅੰਭੀ ਨੂੰ ਹਰਾਇਆ।
- ਪ੍ਰਸ਼ਨ 3. ਚਾਈਰਾਮਾ ਚੰਦਰ ਗੁਪਤ ਮੌਰੀਆ ਦਾ ਗੁਰੂ ਸੀ।
- ਪ੍ਰਸ਼ਨ 4. ਮੈਗਸਥੀਨੀਜ਼ ਨਾਂ ਦੀ ਪੁਸਤਕ ਮੈਗਸਥੀਨੀਜ਼ ਦੁਆਰਾ ਲਿਖੀ ਗਈ ਸੀ।
- ਪ੍ਰਸ਼ਨ 5. ਬਿੰਦੂਸਾਰ ਦੀ ਮੌਤ ਤੋਂ ਬਾਅਦ 273 ਈ. ਪੂ. ਵਿੱਚ ਉਸਦਾ ਪੁੱਤਰ ਅਸ਼ੋਕ ਰਾਜਾ ਬਣਿਆ।
- ਪ੍ਰਸ਼ਨ 6. 261 ਈ. ਪੂ. ਅਸ਼ੋਕ ਨੇ ਕਲਿੰਗ ਉੱਤੇ ਹਮਲਾ ਕੀਤਾ।

ਬਹੁ-ਵਿਕਲਪੀ ਪ੍ਰਸ਼ਨ-ਉੱਤਰ

- ਪ੍ਰਸ਼ਨ 1. “ਅਰਥਸ਼ਾਸਤਰ ਨਾਂ ਦੀ ਪੁਸਤਕ ਕਿਸ ਦੁਆਰਾ ਲਿਖੀ ਗਈ?”
- (ੳ) ਮੈਗਸਥੀਨੀਜ਼ (ਅ) ਕੋਟਲਿਆ (ੲ) ਸਿੰਕਦਰ
- ਪ੍ਰਸ਼ਨ 2. ਬਿੰਦੂਸਾਰ ਦੀ ਮੌਤ ਕਦੋਂ ਹੋਈ?
- (ੳ) 273 (ਅ) 261 (ੲ) 321
- ਪ੍ਰਸ਼ਨ 3. ਮੌਰੀਆ ਸਾਮਰਾਜ ਦਾ ਆਖਰੀ ਸਮਰਾਟ ਕੌਣ ਸੀ?
- (ੳ) ਬ੍ਰਿਹਦਰਥ (ਅ) ਪੁਸ਼ਿਆਮਿੱਤਰ (ੲ) ਅਸ਼ੋਕ
- ਪ੍ਰਸ਼ਨ 4. ਅਸ਼ੋਕ ਨੇ ਆਪਣੇ ਪੁੱਤਰ ਮਹਿੰਦਰ ਅਤੇ ਪੁੱਤਰੀ ਸੰਘਮਿੱਤਰਾ ਨੂੰ ਬੁੱਧ ਧਰਮ ਦੇ ਪ੍ਰਚਾਰ ਲਈ ਕਿਸ ਦੇਸ਼ ਵਿੱਚ ਭੇਜਿਆ?
- (ੳ) ਬਰਮਾ (ਅ) ਚੀਨ (ੲ) ਸ਼੍ਰੀਲੰਕਾ
- ਪ੍ਰਸ਼ਨ 5. ਆਮ ਤੌਰ ਤੇ ਕਿੰਨਵਾਂ ਹਿੱਸਾ ਖੇਤੀਬਾੜੀ ਕਰ ਦੇ ਰੂਪ ਵਿੱਚ ਲਿਆ ਜਾਂਦਾ ਸੀ?
- (ੳ) 1/6 (ਅ) 1/4 (ੲ) 1/8

ਪ੍ਰਸ਼ਨ 6 “ਸਾਂਚੀ ਦਾ ਸਤੂਪ” ਕਿਸ ਪ੍ਰਦੇਸ਼ ਵਿੱਚ ਬਣਾਇਆ ਗਿਆ?

(ੳ) ਉੱਤਰ ਪ੍ਰਦੇਸ਼

✓ (ਅ) ਮੱਧ ਪ੍ਰਦੇਸ਼

(ੲ) ਬਿਹਾਰ

ਸਹੀ/ਗ਼ਲਤ

ਪ੍ਰਸ਼ਨ 1. ਸਾਰਨਾਥ ਦਾ ਅਸ਼ੋਕ ਸਤੰਭ ਹੁਣ ਸਾਡਾ ਰਾਸ਼ਟਰੀ ਚਿੰਨ ਹੈ।

✓ (ਸਹੀ / ਗ਼ਲਤ)

ਪ੍ਰਸ਼ਨ 2. ਕੋਟਲਿਆ ਦੇ ‘ਅਰਥਸ਼ਾਸਤਰ’ ਅਤੇ ਮੈਗਸਥਨੀਜ਼ “ਇੰਡੀਕਾ” ਪੁਸਤਕਾਂ ਤੋਂ ਸਾਨੂੰ ਮੌਰੀਆ ਰਾਜ ਪ੍ਰਬੰਧ ਦਾ ਪਤਾ ਚਲਦਾ ਹੈ।

✓ (ਸਹੀ / ਗ਼ਲਤ)

ਪ੍ਰਸ਼ਨ 3. ਅਸ਼ੋਕ ਨੇ ਕਲਿੰਗ ਤੇ ਕਦੇ ਵੀ ਹਮਲਾ ਨਹੀਂ ਕੀਤਾ।

(ਸਹੀ / ਗ਼ਲਤ)

ਪ੍ਰਸ਼ਨ 4. ਮੈਗਸਥਨੀਜ਼ ਚੰਦਰ ਗੁਪਤ ਮੌਰੀਆ ਦੇ ਦਰਬਾਰ ਵਿੱਚ ਸੈਲਯੁਕਸ ਨਿਕਾਤੋਰ ਦਾ ਯੂਨਾਨੀ ਰਾਜਦੂਤ ਸੀ।

✓ (ਸਹੀ / ਗ਼ਲਤ)

ਪ੍ਰਸ਼ਨ 5. ਚੰਦਰ ਗੁਪਤ ਮੌਰੀਆ ਨੇ ਸਿੰਚਾਈ ਅਤੇ ਪੀਣ ਦੇ ਪਾਣੀ ਦਾ ਪ੍ਰਬੰਧ ਨਹੀਂ ਕੀਤਾ।

(ਸਹੀ / ਗ਼ਲਤ)




ਪ੍ਰਸ਼ਨ 6. ਮੌਰੀਆ ਵੰਸ਼ ਦਾ ਆਖਰੀ ਸਮਰਾਟ ਬ੍ਰਿਹਦਰਥ ਸੀ।

✓ (ਸਹੀ / ਗ਼ਲਤ)

ਹੇਠ ਲਿਖੇ ਦਾ ਸਹੀ ਮਿਲਾਨ ਕਰੋ :

- | | |
|-----------------|---------------------------|
| (1) ਕੋਟਲਿਆ | (ੳ) ਇਕ ਵਿਸ਼ਾਲ ਝੀਲ |
| (2) ਮੈਗਸਥਨੀਜ਼ | (ਅ) ਅਰਥਸ਼ਾਸਤਰ |
| (3) ਪੁਸ਼ਿਆਮਿੱਤਰ | (ੲ) ਇੰਡੀਕਾ |
| (4) ਸੁਦਰਸ਼ਨ | (ਸ) ਮੌਰੀਆ ਵੰਸ਼ ਦਾ ਸੈਨਾਪਤੀ |

ਚਿੱਤਰ ਦੇਖ ਕੇ ਸਮਾਰਕ ਦਾ ਨਾਂ ਅਤੇ ਸਥਾਨ ਦਾ ਨਾਂ ਦੱਸੋ:

ਸਮਾਰਕ/ਇਮਾਰਤ	ਸਮਾਰਕ ਅਤੇ ਸਥਾਨ ਦਾ ਨਾਂ
	<p>ਸਾਰਨਾਸੁ ਵਿਖੇ ਅਸ਼ੋਕ ਸਤੰਭ ਦਾ ਉਪਰਲਾ ਭਾਗ</p>
	<p>ਖਾਗਬਰ ਦੀ ਗੁਫ਼ਾ</p>
	<p>ਸ਼ਾਂਤੀਦਾ ਸਤੂਪ</p>

ਹੇਠ ਲਿਖੇ ਪ੍ਰਸ਼ਨਾਂ ਦੇ ਉੱਤਰ ਲਿਖੋ:

ਪ੍ਰਸ਼ਨ 1. ਮੈਗਸਥਨੀਜ਼ ਕੌਣ ਸੀ?

ਉੱਤਰ: ਮੈਗਸਥਨੀਜ਼ ਦੁਆਰਾ ਲਿਖੀ ਗਈ ਦੁਨੀਆਂ ਦਾ ਪ੍ਰਸਤੁਤ ਇਤਿਹਾਸ, ਮੈਗਸਥਨੀਜ਼
ਉਦੇਗ ਪੁਸਤਕ ਮੈਗਸਥਨੀਜ਼ ਦੇ ਦੁਆਰਾ ਲਿਖੀ ਗਈ ਸੀ। ਇਹ ਮੈਗਸਥਨੀਜ਼ ਨੇ ਆਪਣੇ ਯਾਤਰਾ ਦੌਰਾਨ ਲਿਖੀ ਸੀ।

ਪ੍ਰਸ਼ਨ 2. ਅਸ਼ੋਕ ਨੇ ਬੁੱਧ ਧਰਮ ਦਾ ਪ੍ਰਚਾਰ ਕਰਨ ਲਈ ਸ਼ੀਲੰਕਾ ਕਿਸ ਨੂੰ ਭੇਜਿਆ ਸੀ?

ਉੱਤਰ: ਅਸ਼ੋਕ ਨੇ ਬੁੱਧ ਧਰਮ ਦਾ ਪ੍ਰਚਾਰ ਕਰਨ ਲਈ ਆਪਣੇ ਪੁੱਤਰ ਮਹਿੰਦਰਾ ਨੂੰ ਭੇਜਿਆ ਸੀ।

ਪ੍ਰਸ਼ਨ 3. ਮੋਰੀਆ ਵੰਸ਼ ਦੇ ਸਮੇਂ ਸਿੱਖਿਆ ਦੇ ਮਹਾਨ ਕੇਂਦਰ ਕਿਹੜੇ ਸਨ?

ਉੱਤਰ: ਮੋਰੀਆ ਵੰਸ਼ ਦੇ ਸਮੇਂ ਤ ਕਸਿਲਾ, ਪਾਕਲੀਪੁੱਤਰ ਹਰਮਣ, ਵਰਾਨਸੀ
ਸਿੱਖਿਆ ਦੇ ਮਾਧਨ ਕੇਂਦਰ ਸਨ।

ਪਾਠ - ਭਾਰਤ 200 ਈ. ਪੂ. 300 ਈ. ਪੂ. ਤੱਕ

ਖਾਲੀ ਥਾਵਾਂ ਭਰੋ:

ਪ੍ਰਸ਼ਨ 1. ਵਿਪਿੰਆਚਲ ਪਰਬਤ ਅਤੇ ਨਰਮਦਾ ਨਦੀ ਦੇ ਵਿਚਕਾਰਲੇ ਇਲਾਕੇ ਨੂੰ ਦੱਕਣ
ਕਿਹਾ ਜਾਂਦਾ ਹੈ।

ਪ੍ਰਸ਼ਨ 2. ਗੌਤਮੀਪੁੱਤਰ ਸ਼ਾਤਕਰਣੀ ਇਕ ਮਹਾਨ ਸਤਵਾਹਨ ਸ਼ਾਸਕ ਸੀ।

ਪ੍ਰਸ਼ਨ 3. ਪੇਂਡੂ ਇਲਾਕਿਆਂ ਦਾ ਰਾਜ ਪ੍ਰਬੰਧ ਗੋਲਮੀਪੁੱਤਰ ਦੁਆਰਾ ਚਲਾਇਆ ਜਾਂਦਾ
ਸੀ।

ਪ੍ਰਸ਼ਨ 4. ਚੋਲ ਵੰਸ਼ ਦੀ ਰਾਜਧਾਨੀ ਤਿਰੂਚੂਰ ਸੀ।

ਪ੍ਰਸ਼ਨ 5. ਮਦੁਰਾ ਪਾਂਡਿਆ ਰਾਜ ਦੀ ਰਾਜਧਾਨੀ ਸੀ।

ਪ੍ਰਸ਼ਨ 6. ਭਾਰਤ ਵਿੱਚ ਈਸਾਈ ਧਰਮ ਦਾ ਪਰਸਾਰ ਸਭ ਤੋਂ ਪਹਿਲਾਂ ਮਾਕਾਥੀਰ ਅਤੇ
ਕੁਈ ਦੇ ਲੋਕਾਂ ਵਿੱਚ ਹੋਇਆ ਸੀ।
(ਮਹਾਨ)

ਬਹੁ-ਵਿਕਲਪੀ ਪ੍ਰਸ਼ਨ-ਉੱਤਰ

ਪ੍ਰਸ਼ਨ 1. ਗੌਤਮੀਪੁੱਤਰ ਸ਼ਾਤਕਰਣੀ ਕਿਸ ਵੰਸ਼ ਦਾ ਸ਼ਾਸਕ ਸੀ?

(ੳ) ਚੇਰ

(ਅ) ਚੋਲ

(ੲ) ਸਤਵਾਹਨ

ਪਾਠ- ਸਮੁਦਾਇ ਅਤੇ ਮਨੁੱਖੀ ਲੋੜਾਂ

ਬਹੁ-ਵਿਕਲਪੀ ਪ੍ਰਸ਼ਨ-ਉੱਤਰ

1. ਬੱਚੇ ਦਾ ਮੁੱਢਲਾ ਅਤੇ ਪਹਿਲਾ ਸਮਾਜ ਕਿਹੜਾ ਹੈ ?

(ੳ) ਸਕੂਲ

(ਅ) ਆਂਢ-ਗੁਆਂਢ

(ੲ) ਪਰਿਵਾਰ

(ਸ) ਦੋਸਤ

2. ਸਮਾਜ ਦੀ ਮੁੱਢਲੀ ਇਕਾਈ ਕਿਹੜੀ ਹੈ ?

(ੳ) ਪਰਿਵਾਰ

(ਅ) ਆਂਢ-ਗੁਆਂਢ

(ੲ) ਪਿੰਡ ਜਾਂ ਸ਼ਹਿਰ

(ਸ) ਸਮੁਦਾਇ

3. ਮੁੱਢਲੇ ਮਨੁੱਖ ਨੇ ਪ੍ਰਾਚੀਨ ਸਮੇਂ ਵਿੱਚ ਸਭ ਤੋਂ ਪਹਿਲਾਂ ਕਿਸ ਦੇ ਹਥਿਆਰ ਬਣਾ ਕੇ ਸ਼ਿਕਾਰ ਕੀਤਾ ?

(ੳ) ਲੋਹੇ ਦੇ

(ਅ) ਪੱਥਰ ਦੇ

(ੲ) ਲੱਕੜ ਦੇ

(ਸ) ਸਾਰੇ ਹੀ

4. ਸਮੁਦਾਇਕ ਜੀਵਨ ਦਾ ਆਰੰਭ ਕਿਸ ਧੰਦੇ ਤੋਂ ਬਾਅਦ ਸ਼ੁਰੂ ਹੋਇਆ ?

(ੳ) ਸ਼ਿਕਾਰ

(ਅ) ਪਸ਼ੂ ਪਾਲਣ

(ੲ) ਖੇਤੀ-ਬਾੜੀ

(ਸ) ਇਨ੍ਹਾਂ ਵਿੱਚੋਂ ਕੋਈ ਵੀ ਨਹੀਂ

5. ਇੱਕ ਥਾਂ ਤੇ ਰਹਿਣ ਵਾਲੇ, ਸਾਂਝੇ ਉਦੇਸ਼ ਵਾਲੇ ਸੰਗਠਿਤ ਸਮੂਹ ਨੂੰ ਕੀ ਕਿਹਾ ਜਾਂਦਾ ਹੈ ?

(ੳ) ਪਰਿਵਾਰ

(ਅ) ਆਂਢ-ਗੁਆਂਢ

(ੲ) ਪਿੰਡ ਜਾਂ ਸ਼ਹਿਰ

(ਸ) ਸਮੁਦਾਇ

ਖਾਲੀ ਥਾਵਾਂ ਭਰੋ:

1. ਮਨੁੱਖ ਦੀ ਕਾਢ ਕਾਰਨ ਮਨੁੱਖ ਨੇ ਆਪਣਾ ਭੋਜਨ ਪਕਾ ਕੇ ਖਾਣਾ ਸ਼ੁਰੂ ਕਰ ਦਿੱਤਾ ।

2. ਆਵਾਜਾਈ ਦੇ ਸਾਧਨਾਂ ਦਾ ਵਿਕਾਸ ਪਰਿਵਾਰ ਦੀ ਖੋਜ ਕਾਰਨ ਹੋਇਆ ।

3. ਮਨੁੱਖੀ ਸੱਭਿਅਤਾ ਦੇ ਵਿਕਾਸ ਵਿੱਚ ਕੁੱਤੇ ਦੀ ਖੋਜ ਬੜੀ ਮਹੱਤਵਪੂਰਨ ਹੈ ।

4. ਜਨਸੰਖਿਆ ਦੇ ਵਧਣ ਨਾਲ ਸਮੁਦਾਇ ਤੋਂ ਪਿੰਡ, ਕਸਬੇ ਅਤੇ ਸ਼ਹਿਰ ਬਣੇ ।

5. ਪਰਿਵਾਰ ਸਾਡੀਆਂ ਮੁੱਢਲੀਆਂ ਲੋੜਾਂ ਅਤੇ ਸਮਾਜ ਸਾਡੀਆਂ ਸਾਂਝੀਆਂ ਲੋੜਾਂ ਦੀ ਪੂਰਤੀ ਲਈ ਹੋਂਦ ਵਿੱਚ ਆਏ ।

ਪਾਠ- ਪੇਂਡੂ ਵਿਕਾਸ ਅਤੇ ਸਥਾਨਕ ਸਰਕਾਰ

ਬਹੁ-ਵਿਕਲਪੀ ਪ੍ਰਸ਼ਨ-ਉੱਤਰ

1. ਭਾਰਤ ਇੱਕ ਖੇਤੀ ਪ੍ਰਧਾਨ ਦੇਸ਼ ਹੈ। ਇਸ ਦੀ ਲਗਭਗ ਕਿੰਨੇ ਪ੍ਰਤਿਸ਼ਤ ਜਨਸੰਖਿਆ ਪਿੰਡਾਂ ਵਿੱਚ ਰਹਿੰਦੀ ਹੈ ?

(ੳ) 65%

(ਅ) 45%

(ੲ) 75%

(ਸ) 55%

2. ਸਾਡੇ ਰਾਜ ਪੰਜਾਬ ਵਿੱਚ ਹੁਣ ਕਿੰਨੇ ਜ਼ਿਲ੍ਹੇ ਹਨ ?

(ੳ) 22

(ਅ) 12

(ੲ) 20

(ਸ) 21

3. ਮੁਫਤ ਤੇ ਲਾਜ਼ਮੀ ਸਿੱਖਿਆ ਕਿੰਨੀ ਉਮਰ ਤੱਕ ਦੇ ਬੱਚਿਆਂ ਨੂੰ ਦਿੱਤੀ ਜਾਣ ਦੀ ਵਿਵਸਥਾ ਹੈ ?

(ੳ) 6-18 ਸਾਲ

(ਅ) 6-14 ਸਾਲ

(ੲ) 8-14 ਸਾਲ

(ਸ) ਸਾਰੇ ਹੀ

4. ਭਾਰਤੀ ਸ਼ਾਸਨ ਪ੍ਰਬੰਧ ਦੀ ਸਭ ਤੋਂ ਛੋਟੀ ਇਕਾਈ ਕਿਹੜੀ ਹੈ ?

(ੳ) ਪਿੰਡ

(ਅ) ਪੰਚਾਇਤ

(ੲ) ਜ਼ਿਲ੍ਹਾ ਪ੍ਰੀਸ਼ਦ

(ਸ) ਇਨ੍ਹਾਂ ਵਿੱਚੋਂ ਕੋਈ ਵੀ ਨਹੀਂ

5. ਬਲਾਕ ਸੰਮਤੀ ਦੀ ਚੋਣ ਲੜਨ ਲਈ ਘੱਟੋ-ਘੱਟ ਕਿੰਨੀ ਉਮਰ ਹੋਣੀ ਜ਼ਰੂਰੀ ਹੈ ?

(ੳ) 25 ਸਾਲ

(ਅ) 18 ਸਾਲ

(ੲ) 21 ਸਾਲ

(ਸ) ਉਮਰ ਦੀ ਕੋਈ ਹੱਦ ਨਹੀਂ

6. ਪੰਜਾਬ ਵਿੱਚ ਕੁੱਲ ਕਿੰਨੀਆਂ ਬਲਾਕ ਸੰਮਤੀਆਂ ਹਨ ?

(ੳ) 146

(ਅ) 156

(ੲ) 246

(ਸ) 346

ਖਾਲੀ ਥਾਵਾਂ ਭਰੋ:

1. ਹਰੇਕ ਪਿੰਡ ਜਿਸ ਦੀ ਜਨਸੰਖਿਆ 200 ਤੋਂ ਵੱਧ ਹੋਵੇ, ਸਥਾਨਕ ਕੰਮਾਂ ਲਈ ਗ੍ਰਾਮ ਪੰਚਾਇਤ ਬਣਾਈ ਜਾ ਸਕਦੀ ਹੈ।

2. ਪੰਚਾਇਤ ਦੇ ਕੁੱਲ ਮੈਂਬਰਾਂ ਦਾ ਤੀਸਰਾ ਹਿੱਸਾ 1/3 ਮੈਂਬਰਾਂ ਦਾ ਹੋਣਾ ਜ਼ਰੂਰੀ ਹੈ।

3. ਪੰਚਾਇਤ ਸੰਮਤੀ ਦੇ ਘੱਟ ਤੋਂ ਘੱਟ 15 ਅਤੇ ਵੱਧ ਤੋਂ ਵੱਧ 25 ਮੈਂਬਰ ਸਿੱਧੇ ਤੌਰ ਤੇ ਵੋਟਰਾਂ ਵੱਲੋਂ ਚੁਣੇ ਜਾਂਦੇ ਹਨ।

4. ਪੰਜਾਬ ਦੀਆਂ ਕੁੱਲ 13080 ਪੰਚਾਇਤਾਂ ਹਨ।

5. ਭਾਰਤ ਵਿੱਚ 29 ਰਾਜ ਅਤੇ 7 ਕੇਂਦਰੀ ਸ਼ਾਸਤ ਪ੍ਰਦੇਸ਼ ਹਨ।

6. ਭਾਰਤ ਵਿੱਚ ਪਿੰਡਾਂ ਦੀ ਗਿਣਤੀ ਲਗਭਗ 6 ਲੱਖ ਹੈ।